

Ф. Хасанова, Г. Даулетова

ШАХМАТЫ

2
КЛАСС

РАБОЧАЯ ТЕТРАДЬ № 2

Blank writing area with four horizontal lines.



Научно-образовательный фонд им. Академ. Шахмардана Есенова
АЛМАТЫ, 2017

Ф. Хасанова, Г. Даулетова

ШАХМАТЫ

2

класс

РАБОЧАЯ ТЕТРАДЬ № 2



Научно-образовательный фонд им. Академ. Шахмардана Есенова
АЛМАТЫ, 2017

УДК 373.167.1:794.1
Ш 31

Ш 31 Шахматы: Рабочая тетрадь № 2 к учебному пособию № 2
2 класса общеобразоват. шк. / сост. Ф.С. Хасанова, Г.Б.
Даулетова. — Алматы, 2017 — 148 стр.

ISBN 978-601-7218-21-8

УДК 373.167.1:794.1

© Научно-образовательный фонд им.
Академ. Шахмардана Есенова, 2017
© Печать ТОО «Brand Book», 2017



Дорогой друг!

Теперь ты уже не тот новичок, каким был полгода назад! Ты уже многое знаешь о шахматах, об их правилах и шахматных фигурах. Наступила пора заняться самым интересным и главным. Мы должны разобраться в том, как шахматные фигуры взаимодействуют друг с другом, как меняется их сила с каждым твоим ходом. В этом тебе поможет твой учитель и эта тетрадь. Ты найдёшь в ней задания, справившись с которыми, станешь настоящим шахматистом!

Желаем тебе новых успехов в изучении шахмат!

СОДЕРЖАНИЕ

Приветствие	3
§ 16. Нападение	5
§ 17. Ценность фигур	12
§ 18. Основные шахматные правила. Нападение и защита фигуры	20
§ 19. Нападение и защита фигуры. Разные виды защиты	26
§ 20. Защищённые и незащищённые фигуры	34
§ 21. Двойной удар	41
§ 22. Особая роль короля. Шах	49
§ 23. Защита от шаха	57
§ 24. Мат	64
§ 25. Мат в один ход	73
§ 26. Взаимодействие фигур	80
§ 27. Линейный мат	88
§ 28. Ничья. Виды ничьи	97
§ 29. Особый ход короля. Рокировка	107
§ 30. Повторение особого хода короля. Особый ход пешки. Взятие на проходе	114
§ 31. Шахматная этика. Правила поведения во время игры	121
§ 32. Шахматная партия	127
§ 33. Дебютные ошибки	133
§ 34. Итоговое проверочное занятие	138
Заключительное слово	147



§ 16. Нападение

Задание № 1

Все ли фигуры могут нападать на фигуры соперника?

Ответ запиши: _____.

Задание № 2

По каким линиям ферзь выгоднее атаковать ладью?

Ответ запиши: _____.

Задание № 3



На шахматной доске расположены белый слон и чёрный ферзь. Выгодно ли нападать слоном на ферзя?

Ответ запиши: _____.





Задание № 4

Напади как можно быстрее белой ладьёй на чёрную пешку. Ответ запиши:



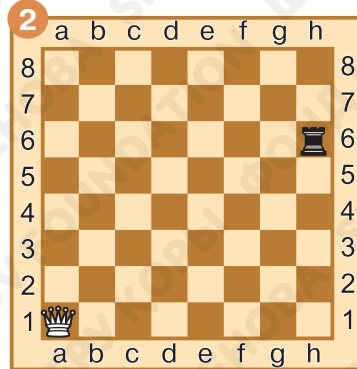

Задание № 5

Напади как можно быстрее белым слоном на чёрную пешку. Ответ запиши:



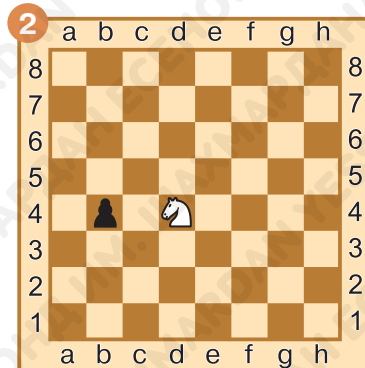

Задание № 6

Укажи все возможные нападения белого ферзя. Ферзь самому нельзя становиться под бой неприятельских фигур.



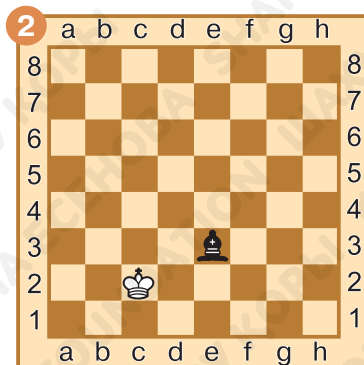
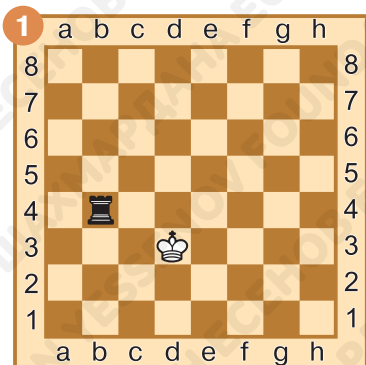
Задание № 7

Напади конём на чёрную пешку. Запиши все возможные варианты нападения:



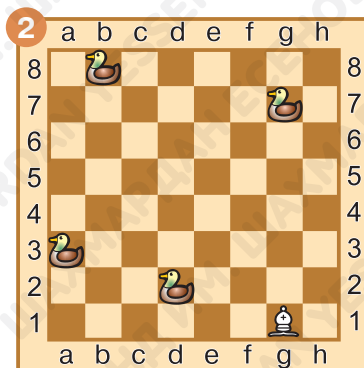
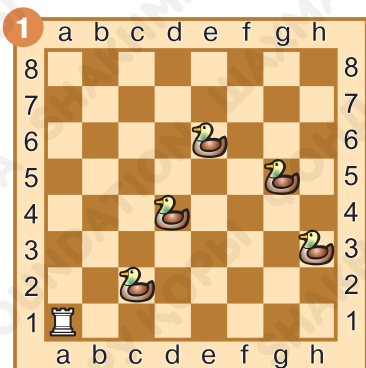
Задание № 8

Атакуй королём неприятельскую фигуру. Помни, король под бой ходить не имеет права. Ответ запиши:



Задание № 9

Охотник отправился на охоту пострелять уток. Помоги ему выполнить эту работу. Ответ запиши. (Сначала прицелься, потом побей).



Задание № 10

Как ты оцениваешь свою работу на уроке? Выбери ответ (зачеркни ненужное, оставь один вариант):



Домашнее задание:

Задание № 11

Можно ли побить неприятельскую фигуру, не атакая на неё?

Ответ запиши: _____.

Задание № 12

На шахматной доске расположены белая пешка и чёрный слон. Выгодно ли пешкой нападать на слона?

Ответ запиши: _____.

Задание № 13

Может ли король атаковать ферзя?

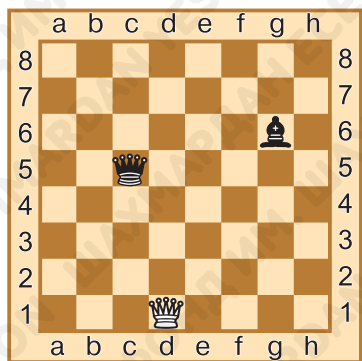
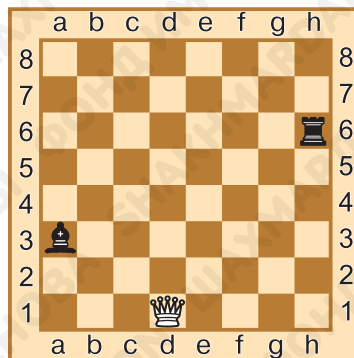
Ответ запиши: _____.



Задание № 14

Может ли белый ферзь атаковать ладью так, чтобы самому не стать под бой неприятельских фигур?

Запиши этот ход: _____.



Задание № 15

Может ли белый ферзь атаковать слона так, чтобы самому не стать под бой неприятельских фигур?

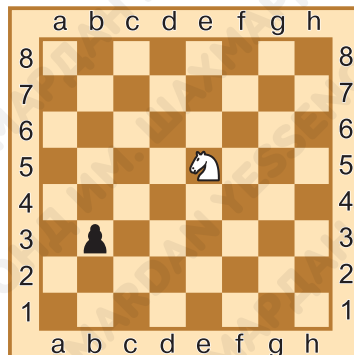
Запиши этот ход: _____.

Задание № 16

Какое минимальное количество ходов потребуется коню, чтобы атаковать пешку?

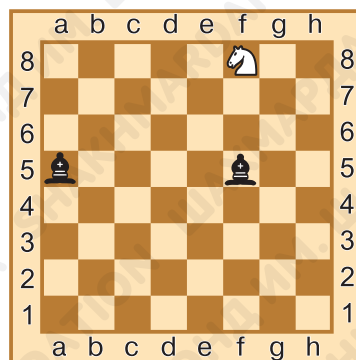
Решение запиши:

_____.



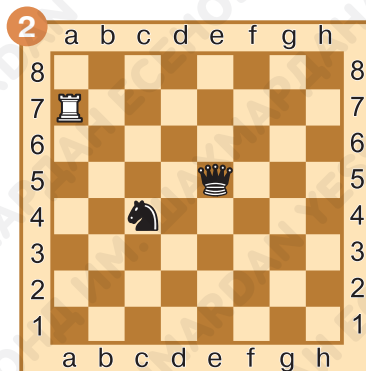
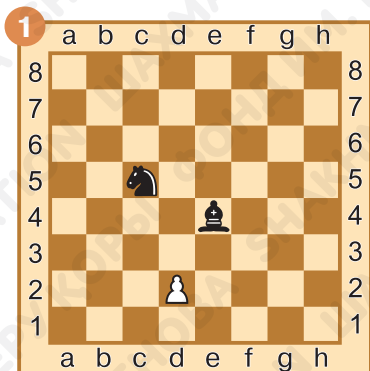
Задание № 17

Из конюшни хана сбежал волшебный конь (тулпар). Хан велел батырам изловить коня. Как им справиться с этой задачей? (Напади на белого коня чёрной фигурой так, чтобы коню некуда было пойти). Ответ запиши:



Задание № 18

Выбери мишень. Прицелься белой фигурой на одну из чёрных. Свою фигуру под бой ставить нельзя. Ответ запиши:



§ 17. Ценность фигур

Задание № 1

В каких единицах измеряется сила шахматных фигур?

Ответ запиши: _____.

Задание № 2

Какая фигура сильнее — ладья или конь?

Ответ запиши: _____.

Задание № 3

Что сильнее — ладья с конём или ферзь?

Ответ запиши: _____.

Задание № 4

Сосчитай и напиши, сколько пешек стоят фигуры.

$$\text{Конь} + \text{Ферзь} + \text{Пешка} =$$

$$\text{Конь} + \text{Ладья} =$$

$$\text{Ферзь} + \text{Ладья} + \text{Ладья} =$$




Задание № 5

Сравни силу фигур, поставив знак «больше», «меньше» или «равно».

$$\text{Конь} + \text{Ладья} < \geq = \text{Слон}$$

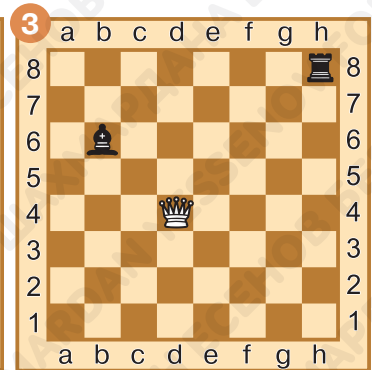

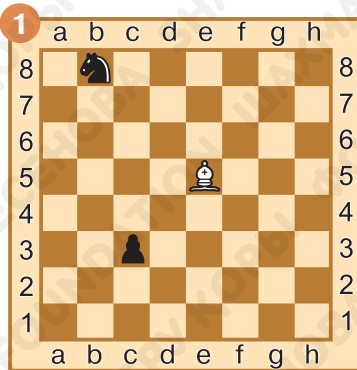
$$\text{Слон} + \text{Слон} < > = \text{Король}$$

$$\text{Слон} + \text{Конь} < > = \text{Король}$$



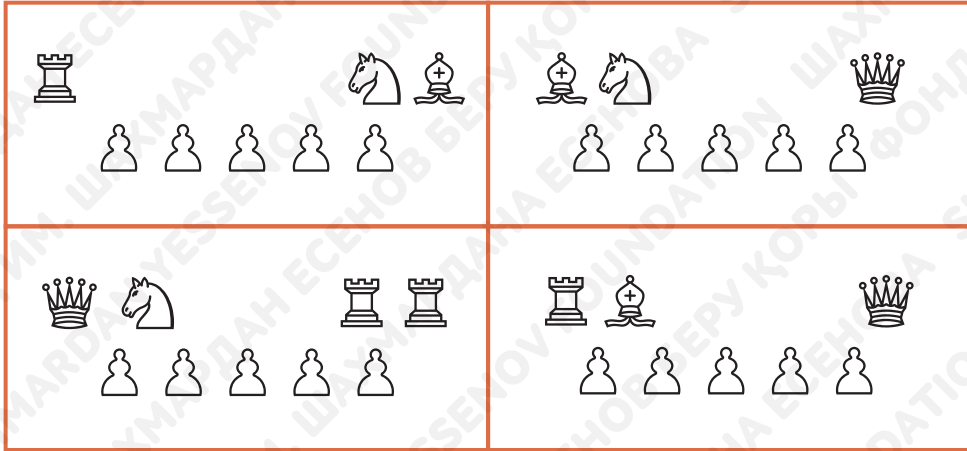
Задание № 6

Какую фигуру белым взять выгоднее? Нужный ход запиши:



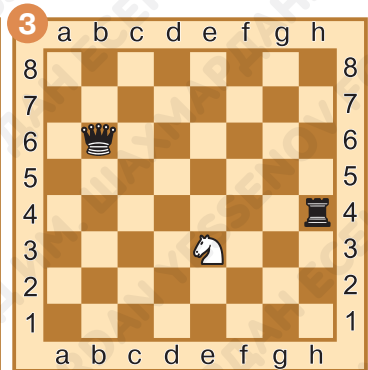
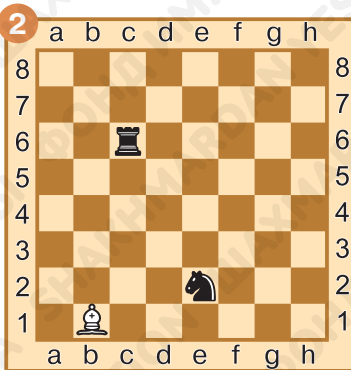
Задание № 7

Уравновесь шахматные весы. Сколько пешек и на какую чашу весов надо добавить, чтобы уравновесить весы? Закрась нужное количество пешек:



Задание № 8


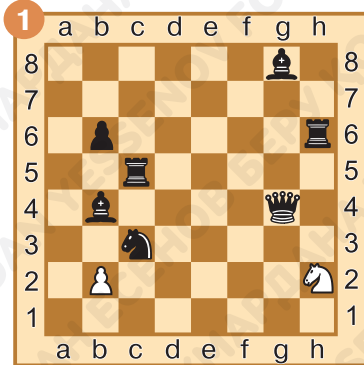
Напади белой фигурой на более ценную чёрную фигуру. Ход запиши:



Задание № 9

Белые фигуры осуществляют взятие чёрных фигур.
Какая из белых фигур соберёт более ценный урожай?

Ответ запиши:



Задание № 10

Алдар-Косе отправился в шахматный магазин за шахматными фигурами. Помоги Алдару-Косе посчитать, сколько стоит его покупка.

1 пешка = 1 монета.

$$\begin{aligned}
 & \text{queen} + \text{bishop} + \text{rook} + \text{pawn} = \\
 & \text{rook} + \text{knight} + \text{knight} + \text{bishop} + \text{pawn} + \text{pawn} = \\
 & \text{queen} + \text{rook} + \text{rook} + \text{knight} + \text{pawn} + \text{pawn} + \text{pawn} = \\
 & \text{rook} + \text{bishop} + \text{knight} + \text{pawn} =
 \end{aligned}$$



Задание № 11

Как ты оцениваешь свою работу на уроке? Выбери ответ (зачеркни ненужное, оставь один вариант):



Домашнее задание:

Задание № 12

Какая фигура сильнее — слон или конь?

Ответ запиши: _____.

Задание № 13

Сколько пешек стоит ладья?

Ответ запиши: _____.

Задание № 14

Сколько пешек стоит ферзь?

Ответ запиши: _____.



Задание № 15

Реши следующие шахматные примеры, указав в ответе шахматную фигуру.


а) ♔ - ♞ - ♙ - ♚ =

б) ♖ + ♜ + ♙ + ♙ =

в) ♞ + ♙ + ♙ =

г) ♔ - ♜ =

д) ♖ + ♞ + ♞ + ♙ =



Задание № 16

Реши следующие шахматные уравнения, поставив вместо вопросительного знака шахматную фигуру.

а) ♜ - ? = 2

б) ♖ + 5 = ♞ + ?

в) ♖ + ? = ♔ - 4

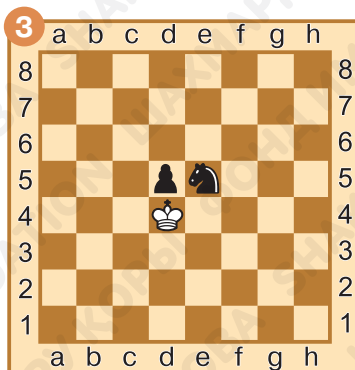
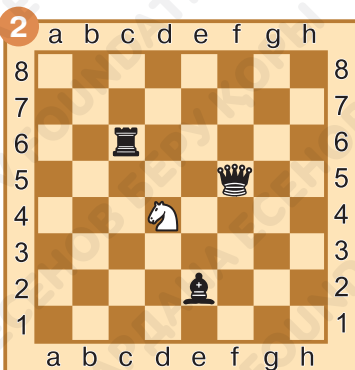

г) ? + ♞ = ♔ - 2

д) ♙ + ? + ♞ = 7



Задание № 17

Какую фигуру белым взять выгоднее? Запиши правильный ход:



Задание № 18

Посчитай силу каждой армии. С помощью знаков «больше >», «меньше <», «равно =» сравни белую и чёрную армии.


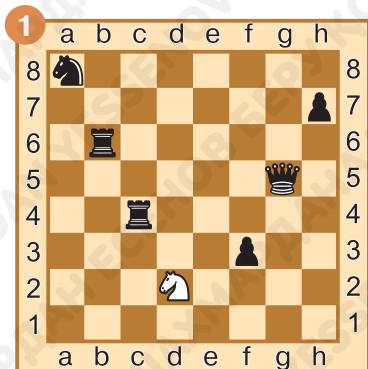


Белые _____ чёрные.

Белые _____ чёрные.

Задание № 19

Купец стоит на развилке дороги и думает, в какую сторону ему идти. Где ему удастся приобрести более ценный товар? Помоги купцу сделать правильный выбор.



§ 18. Основные шахматные правила. Нападение и защита фигуры

Задание № 1

Армии какого цвета принимают участие в шахматной игре?

Ответ запиши: _____.

Задание № 2

Как называется перемещение шахматной фигуры с одного поля на другое?

Ответ запиши: _____.

Задание № 3

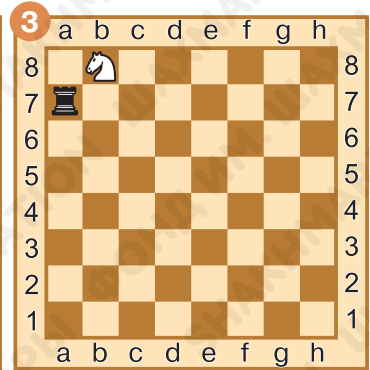
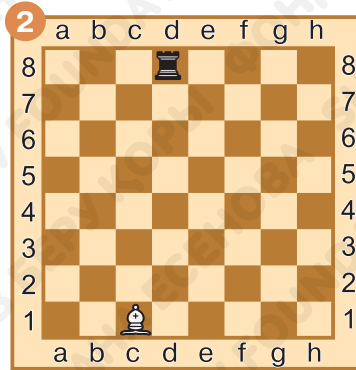
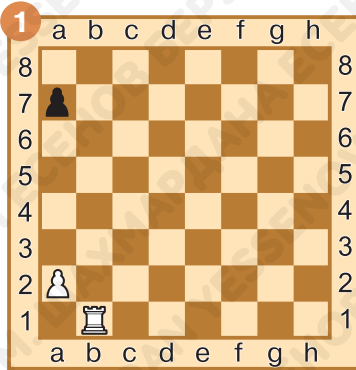
Можно ли в шахматах сделать два хода подряд фигурами одного цвета?

Ответ запиши:
_____.



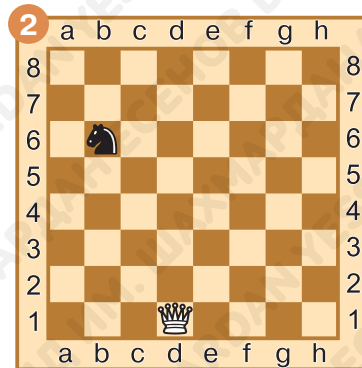
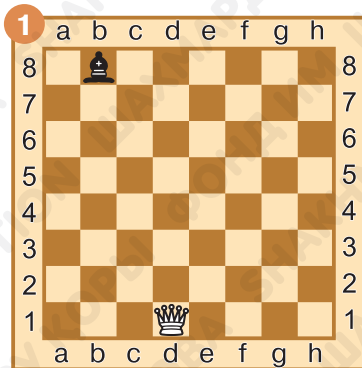
Задание № 4

Напади белой фигурой на чёрную. Ход запиши:




Задание № 5

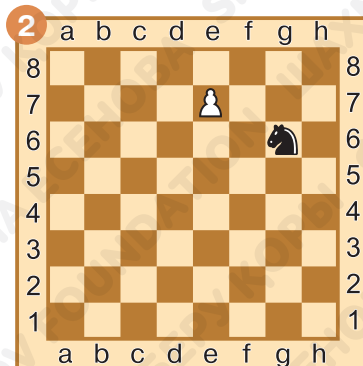
Посчитай, сколько различных способов нападения на чёрную фигуру есть у белого ферзя. Будь внимателен, свою фигуру под бой ставить нельзя. Ответ запиши:



Задание № 6


Вспомни правило превращения пешки и подумай, в какую фигуру надо превратить пешку, чтобы она напала на неприятельскую фигуру. Ответ запиши:

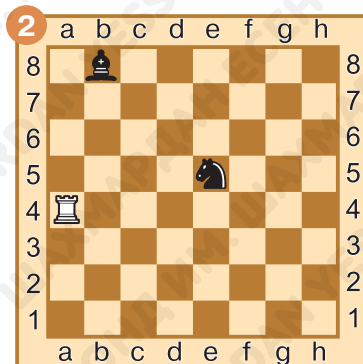




Задание № 7

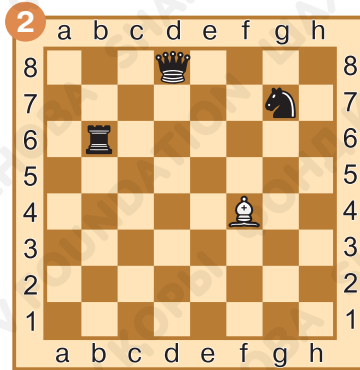

На какую фигуру выгодно напасть белой ладье? Правильный ход запиши:





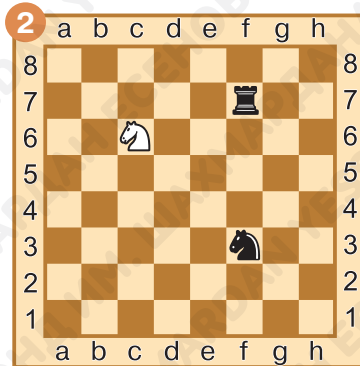
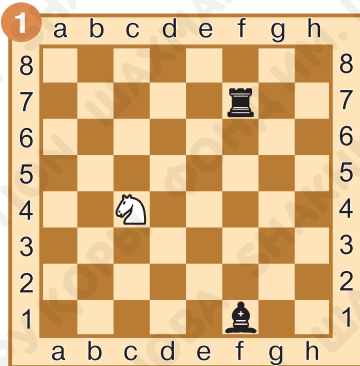
Задание № 8

На какую фигуру выгодно напасть белому слону? Правильный ход запиши:



Задание № 9

На какую фигуру выгодно напасть белому коню? Правильный ход запиши:



Задание № 10

Как ты оцениваешь свою работу на уроке? Выбери ответ (зачеркни ненужное, оставь один вариант):



Домашнее задание:

Задание № 11

Какая шахматная фигура может перепрыгивать через свои и неприятельские фигуры?

Ответ запиши: _____.

Задание № 12

Можно ли за один ход побить две неприятельские фигуры?

Ответ запиши: _____.

Задание № 13

Можно ли в шахматной игре пропустить ход?

Ответ запиши: _____.



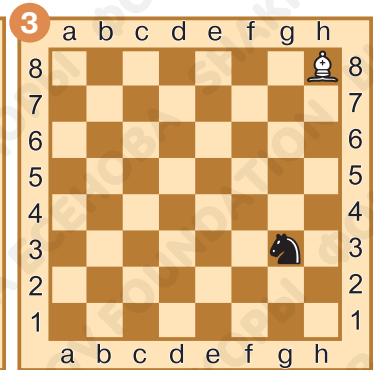
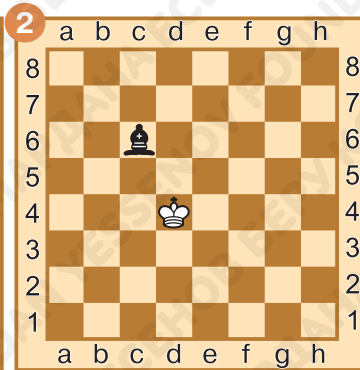
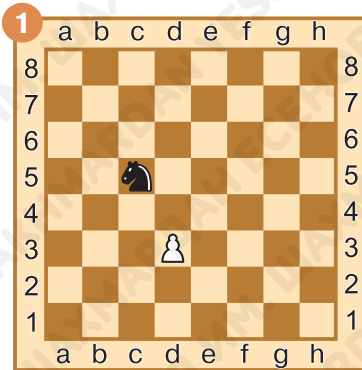
Задание № 14

Как называются действия, с помощью которых отражается угроза нападения?

Ответ запиши: _____.

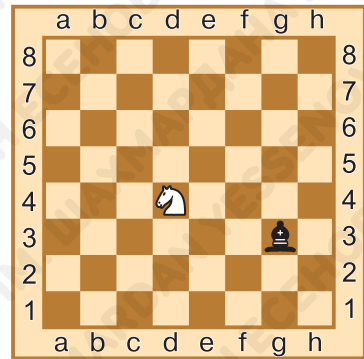

Задание № 15

Напади белой фигурой на чёрную. Ход запиши:





Задание № 16

Найди и запиши все возможные нападения белого коня.



Задание № 17

Определи, какую фигуру выгодно атаковать белому ферзю. Правильный ход запиши:



§ 19. Нападение и защита фигуры. Разные виды защиты

Задание № 1

На свободной от других шахматных фигур доске — белый слон и чёрный ферзь. Выгодно ли слоном нападать на ферзя?

Ответ запиши: _____.

Задание № 2

Выгодно ли белым ферзём нападать на чёрного ферзя?

Ответ запиши: _____.



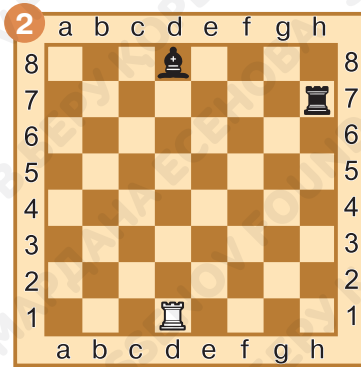
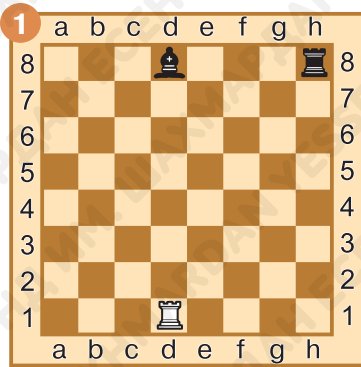
Задание № 3

От нападения каких фигур нельзя защититься перекрытием?

Ответ запиши:

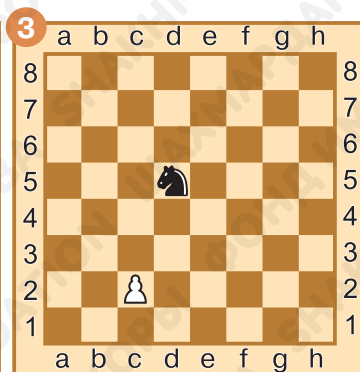
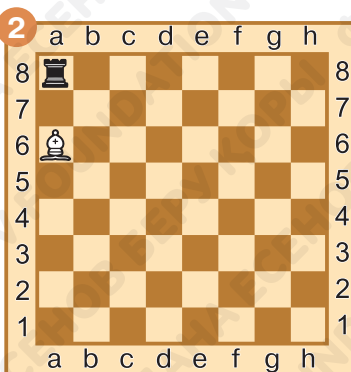

Задание № 4

Выгодно ли белым в следующих положениях бить чёрную фигуру?



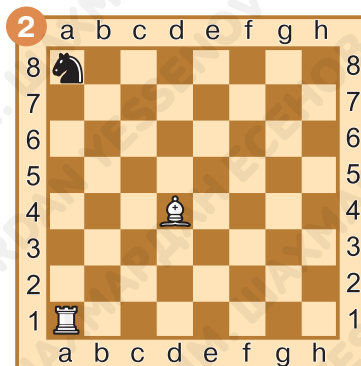

Задание № 5

Атакуй чёрную фигуру. Ход запиши:



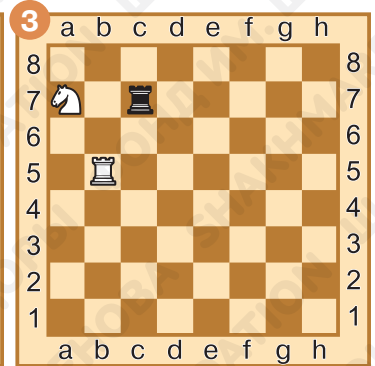

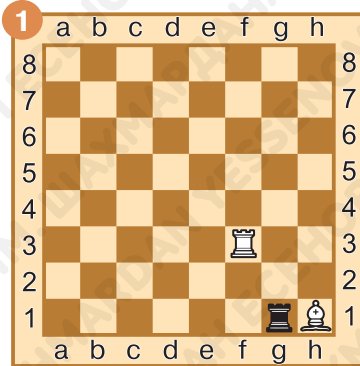
Задание № 6

Белая фигура атакует чёрную фигуру. Уйди чёрной фигурой от нападения.



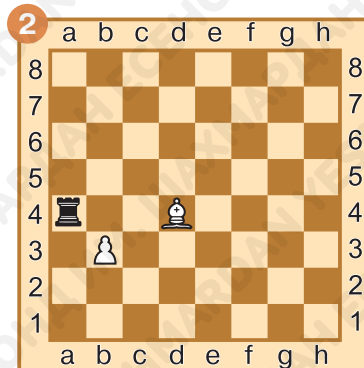
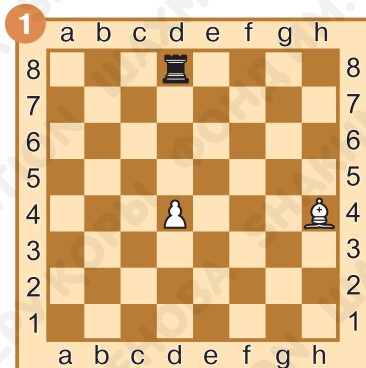
Задание № 7

Белая фигура атакована. Какой ход могут сделать белые, чтобы не потерять свою фигуру? Запиши правильный ход:



Задание № 8



Одна из белых фигур находится под боем. Найди лучший способ защититься от угрозы взятия. Ход запиши:





Задание № 9

Защити атакованную фигуру, используя перекрытие атакующей фигуры. Ход запиши:



Задание № 10

Как ты оцениваешь свою работу на уроке? Выбери ответ (зачеркни ненужное, оставь один вариант):



Домашнее задание:

Задание № 11

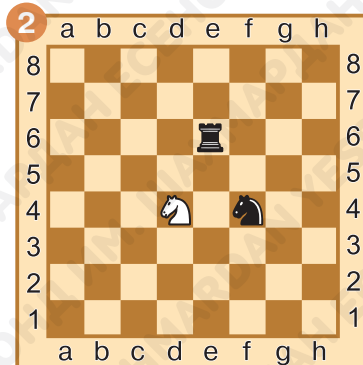
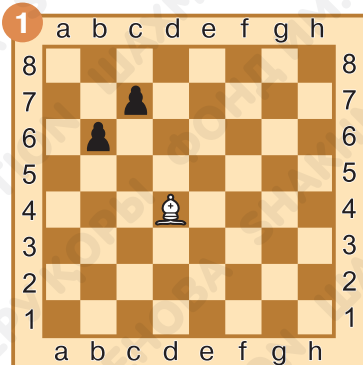
На шахматной доске есть только белая ладья и чёрный ферзь. Разумно ли ладьёй нападать на ферзя?

Ответ запиши: _____.



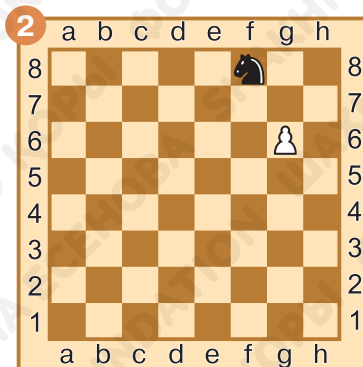
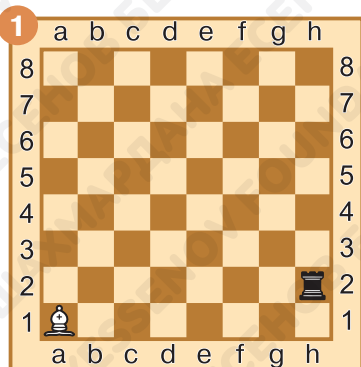
Задание № 12

Выгодно ли белым в следующих положениях бить чёрную фигуру? Ответ запиши:



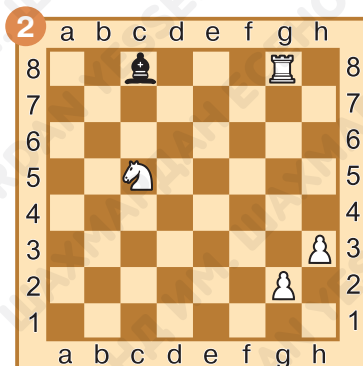
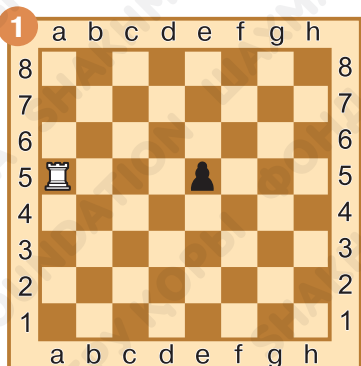
Задание № 13

Атакуй чёрную фигуру. Ход запиши:




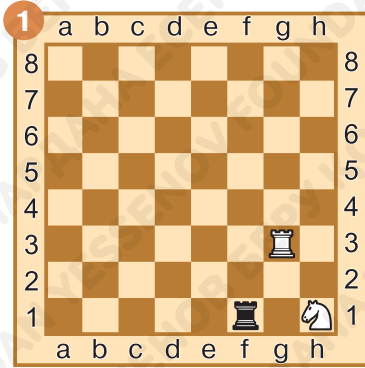
Задание № 14

Спаси атакованную фигуру, отойдя в безопасное место. Ход запиши:



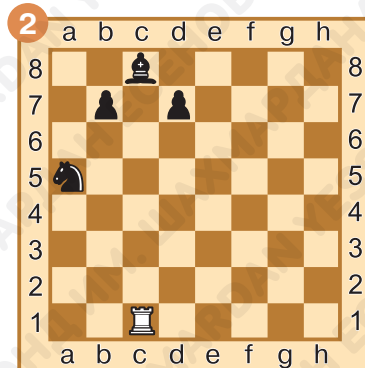

Задание № 15

Защити атакованную фигуру. Ход запиши:




Задание № 16

Перекрой атакованную фигуру. Ход запиши:



Задание № 17

Ход белых. Одна из их фигур атакована. Найди лучшую защиту. Ход запиши:



§ 20. Защищённые и незащищённые фигуры

Задание № 1


Белые ладья и слон расположены на одной вертикали. Какая из двух фигур является защищённой?

Ответ запиши: _____.

Задание № 2

Белые ладья и слон расположены на одной диагонали. Какая из двух фигур является защищённой?

Ответ запиши: _____.



Задание № 3

Сколько фигур одновременно может защищать ладья, если она стоит в центре доски?

Ответ запиши: _____.

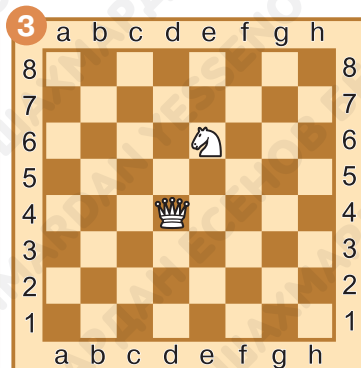
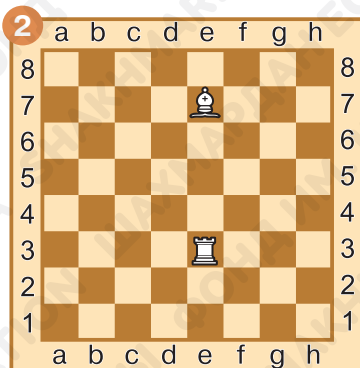
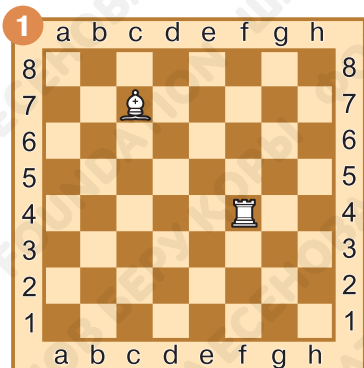
Задание № 4

Сколько фигур одновременно может защищать ферзь, расположенный в середине доски?

Ответ запиши: _____.

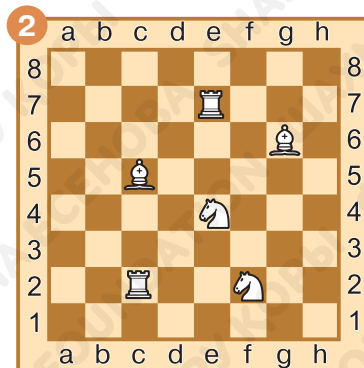
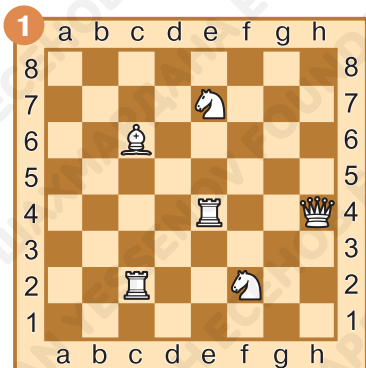
Задание № 5

Определи, какая из фигур является защищённой, а какая незащищённой. Обведи защищённую фигуру зелёным цветом, а незащищённую — красным.




Задание № 6

Найди все защищённые фигуры. Обведи защищённые фигуры зелёным цветом.




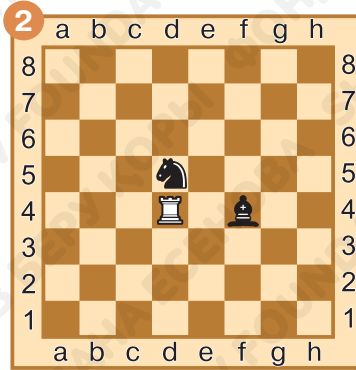
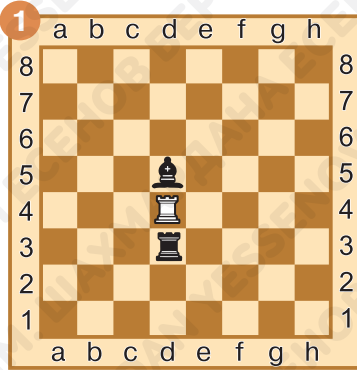
Задание № 7

Найди все незащищённые фигуры. Обведи незащищённые фигуры красным цветом.



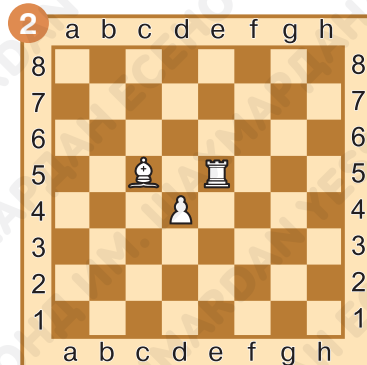
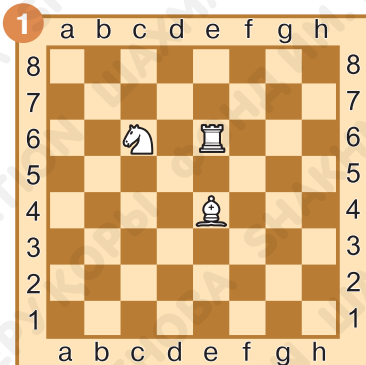
Задание № 8

Побей незащищённую фигуру. Ход запиши:



Задание № 9

Какая из белых фигур защищает больше своих фигур? Ответ запиши:



Задание № 10

Как ты оцениваешь свою работу на уроке? Выбери ответ (зачеркни ненужное, оставь один вариант):



Домашнее задание:

Задание № 11

На доске, свободной от других фигур, на одной горизонтали расположены конь и ферзь. Какая из двух фигур является незащищённой?

Ответ запиши: _____.

Задание № 12

Белые слон и ферзь расположены на одной диагонали. Есть ли на доске незащищённые фигуры?

Ответ запиши: _____.



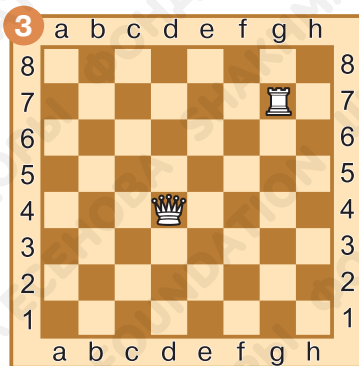
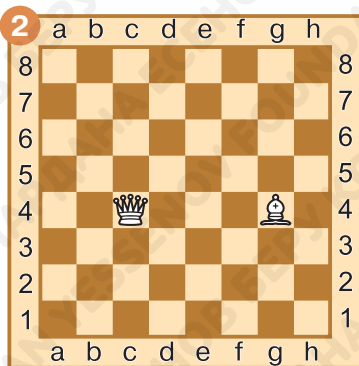
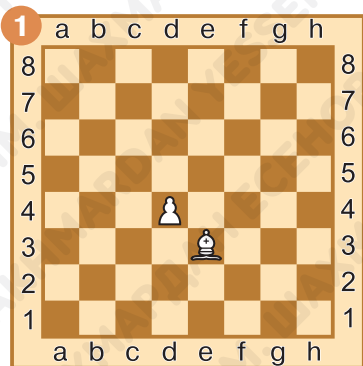
Задание № 13

Сколько фигур одновременно может защищать пешка, находящаяся на центральной вертикали?

Ответ запиши: _____.

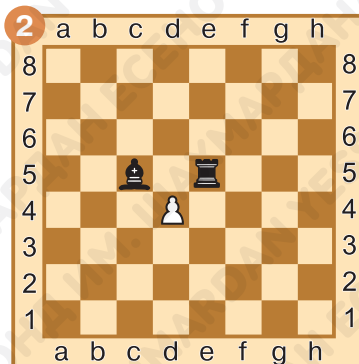
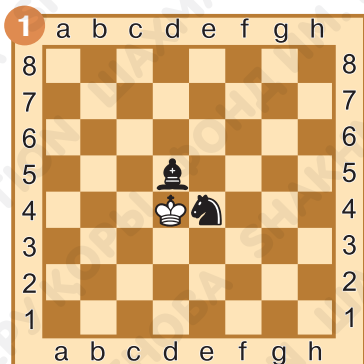
Задание № 14

Определи, какая из фигур является защищённой, а какая незащищённой. Обведи защищённую фигуру зелёным цветом, а незащищённую — красным.



Задание № 15

Побей незащищённую фигуру. Ход запиши:



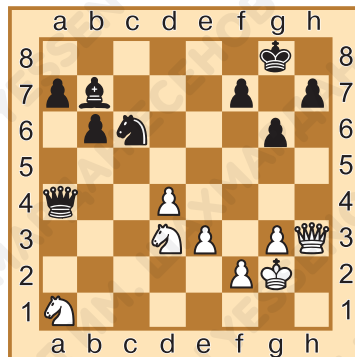
Задание № 16

Найди все незащищённые фигуры у белых и у чёрных. Обведи их красным цветом.



Задание № 17

Найди незащищённую фигуру белых, которой угрожает опасность, и защити её своей фигурой. Ход запиши:



§ 21. Двойной удар

Задание № 1

Как называется одновременное нападение на две фигуры соперника?

Ответ запиши: _____

_____.





Задание № 2

На сколько фигур одновременно может нападать конь, стоящий в центре доски?

Ответ запиши: _____.

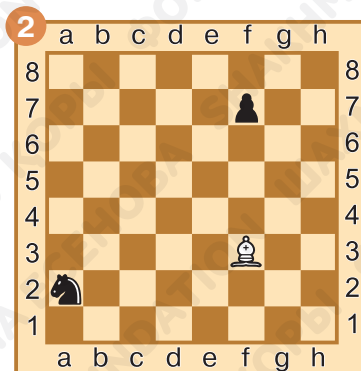
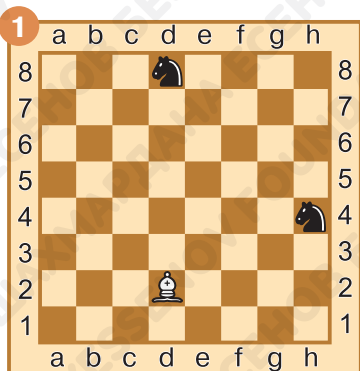
Задание № 3

Нанеси двойной удар ладьёй. Ход запиши:



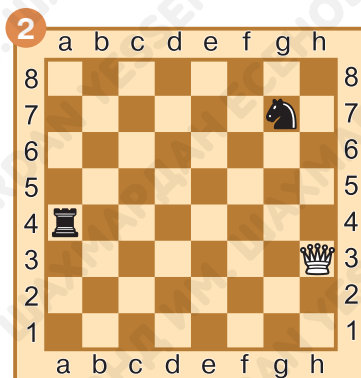
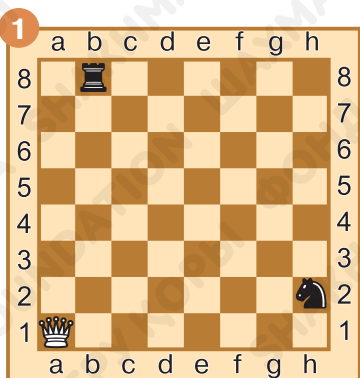
Задание № 4

Нанеси двойной удар слоном. Ход запиши:



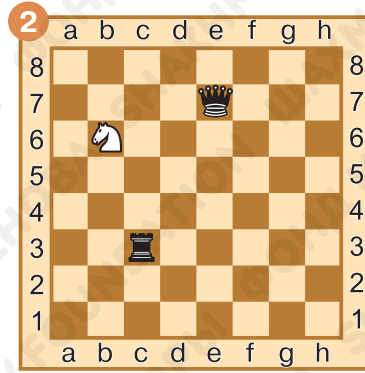
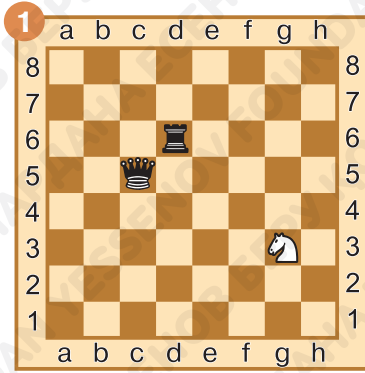
Задание № 5

Нанеси двойной удар ферзём. Ход запиши:



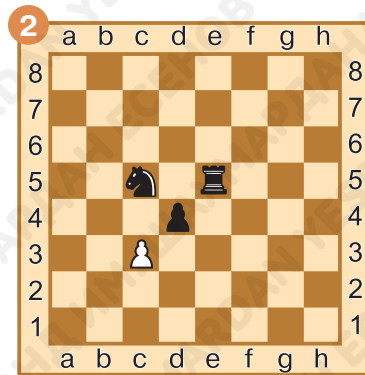
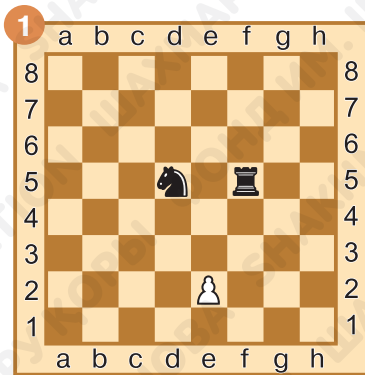
Задание № 6

Нанеси двойной удар конём. Ход запиши:



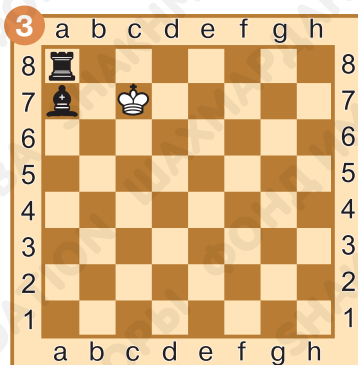
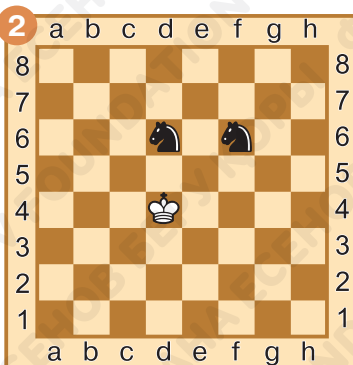
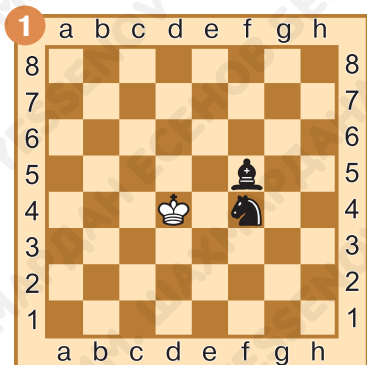
Задание № 7

Нанеси двойной удар пешкой. Ход запиши:



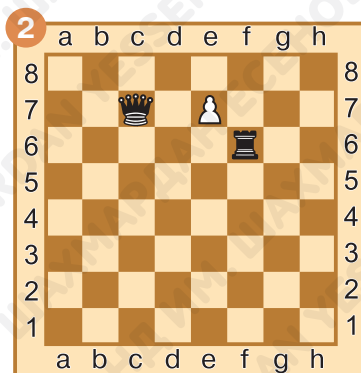
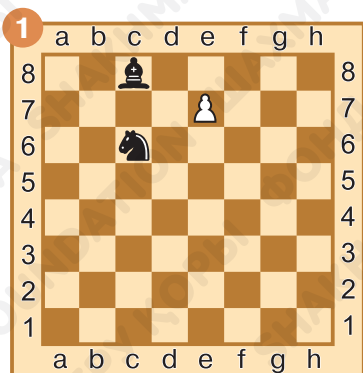
Задание № 8

Нанеси двойной удар королём. Ход запиши:



Задание № 9

Выбери, в какую фигуру превратиться пешке, чтобы она нанесла двойной удар по неприятельским фигурам. Ответ запиши:



Задание № 10

Как ты оцениваешь свою работу на уроке? Выбери ответ (зачеркни ненужное, оставь один вариант):



Домашнее задание:

Задание № 11

Какие фигуры чаще всего становятся объектами двойного удара?

Ответ запиши: _____.

Задание № 12

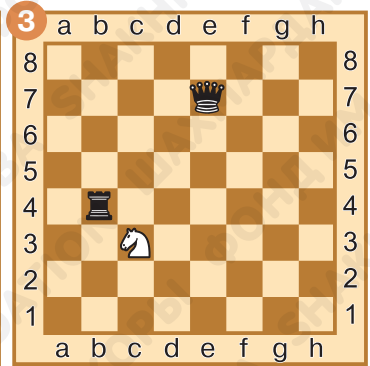
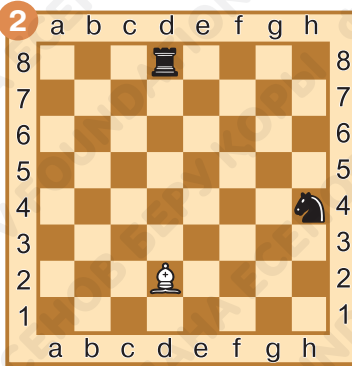

Выгодно ли наносить двойной удар на две защищённые менее ценные фигуры?

Ответ запиши: _____.



Задание № 13

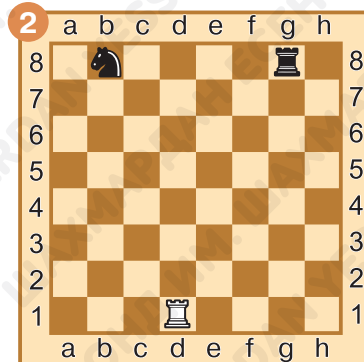
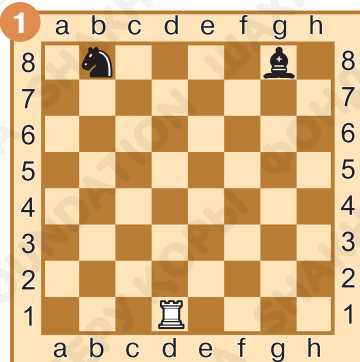
Нанеси двойной удар. Ход запиши:

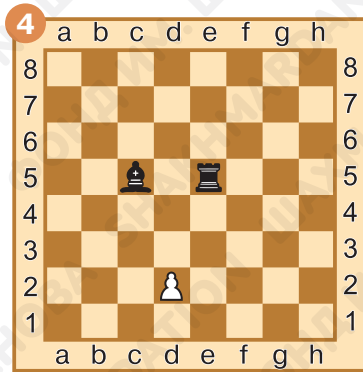


Задание № 14

Выбери из двух позиций ту, в которой нанести двойной удар наиболее выгодно.

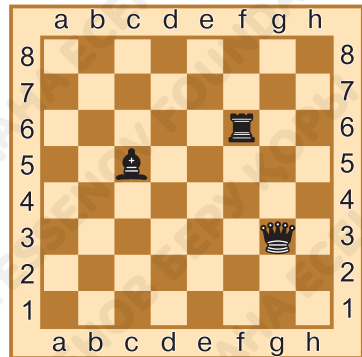
Ответ запиши:





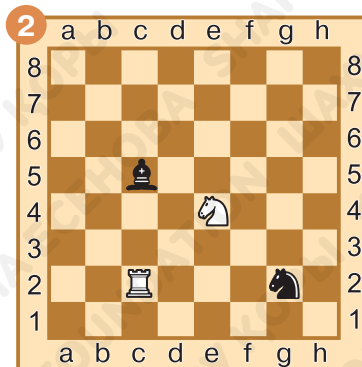
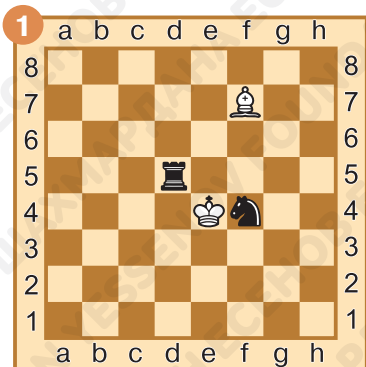
Задание № 15

Какую фигуру и на какое поле надо поставить, чтобы напасть на все чёрные фигуры? Ответ запиши:



Задание № 16


Какая из двух белых фигур нанесла двойной удар? Ответ запиши:



Задание № 17

Найди двойной удар, который могут нанести белые.

Ход запиши:





§ 22. Особая роль короля. Шах

Задание № 1

Как называется нападение на короля?

Ответ запиши: _____.

Задание № 2



Чёрные фигуры одновременно напали на ферзя и короля белых. Какую фигуру надо спасти белым в первую очередь?

Ответ запиши: _____.



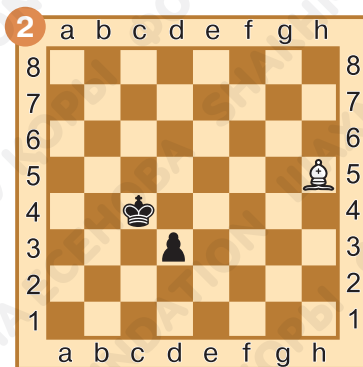

Задание № 3

Объяви шах чёрному королю ладьёй. Ход запиши:



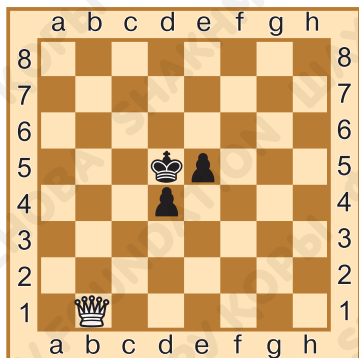
Задание № 4

Объяви шах чёрному королю слонем. Ход запиши:



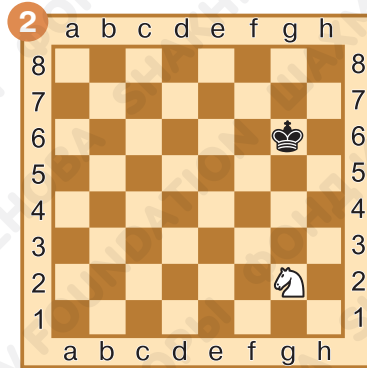
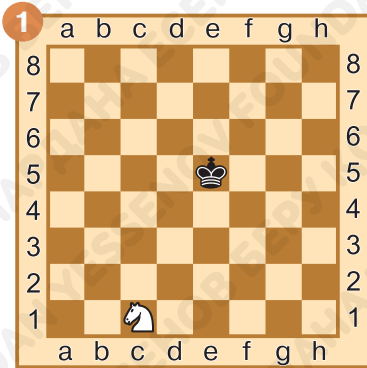
Задание № 5

Сколько шахов чёрному королю в следующих позициях может объявить белый ферзь? Посчитай и ответ запиши:



Задание № 6

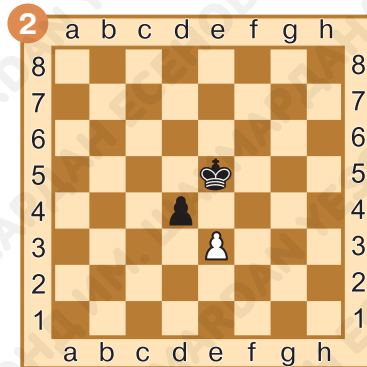
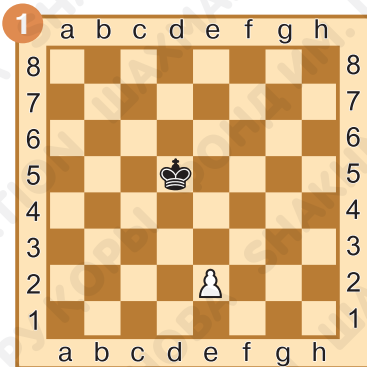
Объяви шах чёрному королю конём. Ход запиши:



Задание № 7

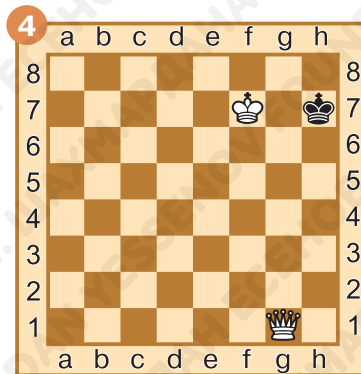
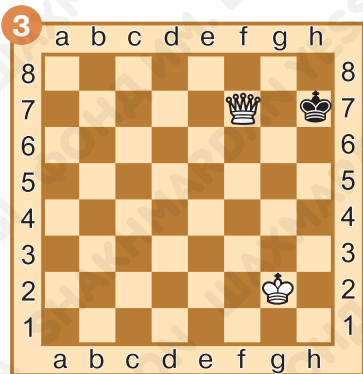
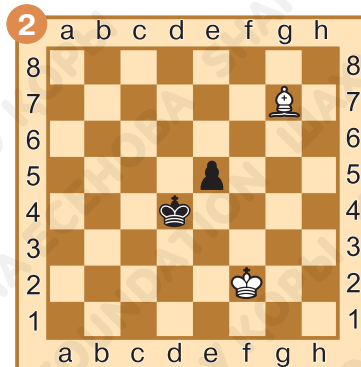
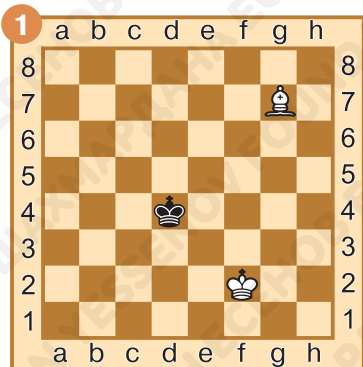
Объяви шах чёрно-
му королю пешкой.

Ход запиши:



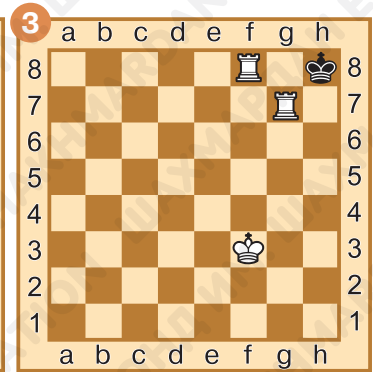
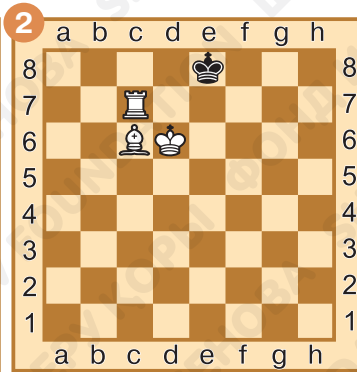
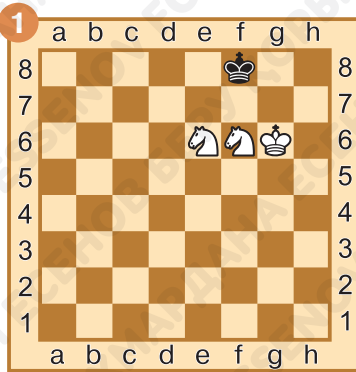
Задание № 8

Из двух схожих позиций выбери ту, в которой чёрному королю объявлен шах.



Задание № 9

Какая фигура объявила чёрному королю шах? Ответ запиши:



Задание № 10

Как ты оцениваешь свою работу на уроке? Выбери ответ (зачеркни ненужное, оставь один вариант):



Домашнее задание:

Задание № 11

Как закончить четверостишие?

На тебя решил нагнать

Твой соперник страх

Королю сейчас опять

Объявил он...

Ответ запиши: _____.



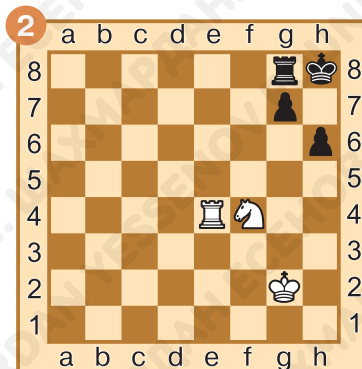
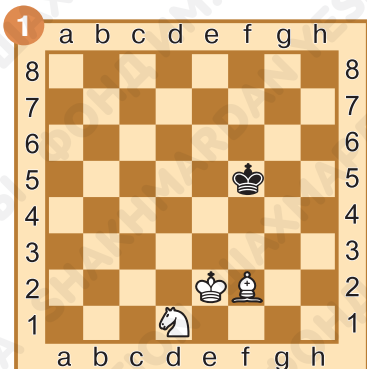
Задание № 12

Найди слово «шах» в камышах, ушах, мышах, малышах и карандашах.



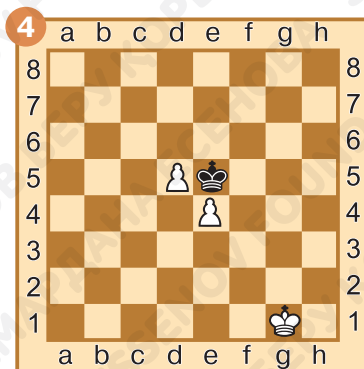
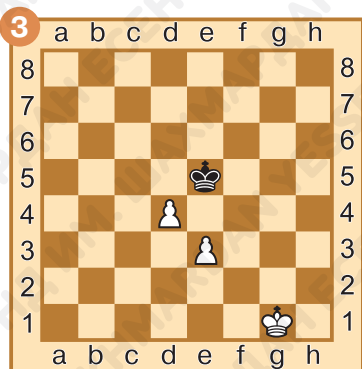
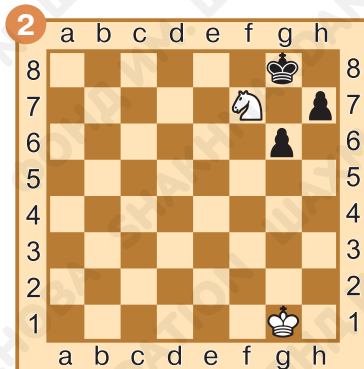
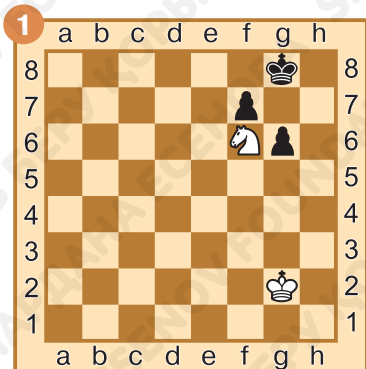
Задание № 13

Объяви шах чёрному королю. Ход запиши:



Задание № 14

Отметь позиции, в которых чёрному королю объявлен шах. Ответ запиши:

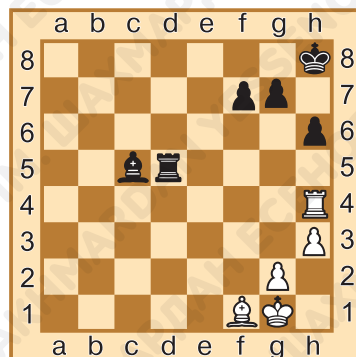


Задание № 15

Какому королю объявлен шах?

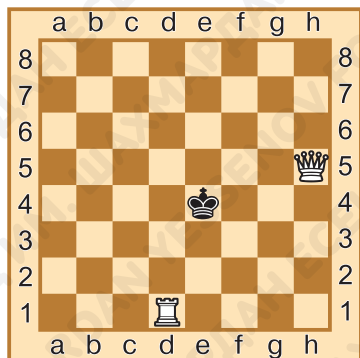
Ответ запиши:

_____.



Задание № 16

Куда может пойти король, чтобы не оказаться под шахом? Раскрась поля, на которые может пойти король, зелёным цветом.



Задание № 17

Посмотри внимательно на диаграмму и найди фигуру, которая объявила королю шах. Ответ запиши:



§ 23. Защита от шаха

Задание № 1

Кому объявляют шах?

Ответ запиши: _____.

Задание № 2

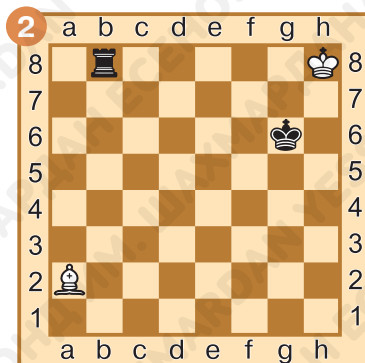
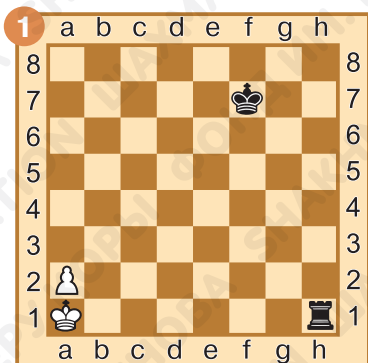
Сколько может быть способов защиты от шаха, объявленного конём?

Ответ запиши: _____.



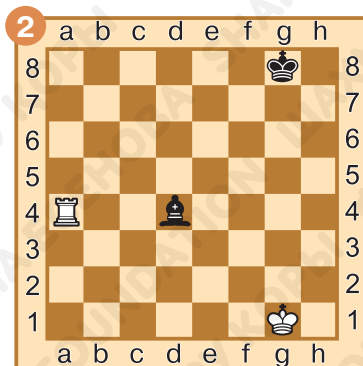
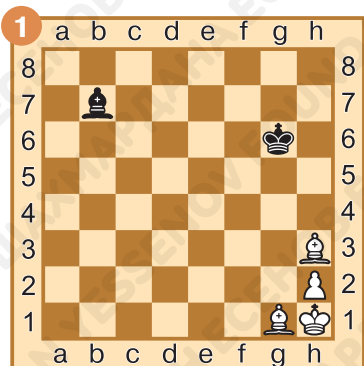
Задание № 3

Найди лучший способ защититься от шаха, объявленного ладьёй. Ход запиши:



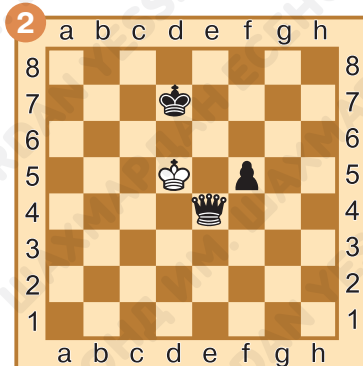
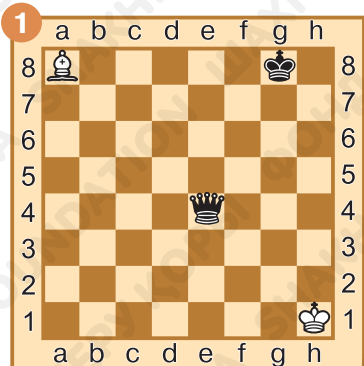
Задание № 4

Найди лучший способ защититься от шаха, объявленного слонем. Ход запиши:



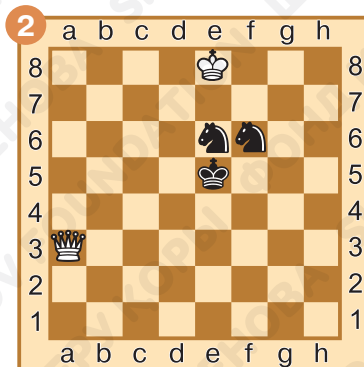

Задание № 5

Найди лучший способ защититься от шаха, объявленного ферзём. Ход запиши:



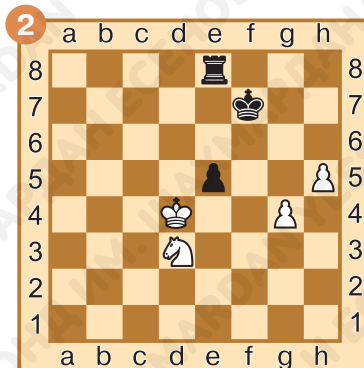

Задание № 6

Найди лучший способ защититься от шаха, объявленного конём. Ход запиши:



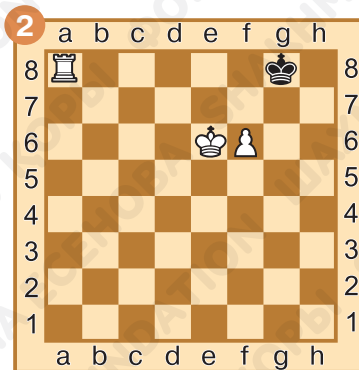
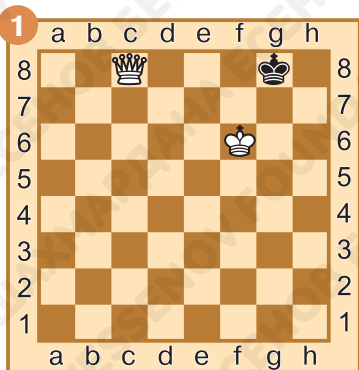
Задание № 7

Найди лучший способ защититься от шаха, объявленного пешкой. Ход запиши:



Задание № 8

Защитись от шаха. Ход запиши:

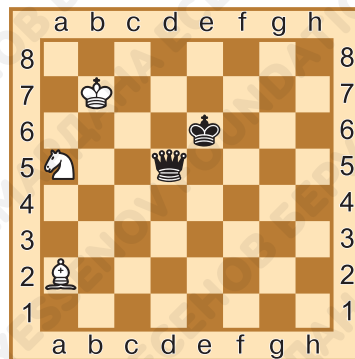


Задание № 9

Сколько способов защиты от шаха есть у белых?

Ответ запиши:

_____.



Задание № 10

Как ты оцениваешь свою работу на уроке? Выбери ответ (зачеркни ненужное, оставь один вариант):



Домашнее задание:

Задание № 11

Может ли король объявить шах королю?

Ответ запиши:

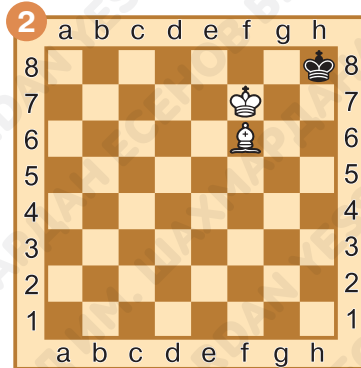
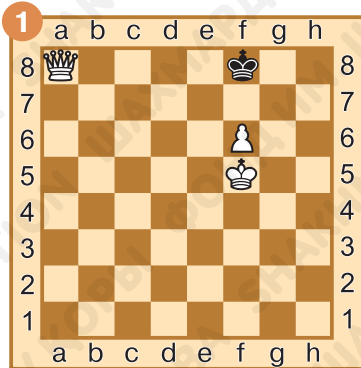
Задание № 12

От шаха каких фигур нельзя прикрыться?

Ответ запиши:

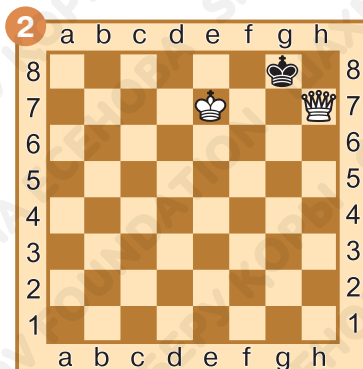
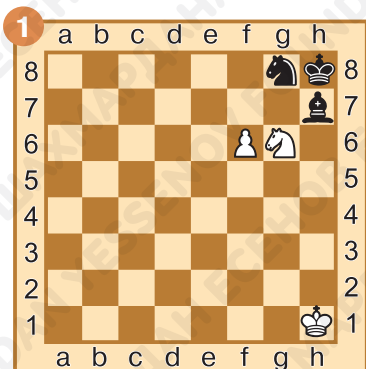
Задание № 13

Какой способ защиты от шаха надо применить в следующих позициях? Ответ запиши: _____.





Задание № 14

Какой способ защиты от шаха лучше всего применить в следующих позициях? Ответ запиши: _____.



Задание № 15

Какой способ защиты от шаха лучше всего применить в следующих позициях? Ответ запиши: _____.

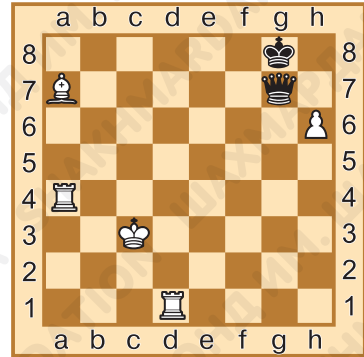


Задание № 16

Найди наилучший способ защититься от шаха.


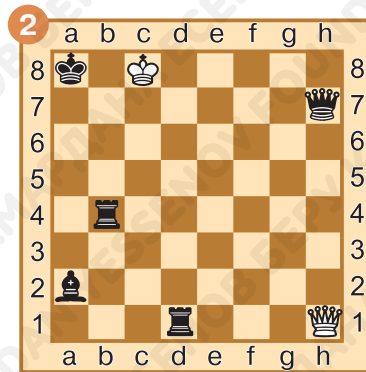
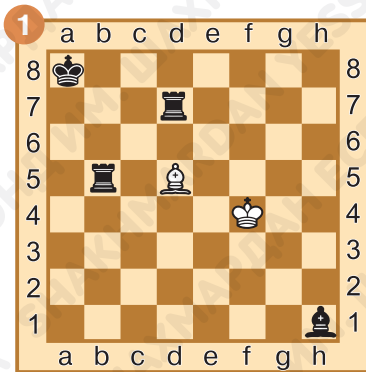
Ответ запиши:

_____.



Задание № 17

Из двух позиций выбери ту, в которой есть наибольшее количество способов защититься от шаха. Ответ запиши:





§ 24. Мат

Задание № 1

Как называется шах, от которого нет защиты?

Ответ запиши: _____.

Задание № 2

Что выгоднее: побить неприятельского ферзя или поставить мат?

Ответ запиши: _____.

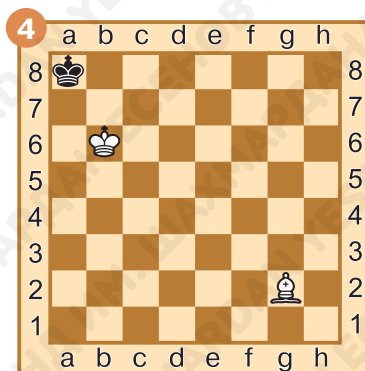
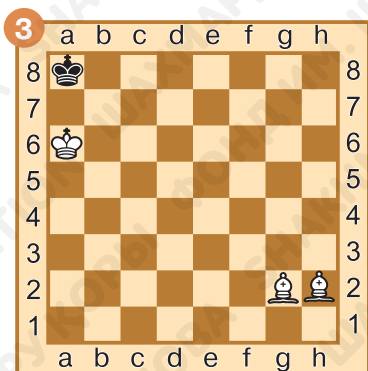
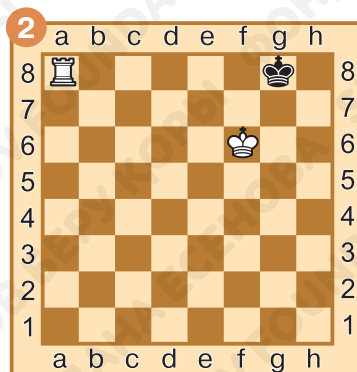
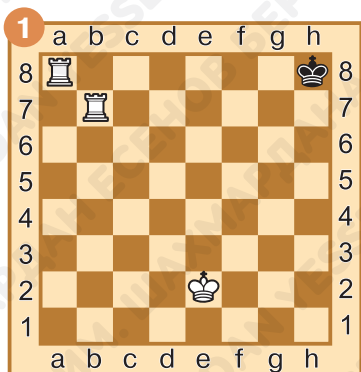
Задание № 3

Какая фигура не может объявить мат?

Ответ запиши: _____.

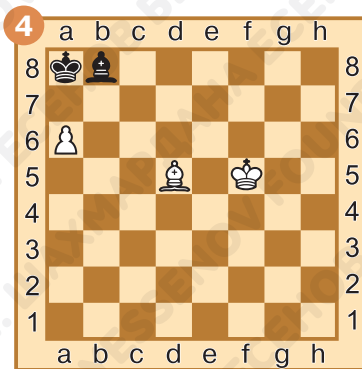
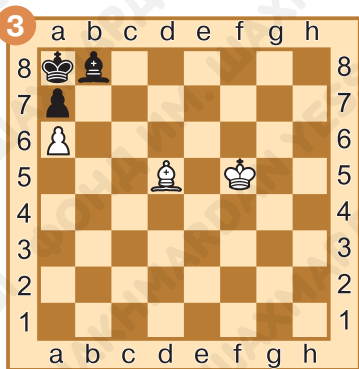
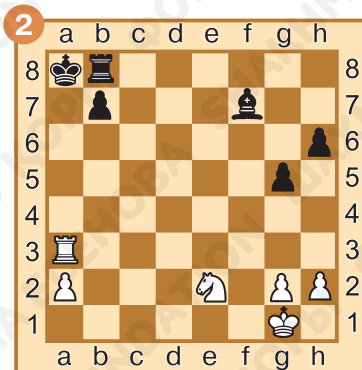
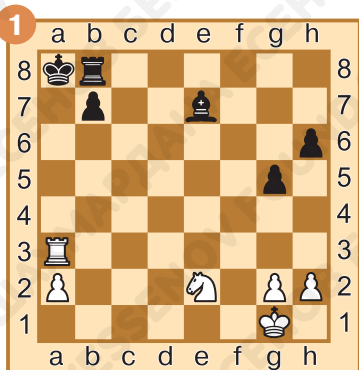
Задание № 4

Шах или мат? Под каждой диаграммой подпиши, объявлен шах или поставлен мат чёрному королю.



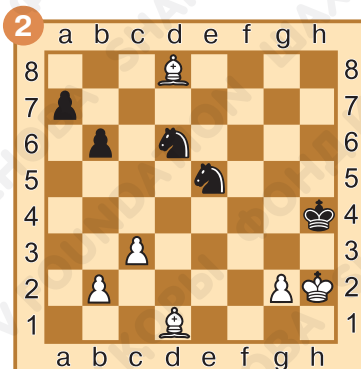
Задание № 5

Мат или не мат?



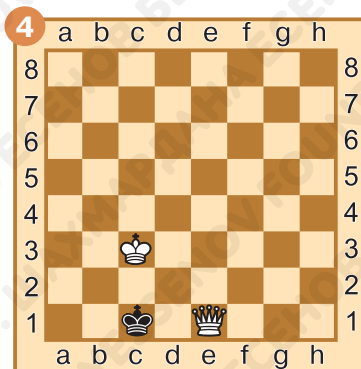
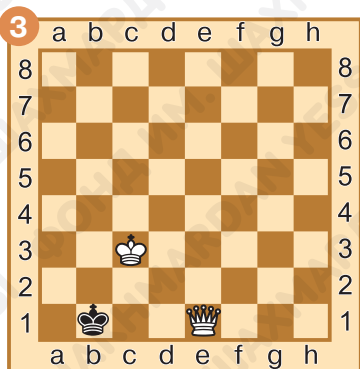
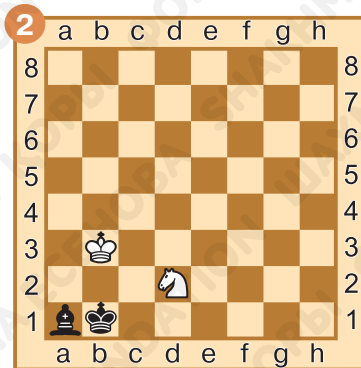
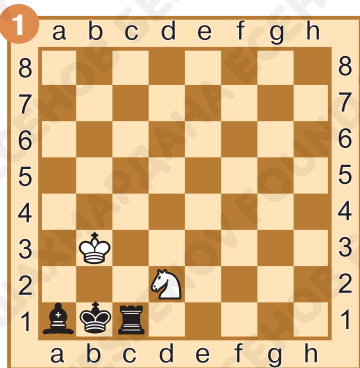
Задание № 6

Определи, какому королю объявлен мат. Ответ запиши:




Задание № 7



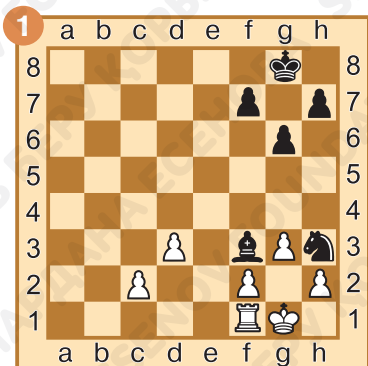
Из двух позиций выбери ту, в которой объявлен мат.



Задание № 8

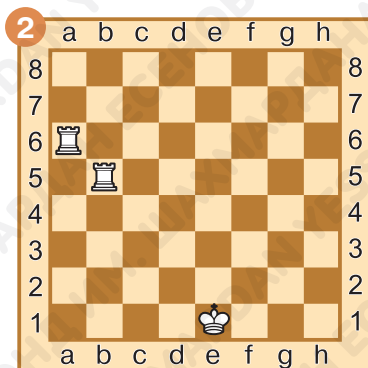
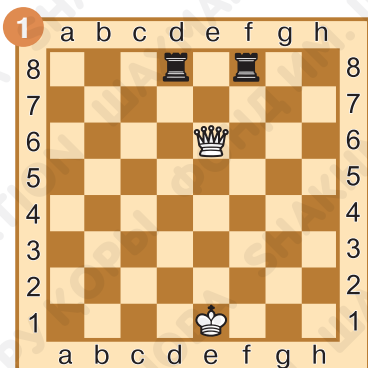
Какая фигура объявила мат? Ответ запиши:





Задание № 9

На какое поле надо поставить чёрного короля, чтобы ему был мат?



Задание № 10

Как ты оцениваешь свою работу на уроке? Выбери ответ (зачеркни ненужное, оставь один вариант):



Домашнее задание:

Задание № 11

Закончи четверостишие:

*Если в шахматы играешь,
То, наверно, точно знаешь,
Будет лучший результат,
Если ты поставишь...*

Ответ запиши: _____.



Задание № 12

Что выгоднее: объявить шах или дать мат?

Ответ запиши: _____.



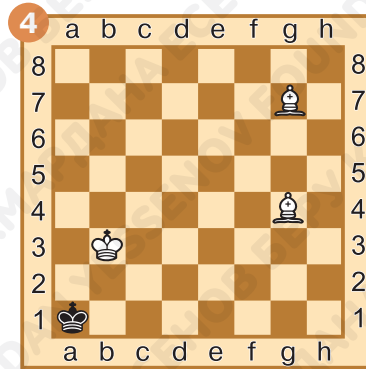
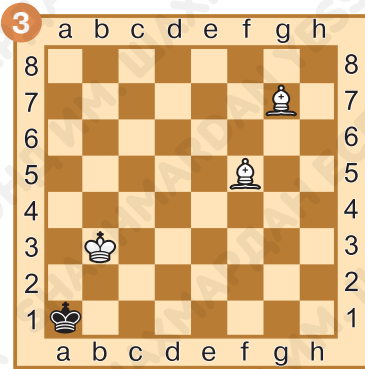
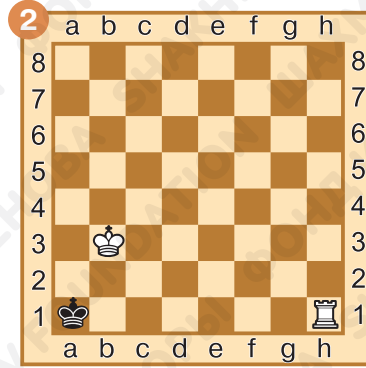
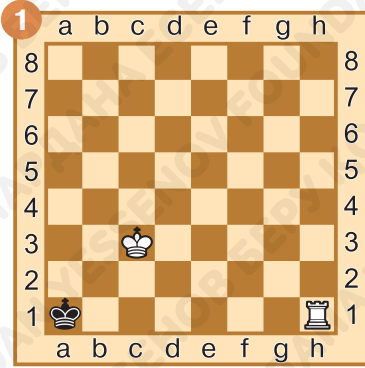
Задание № 13

Прячется ли «**мат**» в словах:
*автомат, матрёшка, формат,
матрос, математика?*




Задание № 14

Отметь позицию, в которой объявлен мат.



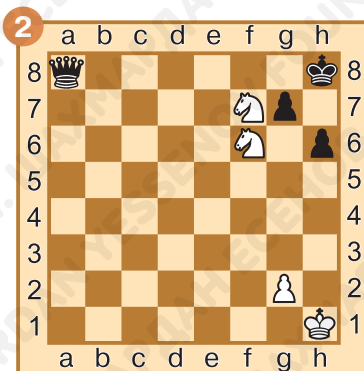
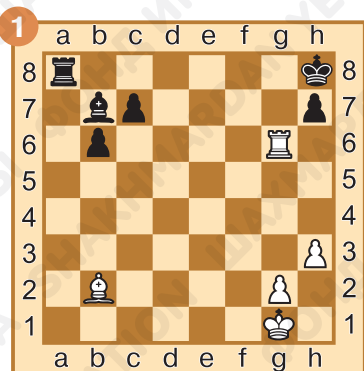
Задание № 15

Определи, какому королю объявлен мат.



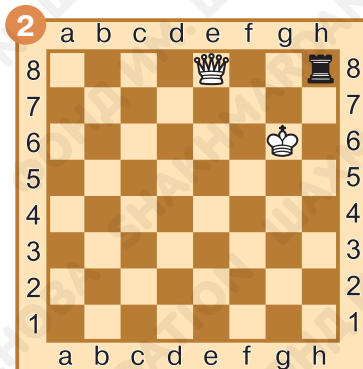
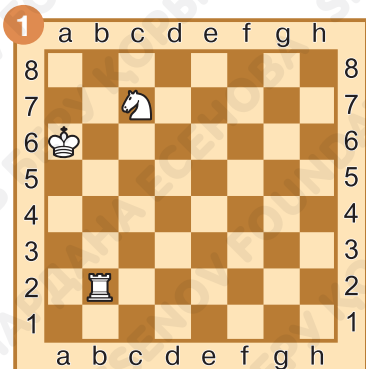
Задание № 16

Какая фигура объявила мат?



Задание № 17

На каком поле надо расположить чёрного короля, чтобы ему был мат?



§ 25. Мат в один ход

Задание № 1

Можно ли поставить мат, если не дан шах королю?

Ответ запиши: _____.

Задание № 2

Какой особый мат умеет объявлять конь?

Ответ запиши: _____

_____.



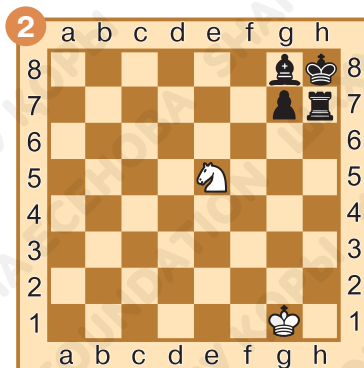

Задание № 3

Какой особый мат умеет объявлять ферзь?

Ответ запиши: _____.

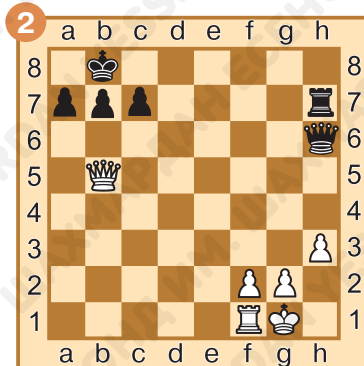

Задание № 4

Мат в один ход. Поставь «спёртый мат» чёрному королю. Ответ запиши:





Задание № 5

Мат в один ход. Поставь горизонтальный мат чёрному королю. Ответ запиши:




Задание № 6

Мат в один ход. Поставь вертикальный мат чёрному королю. Ответ запиши:



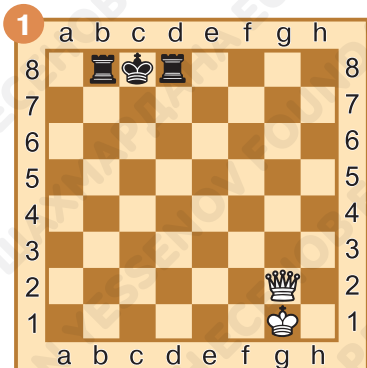
Задание № 7

Мат в один ход. Поставь диагональный мат чёрному королю. Ответ запиши:



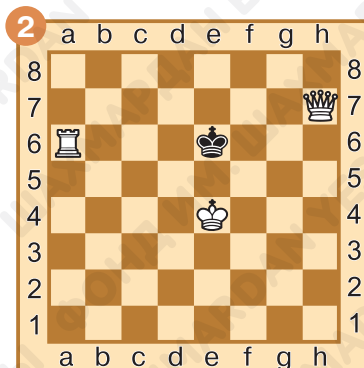
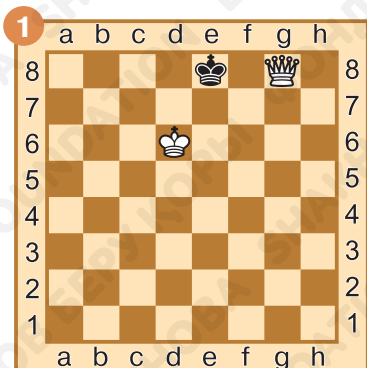
Задание № 8

Мат в один ход. Поставь эполетный мат чёрному королю. Ответ запиши:



Задание № 9

Чёрному королю объявлен мат. Раскрась фигуру, которая сторожит короля, зелёным цветом, а фигуру, которая объявляет мат, красным цветом.



Задание № 10.

Как ты оцениваешь свою работу на уроке? Выбери ответ (зачеркни ненужное, оставь один вариант):



Домашнее задание:

Задание № 11

Какое слово пропущено в четверостишии?

*В бой ты ведёшь деревянную рать,
Ну, а умеешь ли... объявлять?
... — это шах, при котором, учти ты,
У короля никакой нет защиты.*

Ответ запиши: _____.

Задание № 12

Какие фигуры могут поставить диагональный мат?

Ответ запиши: _____.

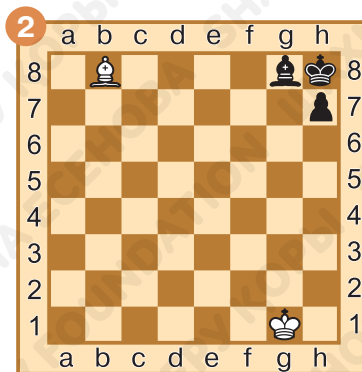

Задание № 13

Может ли пешка без помощи своих фигур поставить мат неприятельскому королю?

Ответ запиши: _____.


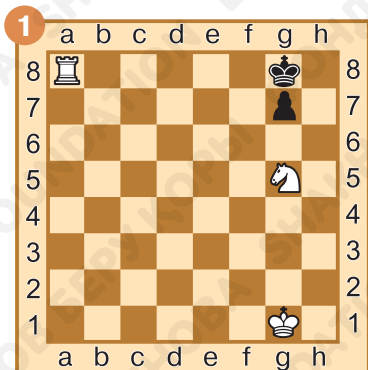
Задание № 14

Мат в один ход. Поставь мат чёрному королю одиночной фигурой. Ответ запиши:



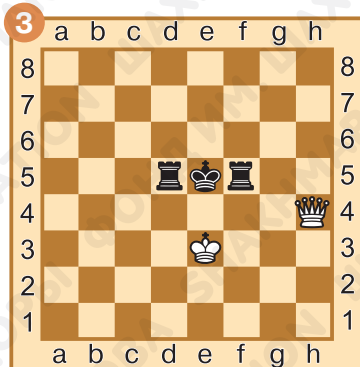
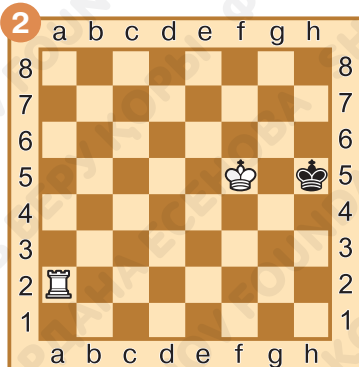
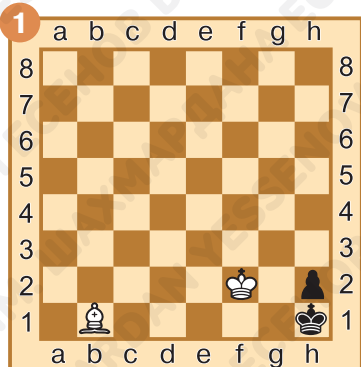
Задание № 15

Чёрному королю объявлен мат. Раскрась фигуру, которая сторожит короля, зелёным цветом, а фигуру, которая объявляет мат, красным цветом.




Задание № 16

Мат в один ход. Поставь чёрному королю мат при помощи своего короля. Ответ запиши:



Задание № 17

Мат в один ход. Поставь мат чёрному королю, используя согласованное действие своих фигур. Ответ запиши:





§ 26. Взаимодействие фигур

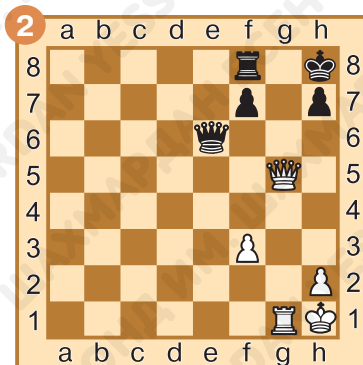
Задание № 1

Как называется мат, который ставит одна фигура под защитой другой своей фигуры?

Ответ запиши: _____.



Задание № 2

Ход белых. Дай мат в один ход. Какие фигуры взаимодействуют? Ответ запиши:





Задание № 3

Ход чёрных. Дай мат в один ход. Какие фигуры взаимодействуют? Ответ запиши:



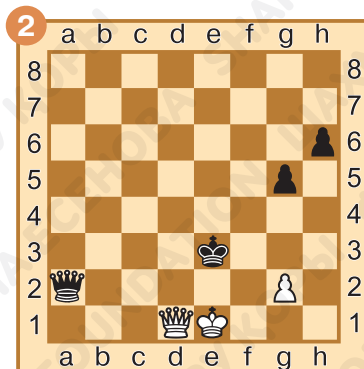

Задание № 4.

Ход белых. Дай мат в один ход. Какие фигуры взаимодействуют? Ответ запиши:




Задание № 5

Ход чёрных. Дай мат в один ход. Какие фигуры взаимодействуют? Ответ запиши:




Задание № 6

Ход белых. Дай мат в один ход. Какие фигуры взаимодействуют? Ответ запиши:





Задание № 7

Ход чёрных. Мат в один ход. Какие фигуры взаимодействуют? Ответ запиши:




Задание № 8

Чёрному королю объявлен мат. Раскрась красным цветом фигуру, которая объявляет мат, и зелёным цветом — фигуру, которая защищает атакующую.



Задание № 9

Какую белую фигуру и на какое поле надо поставить, чтобы чёрному королю был объявлен мат? Ответ запиши:



Задание № 10

Как ты оцениваешь свою работу на уроке? Выбери ответ (зачеркни ненужное, оставь один вариант):



Домашнее задание:

Задание № 11

Какие есть другие слова, по смыслу похожие на «**взаимодействие**»?

Ответ запиши: _____

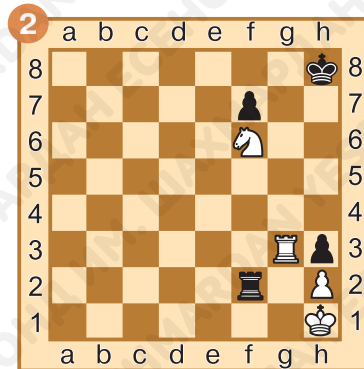
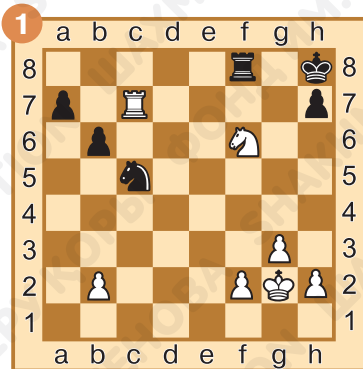
Задание № 12

Что означает «взаимодействие шахматных фигур»?

Ответ запиши: _____


Задание № 13

Ход белых. Мат в один ход. Какие фигуры взаимодействуют? Ответ запиши:



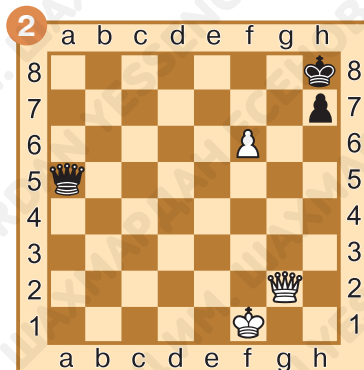
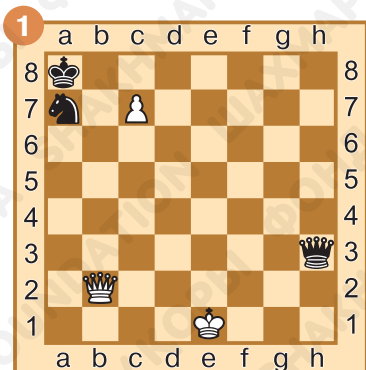
Задание № 14

Ход чёрных. Мат в один ход. Какие фигуры взаимодействуют? Ответ запиши:




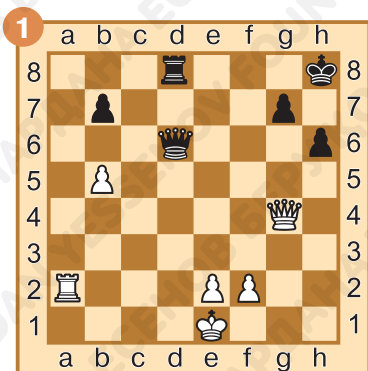
Задание № 15

Ход белых. Мат в один ход. Какие фигуры взаимодействуют? Ответ запиши:



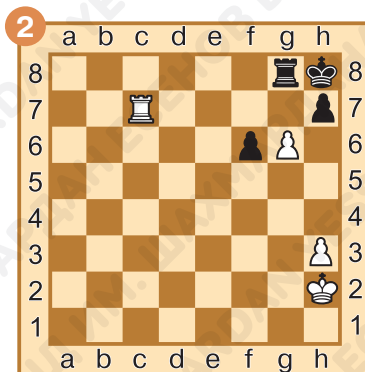
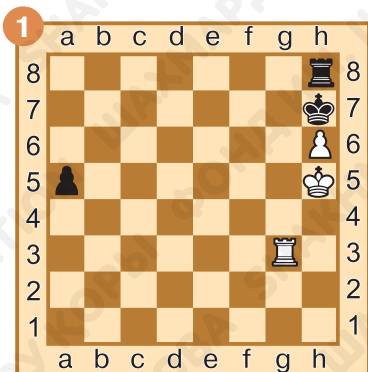
Задание № 16

Ход чёрных. Мат в один ход. Какие фигуры взаимодействуют? Ответ запиши:




Задание № 17

Ход белых. Мат в один ход. Какие фигуры взаимодействуют? Ответ запиши:



Задание № 18

Ход белых. Мат в один ход. Какие фигуры взаимодействуют? Ответ запиши:



§ 27. Линейный мат

Задание № 1

В какой части доски легче поставить линейный мат неприятельскому королю?

Ответ запиши: _____.


Задание № 2

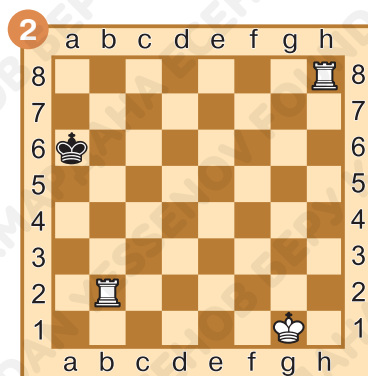
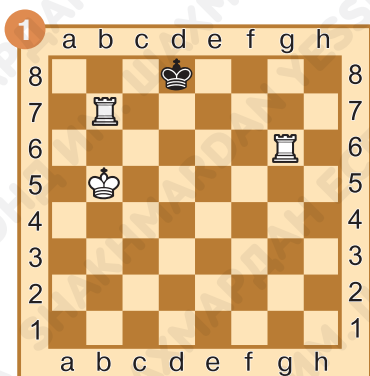
Линейный мат могут поставить:

- а) ладья и слон;
- б) ладья и конь;
- в) ладья и ферзь.


Ответ запиши: _____.

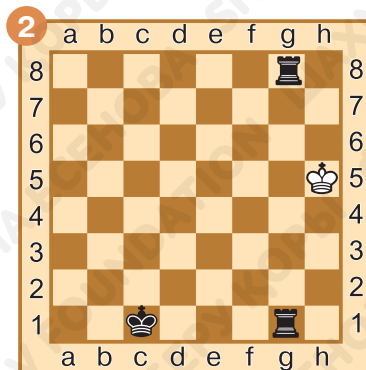
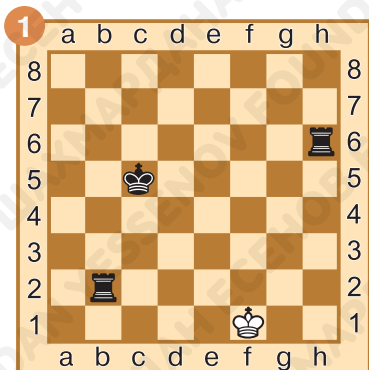
Задание № 3

Ход белых. Поставь линейный мат в один ход. Обведи в кружок  фигуру, которая отрезает линию королю. Ответ запиши:




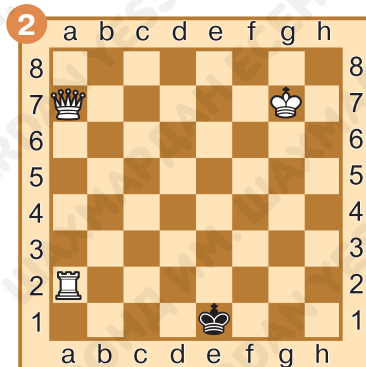
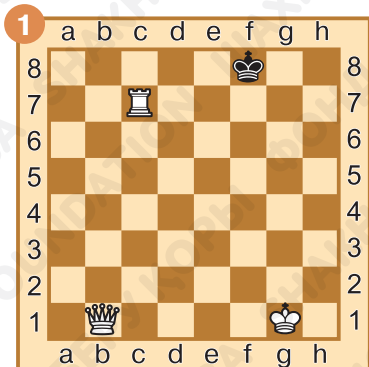
Задание № 4

Ход чёрных. Поставь линейный мат в один ход. Обведи в кружок  фигуру, которая отрезает линию королю. Ответ запиши:




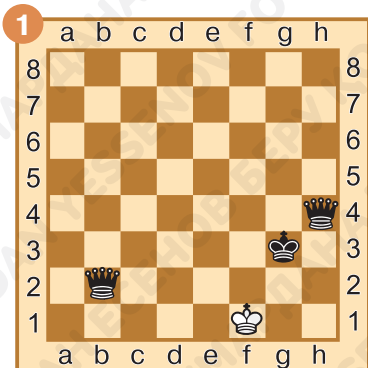
Задание № 5

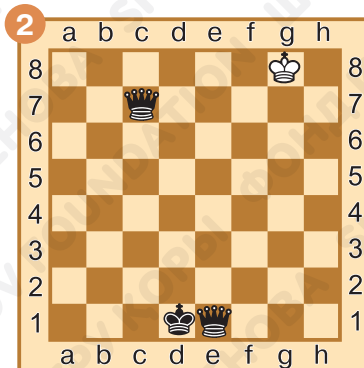
Ход белых. Поставь линейный мат в один ход. Обведи в кружок  фигуру, которая отрезает линию королю. Ответ запиши:



Задание № 6

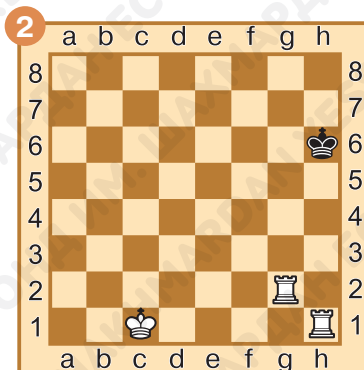
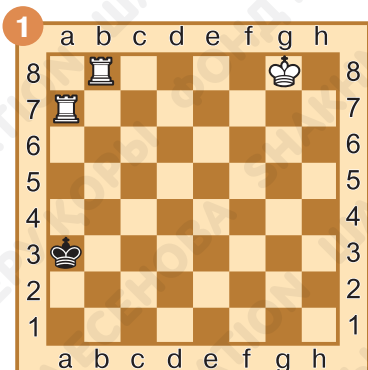
Ход чёрных. Поставь линейный мат в один ход. Обведи в кружок  фигуру, которая отрезает линию королю. Ответ запиши:





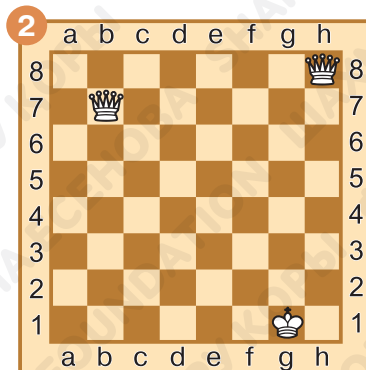
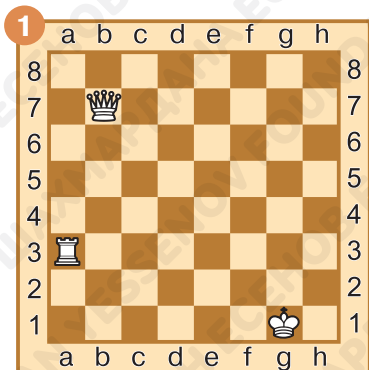
Задание № 7

Чёрному королю объявлен мат. Раскрась ладью, которая объявила мат, красным цветом, а ладью, которая не дает королю убежать, зелёным цветом.



Задание № 8

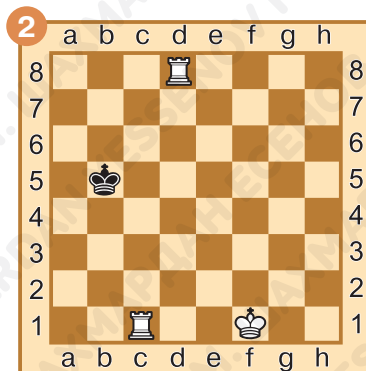
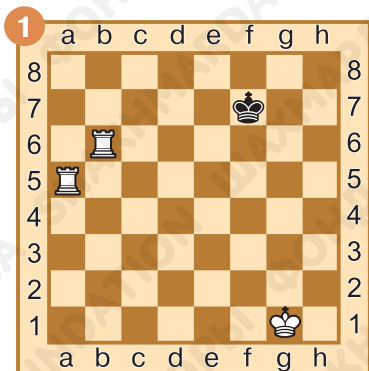
Отметь крестиком поле (или поля), куда надо поставить чёрного короля, чтобы ему был мат.



Задание № 9

Ход белых. Дай мат чёрному королю за два хода.

Ответ запиши:



1. _____

2. _____

1. _____

2. _____

Задание № 10

Как ты оцениваешь свою работу на уроке? Выбери ответ (зачеркни ненужное, оставь один вариант):



Домашнее задание:

Задание № 11

По каким линиям ставится «линейный мат»?

Ответ запиши: _____.


Задание № 12

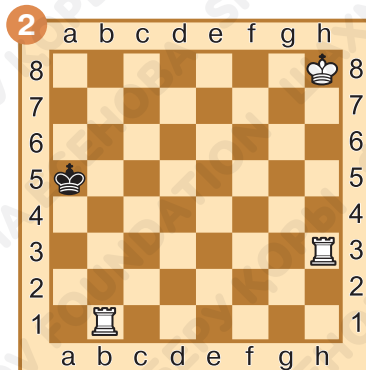
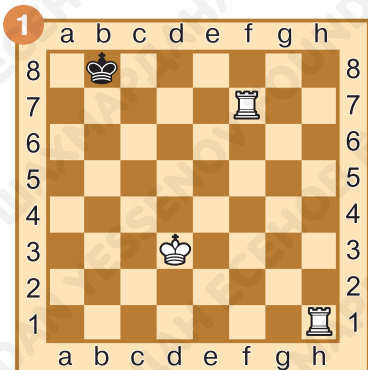
Какие фигуры ставят «линейный мат»?

Ответ подчеркни:




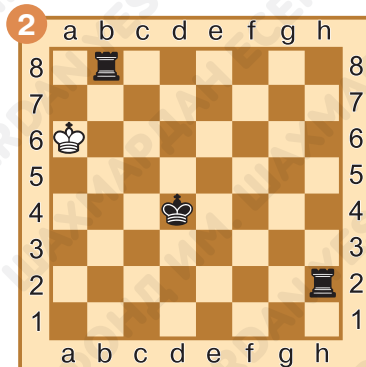
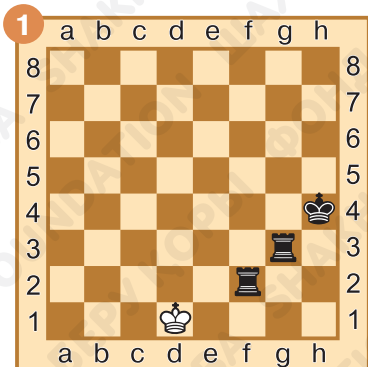
Задание № 13

Ход белых. Поставь линейный мат в один ход. Обведи в кружок  фигуру, которая отрезает линию королю. Ответ запиши:




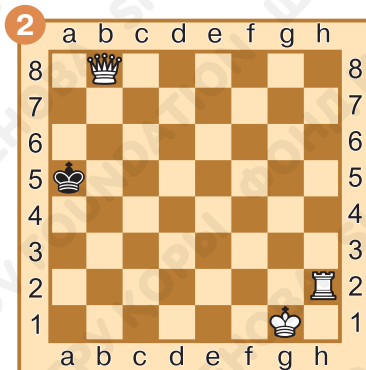
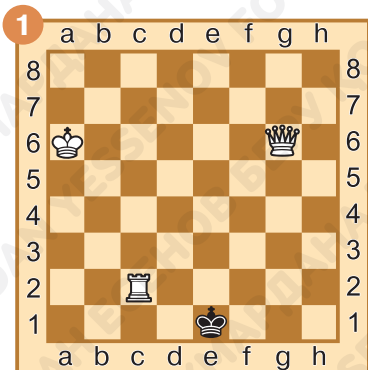
Задание № 14

Ход чёрных. Поставь линейный мат в один ход. Обведи в кружок  фигуру, которая отрезает линию королю. Ответ запиши:




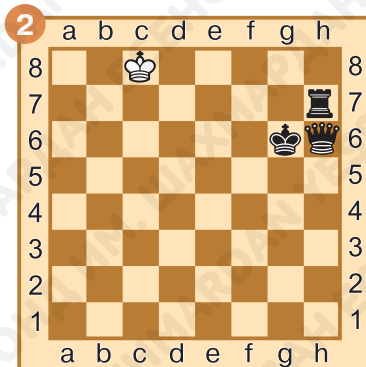
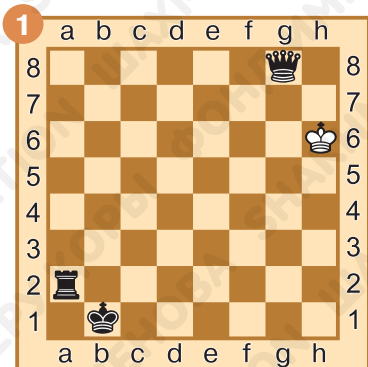
Задание № 15

Ход белых. Поставь линейный мат в один ход. Обведи в кружок  фигуру, которая отрезает линию королю. Ответ запиши:




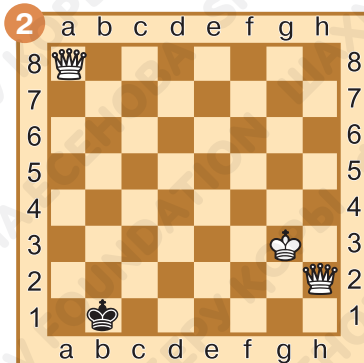
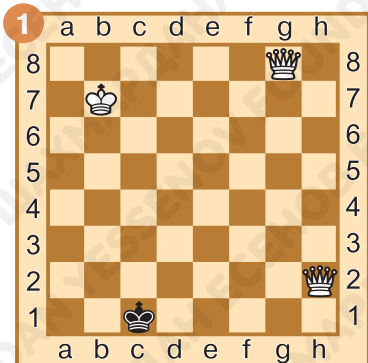
Задание № 16

Ход чёрных. Поставь линейный мат в один ход. Обведи в кружок  фигуру, которая отрезает линию королю. Ответ запиши:



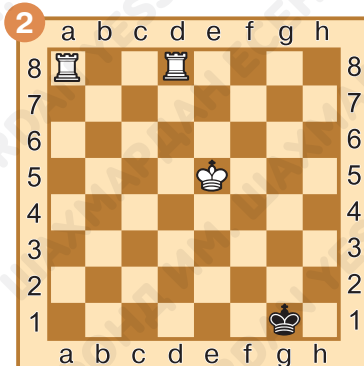
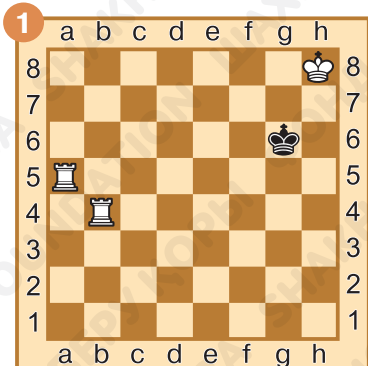
Задание № 17

Ход белых. Поставь линейный мат в один ход. Обведи в кружок  фигуру, которая отрезает линию королю. Ответ запиши:



Задание № 18

К какому краю наиболее удобно оттеснить чёрного короля, чтобы поставить ему линейный мат? Ответ запиши:



§ 28. Ничья. Виды ничьи

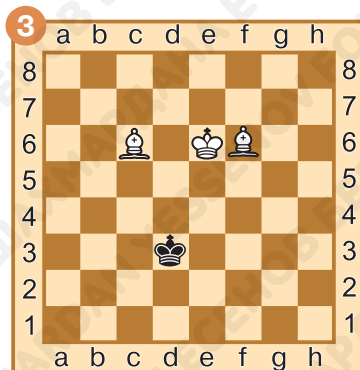
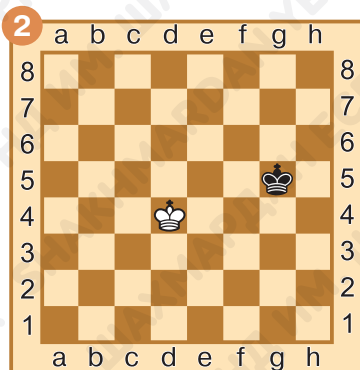
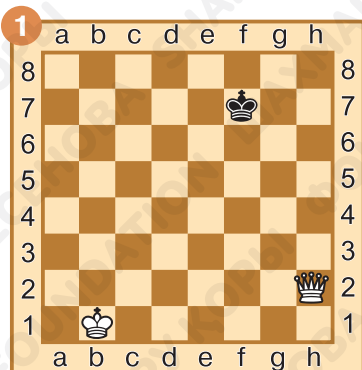
Задание № 1

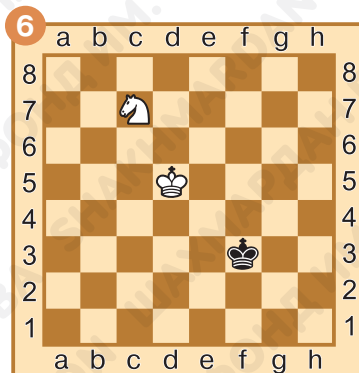
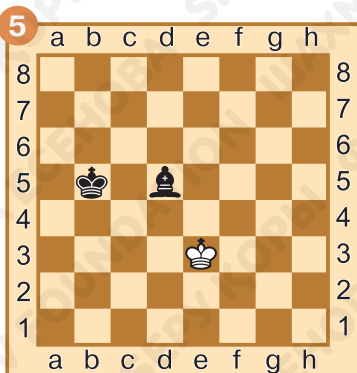
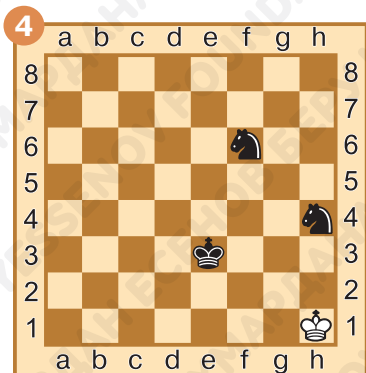
Какой из смайликов подходит к слову «ничья»?



Задание № 2

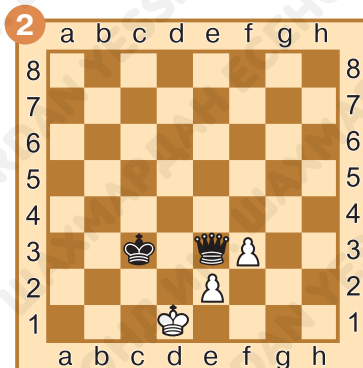
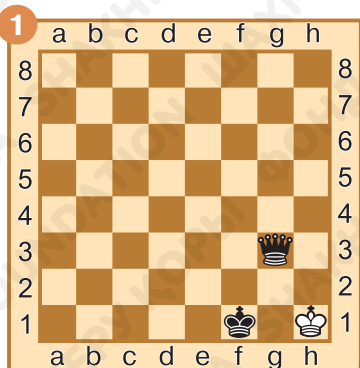
В каких позициях мат поставить можно, а в каких нельзя и будет ничья? Ответ запиши:





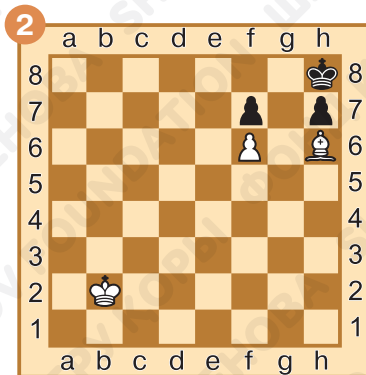
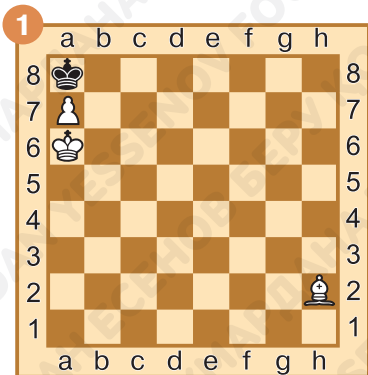
Задание № 3

Пат или не пат? Под каждой из диаграмм подпиши, закончилась ли партия патом. Во всех позициях — ход белых.



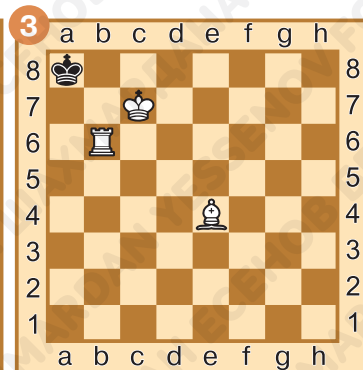
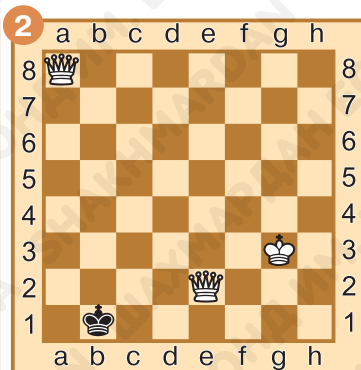
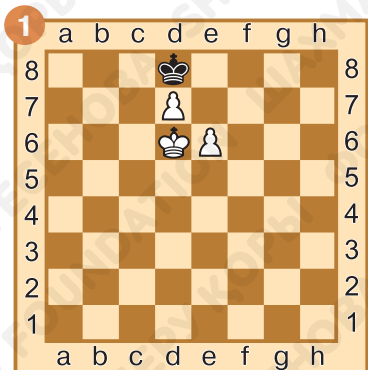
Задание № 4

Пат или не пат? Под каждой из диаграмм подпиши, закончилась ли партия патом. Во всех позициях — ход чёрных.



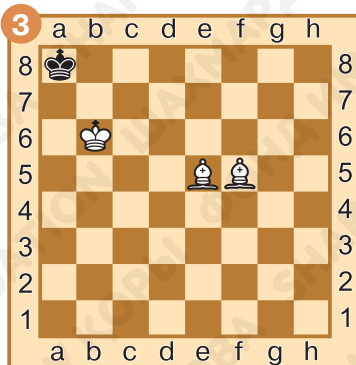
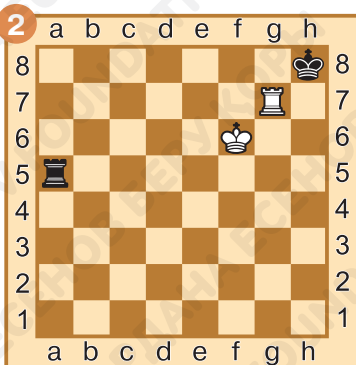
Задание № 5

Выбери из нескольких позиций те, где поставлен пат. В каждой из позиций — ход чёрных. Ответ запиши:



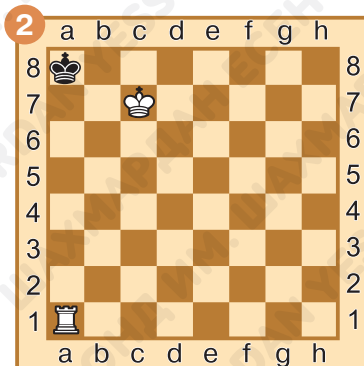
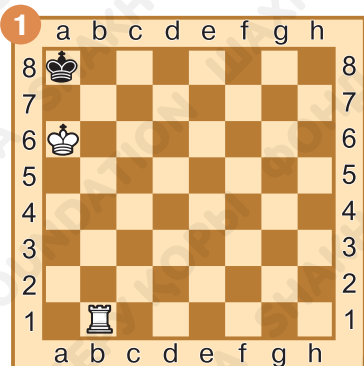
Задание № 6

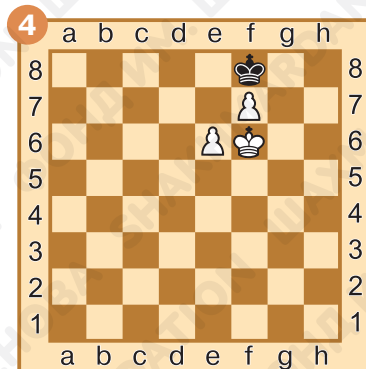
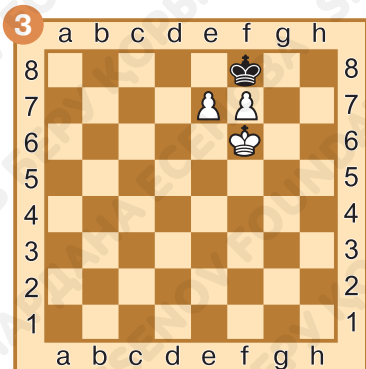
Выбери из нескольких позиций те, где поставлен пат. В каждой из позиций — ход чёрных. Ответ запиши:



Задание № 7

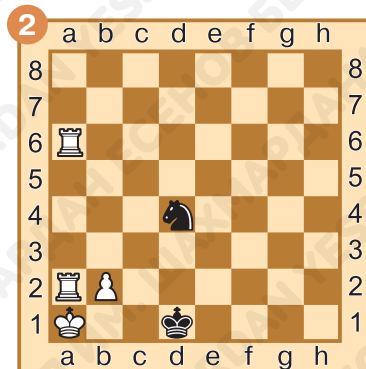

Мат или пат? Под каждой из диаграмм подпиши, закончилась ли партия матом или патом. Во всех позициях — ход чёрных.





Задание № 8

«Вечный шах». Спаси чёрного короля от поражения. Подумай, как чёрные могут объявить вечный шах белому королю. Ответ запиши:



1. _____

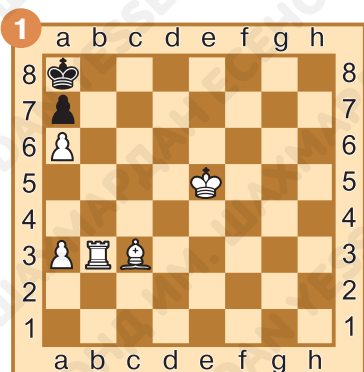
2. _____

1. _____

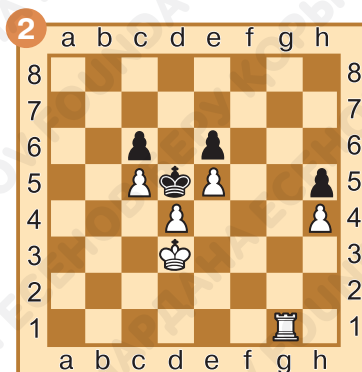
2. _____

Задание № 9

«Распатуй короля». Чёрные фигуры находятся в ситуации пата, у них нет ни одного возможного хода. Но сейчас очередь хода за белыми. Какой ход они должны сделать, чтобы избежать пата? Выбери из предложенных ходов подходящий вариант. Ответ подчеркни:



1. Cb4
2. Креб



1. Лг8
2. Крез

Задание № 10

Как ты оцениваешь свою работу на уроке? Выбери ответ (зачеркни ненужное, оставь один вариант):



Домашнее задание:

Задание № 11

Закончи четверостишие:

*Вот я выиграл почти,
И заранее был рад,
Но сопернику зайти
Удалось в ничейный...*

Ответ запиши: _____.



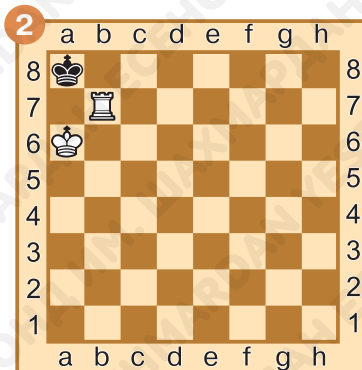
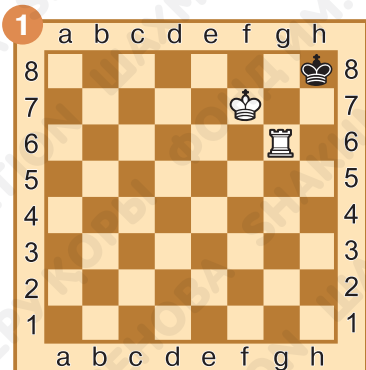
Задание № 12

Что лучше: поставить мат или пат?

Ответ запиши: _____.


Задание № 13

Пат или не пат? Под каждой из диаграмм подпиши, закончилась ли партия патом. Во всех позициях — ход чёрных.



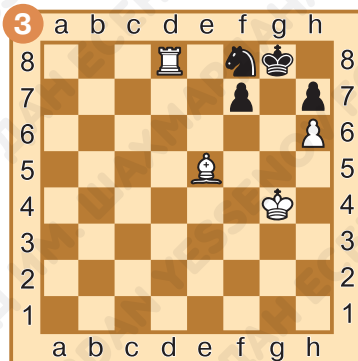
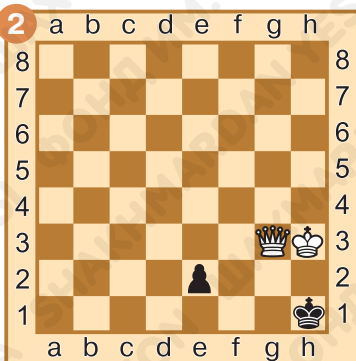
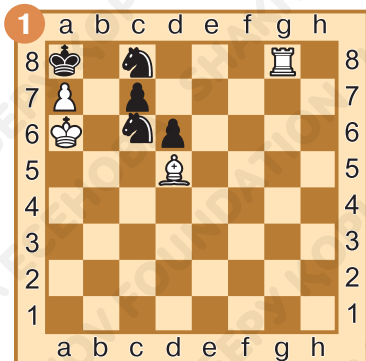
Задание № 14

Пат или не пат? Под каждой из диаграмм подпиши, закончилась ли партия патом. Во всех позициях — ход белых.



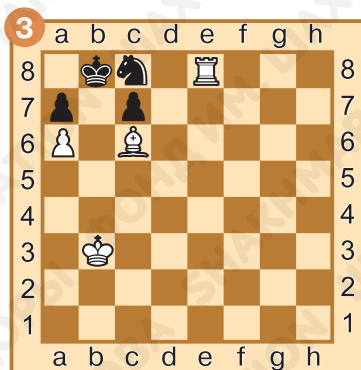
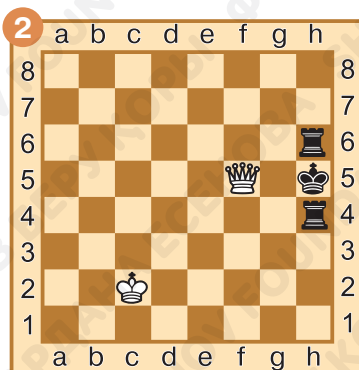
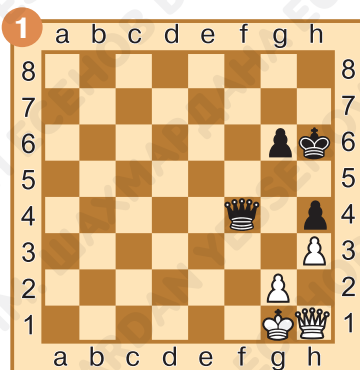
Задание № 15

Выбери из нескольких позиций те, где поставлен пат. Во всех позициях — ход чёрных. Ответ запиши:




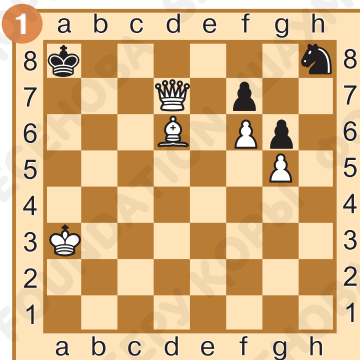
Задание № 16

Выбери из нескольких позиций те, где поставлен пат. Во всех позициях — ход чёрных. Ответ запиши:




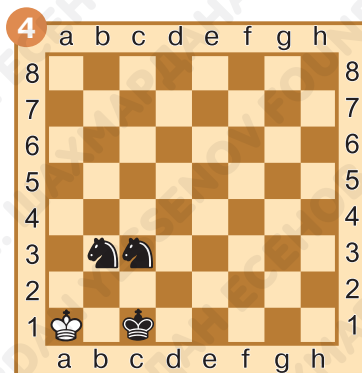
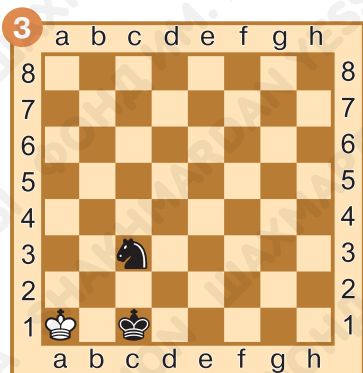
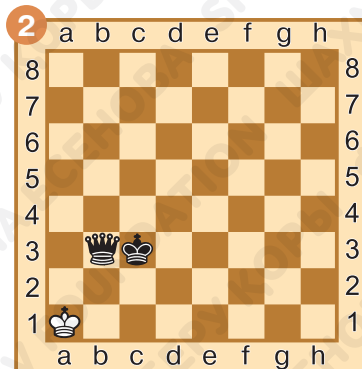

Задание № 17

Выбери из нескольких позиций те, где поставлен пат. Во всех позициях — ход чёрных. Ответ запиши:



Задание № 18

Мат или пат? Под каждой из диаграмм подпиши, закончилась ли партия матом или патом. Во всех позициях — ход белых.



§ 29. Особый ход короля. Рокировка

Задание № 1

Как называется необычный ход, при котором перемещаются сразу две фигуры?

Ответ запиши: _____.

Задание № 2

Сколько раз в партии каждая из сторон может сделать рокировку?

Ответ запиши: _____.

Задание № 3

Какие фигуры участвуют в рокировке?

Ответ запиши: _____.

Задание № 4


Как при записи хода обозначается рокировка?

Короткая _____.

Длинная _____.



Задание № 5

Может ли  делать рокировку?



Ответ запиши: _____.





Задание № 6

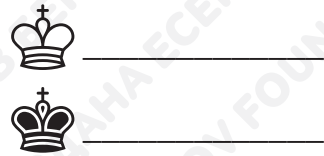
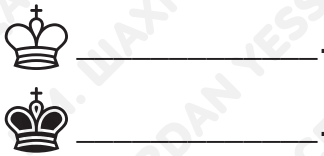

Может ли  делать рокировку?

Ответ запиши: _____.




Задание № 7

Могут ли   делать рокировку? В какую сторону возможна рокировка? Ответ запиши:





Задание № 8

Обведи в кружок  фигуры, которые мешают сделать рокировку белому и чёрному королям.




Задание № 9

Могут ли   делать рокировку? В какую сторону возможна рокировка? Ответ запиши:



Задание № 10

Как ты оцениваешь свою работу на уроке? Выбери ответ (зачеркни ненужное, оставь один вариант):



Домашнее задание:

Задание № 11

Закончи четверостишие:

*Иногда король с ладьёй
Ходят вместе очень ловко,
Шахматисты ход такой
Называют...*



Ответ запиши: _____.

Задание № 12

С перемещения какой фигуры начинается рокировка?

Ответ запиши: _____.



Задание № 13

Для чего делается рокировка?

Ответ запиши: _____


_____.

Задание № 14

Всегда ли можно делать рокировку?


Ответ запиши: _____.

Задание № 15

Может ли  делать рокировку? Если да, то укажи, 0-0 или 0-0-0, или оба варианта.





Задание № 16

Может ли  делать рокировку? Если да, то укажи, 0-0 или 0-0-0, или оба варианта.





Задание № 17

Могут ли   делать рокировку? В какую сторону возможна рокировка? Ответ запиши:



Задание № 18

Могут ли   делать рокировку? В какую сторону возможна рокировка? Ответ запиши:



_____.



_____.



_____.



_____.

§ 30. Повторение особого хода короля. Особый ход пешки. Взятие на проходе

Задание № 1

Какая бывает рокировка?

Ответ запиши: _____.

Задание № 2

С перемещения какой фигуры начинается рокировка?




Ответ запиши: _____.

Задание № 3

Какое особое правило есть у пешки?

Ответ запиши: _____.

Задание № 4

Могут ли   делать рокировку? Обведи в кружок  фигуры, которые мешают сделать рокировку.



Ответ запиши:

_____.



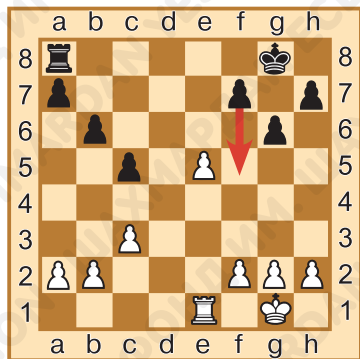
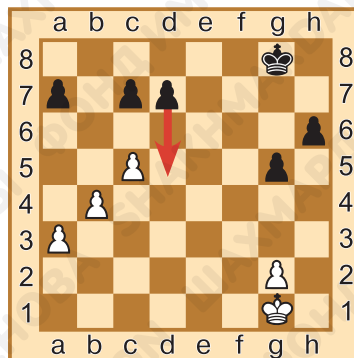
Ответ запиши:

_____.

Задание № 5

Чёрная пешка делает ход 1...d7-d5. После этого хода может ли белая пешка взять чёрную пешку d на проходе?

Ответ запиши: _____.



Задание № 6

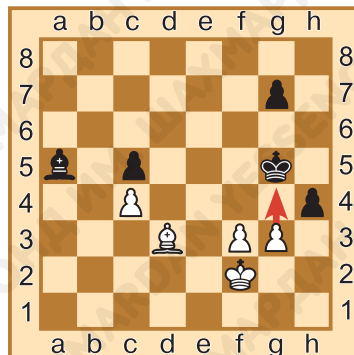
Чёрная пешка делает ход 1...f7-f5. После этого хода может ли белая пешка взять чёрную пешку f на проходе?

Ответ запиши: _____.

Задание № 7

Белая пешка делает ход 1.g3-g4. После этого хода может ли чёрная пешка взять белую пешку g на проходе?


Ответ запиши: _____.



Задание № 8

Белая пешка делает ход 1.f2-f4. После этого хода может ли чёрная пешка взять белую пешку f на проходе?

Ответ запиши: _____.



Задание № 9

Чёрная пешка делает ход 1...d7-d5. После этого хода может ли белая пешка взять чёрную пешку d на проходе?

Ответ запиши: _____.

Задание № 10

Как ты оцениваешь свою работу на уроке? Выбери ответ (зачеркни ненужное, оставь один вариант):



Домашнее задание:

Задание № 11

Бьёт ли пешка на проходе ферзя, ладью, слона или коня?



Ответ запиши: _____.



Задание № 12

Чёрная пешка делает ход 1...f7-f5. После этого хода может ли белая пешка взять чёрную пешку f на проходе?

Ответ запиши: _____.

Задание № 13

Чёрная пешка делает ход 1...d6-d5. После этого хода может ли белая пешка взять чёрную пешку d на проходе?

Ответ запиши: _____.



Задание № 14

Белая пешка делает ход 1.f2-f4. После этого хода может ли чёрная пешка взять белую пешку f на проходе?

Ответ запиши: _____.



Задание № 15

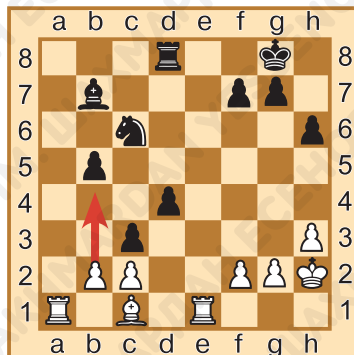
Белая пешка делает ход 1.d4-d5. После этого хода может ли чёрная пешка взять белую пешку d на проходе?

Ответ запиши: _____.

Задание № 16

Белая пешка делает ход 1.b2-b4. После этого хода может ли чёрная пешка взять белую пешку b на проходе?

Ответ запиши: _____.





Задание № 17

Чёрная пешка делает ход 1...e7-e5. После этого хода может ли белая пешка взять чёрную пешку e на проходе?

Ответ запиши: _____.

Задание № 18

Чёрный конь делает ход 1...Kg8-f6. После этого хода может ли белая пешка взять на проходе чёрную пешку e5?

Ответ запиши: _____.


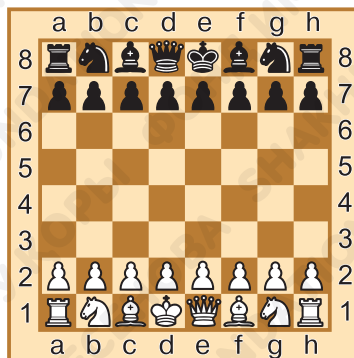


§ 31. Шахматная этика. Правила поведения во время игры

Задание № 1

Правильно ли расставлены фигуры в начальном положении?

Ответ запиши: _____



Задание № 2

Что нужно сделать перед началом игры в шахматы?

- a) поздравить соперника с началом партии, пожав ему руку;
- b) стоять около доски;
- c) разговаривать с соперником;
- d) выпить воды.

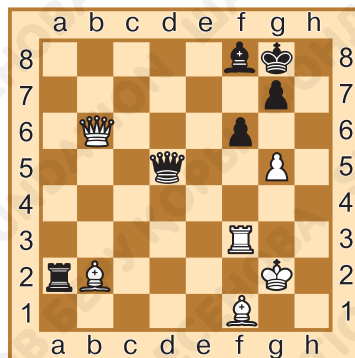
Ответ запиши: _____

Задание № 3

Пат означает...

- a) выигрыш партии;
- b) проигрыш партии;
- c) ничью.

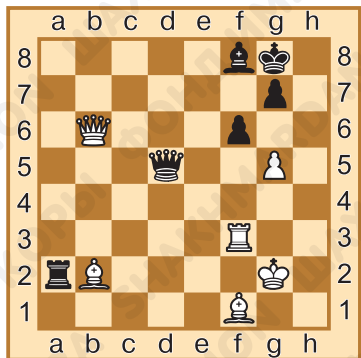
Ответ запиши: _____.



Задание № 4

Ход белых. Белые взяли за слона f1, надо ли делать ход этим слоном?

Ответ запиши: _____.



Задание № 5

Ход белых. Белые взяли за слона b2, надо ли делать ход этим слоном?

Ответ запиши: _____.

Задание № 6

Ход белых. Белые дотронулись до ладьи f3 и чёрной пешки на f6, собираясь её побить. Должны ли белые сделать этот ход?

- a) да, они должны побить пешку f6 ладьёй;
- b) они должны побить пешку f6 либо ферзём, либо пешкой g5;
- c) нет, они не обязаны бить пешку, а могут сделать любой ход.

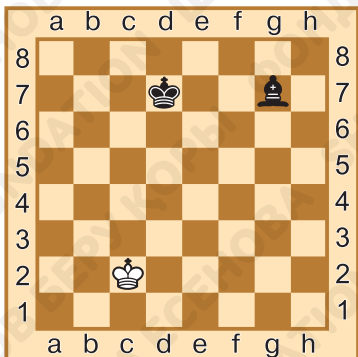

Ответ запиши: _____
_____.



Задание № 7

Ход белых. Белому королю объявлен мат или шах?

Ответ запиши: _____.



Задание № 8

Как закончилась игра?

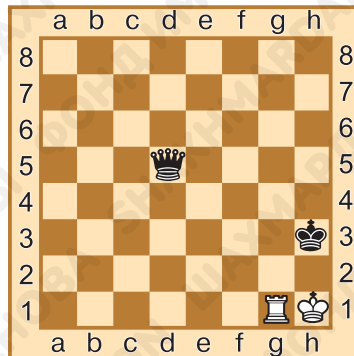
Ответ запиши: _____.

Задание № 9

Ход белых. Белому королю объявлен мат или шах?

Ответ запиши: _____

_____.



Задание № 10

Как ты оцениваешь свою работу на уроке? Выбери ответ (зачеркни ненужное, оставь один вариант):



Домашнее задание:

Задание № 11

В какую фигуру обязана превратиться пешка, дойдя до крайней горизонтали?

- a) только в ферзя;
- b) в любую, кроме короля и пешки;
- c) в ферзя или ладью;
- d) в ту, которая была взята соперником на ближайшем ходе.

Ответ запиши: _____.

Задание № 12

С перемещения какой фигуры начинается рокировка?

- a) ладьи;
- b) короля;
- c) по желанию игрока.



Ответ запиши: _____.

Задание № 13

Если одна и та же позиция на доске повторилась за партию три раза, то...

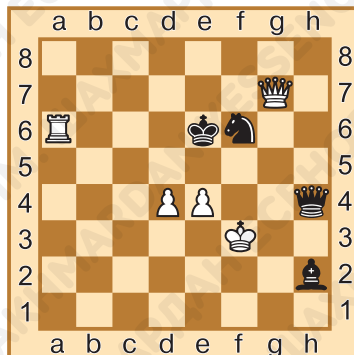
- a) партия переигрывается;
- b) побеждает тот, кто сделал первый ход повторения;
- c) присуждается ничья;
- d) побеждает тот, кто сделал последний ход повторения.

Ответ запиши: _____.

Задание № 14

Ход чёрных. Чёрному королю объявлен мат или шах?

Ответ запиши: _____.





Задание № 15

Ход чёрных. Чёрные взяли за коня f6, надо ли делать ход этим конём?

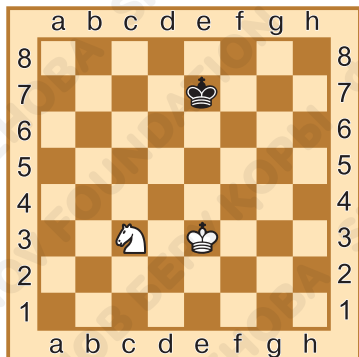
Ответ запиши: _____.



Задание № 16

Ход белых. Белые взяли за чёрную пешку c7, должны ли они её побить?

Ответ запиши: _____.



Задание № 17

Ничья или выигрыш?

Ответ запиши: _____.

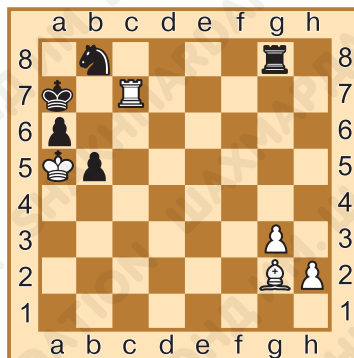


Задание № 18

Ход чёрных. Чёрному королю объявлен мат или шах?

Ответ запиши:

_____.



§ 32. Шахматная партия

Задание № 1

Как называется шахматное сражение между двумя игроками?

Ответ запиши: _____.

Задание № 2

Какова цель шахматной партии?

Ответ запиши: _____.

Задание № 3

Какими пешками лучше всего ходить в начале игры?

Ответ запиши: _____.



Задание № 4

Как называется начало шахматной партии?

Ответ запиши: _____.

Задание № 5

Какая из сторон наиболее удачно начала партию? От-

вет запиши:




Задание № 6

Как называется начало, которое разыграно в партии?

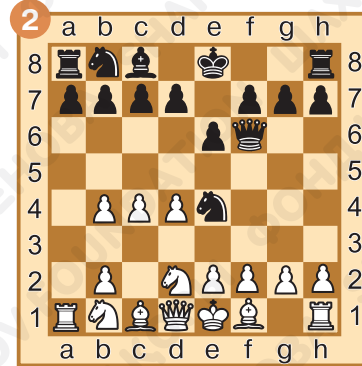
Ответ запиши:

_____.



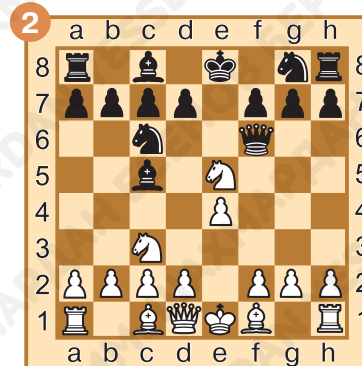
Задание № 7

Какая из сторон может объявить мат в один ход? Запиши этот ход:



Задание № 8

Одной из сторон грозит мат в один ход. Какой из двух предложенных ниже ходов позволит защититься от мата?



Ход чёрных.

1...g6;

1...Cc5.

Ход белых.


1.Фh5;

1.Kf3.

Задание № 9

Сколько возможных ходов в этой позиции могут сделать белые? Ответ запиши:

_____.



Задание № 10

Как ты оцениваешь свою работу на уроке? Выбери ответ (зачеркни ненужное, оставь один вариант):



Домашнее задание:

Задание № 11

Отгадай загадку:

*На квадратиках доски
Короли свели полки.
Нет для боя у полков
Ни патронов, ни штыков.*



Ответ запиши: _____.

Задание № 12

Как называется ловушка, которая строится на слабости пункта f7(f2)?

Ответ запиши:

_____.



Задание № 13

Сколько возможных ходов могут сделать белые из первоначальной позиции?

Ответ запиши:

_____.

Задание № 14

Какая из сторон наиболее удачно начала партию? Ответ запиши:



Задание № 15

Какая из сторон может объявить мат в один ход? Ответ запиши:



Задание № 16

Одной из сторон грозит мат в один ход. Какой из двух предложенных ниже ходов позволит защититься от мата?



Ход чёрных.

1...Kd4;

1...Kf6.



Ход белых.

1.Kf3;

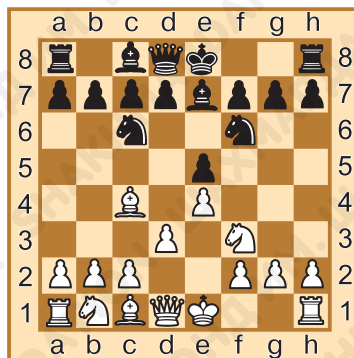
1.g3

Задание № 17

Какие возможные способы развития белых фигур есть в данной позиции?

Ответ запиши:

_____.



§ 33. Дебютные ошибки

Задание № 1

Какую часть шахматной партии называют дебютом?

Ответ запиши: _____.

Задание № 2

Может ли шахматная партия закончиться в дебюте?

Ответ запиши: _____.

Задание № 3

Что из перечисленного ниже является дебютной ошибкой?

- а) быстрый вывод в игру коней;
- б) быстрый вывод в игру центральных пешек;
- в) быстрый вывод в игру ферзя.

Ответ запиши: _____.

Задание № 4

Какой ход в начале партии может повысить безопасность короля?


Ответ запиши: _____.

Задание № 5

Чёрные допустили дебютную ошибку. Помогите белым найти путь к быстрой победе.

Ответ запиши:

_____.




Задание № 6

Ход белых. Как использовать незащищённое положение чёрного короля и поставить мат в один ход?




Задание № 7

Ход белых. Как использовать удалённое расположение чёрного ферзя и поставить мат в один ход?




Задание № 8

Ход белых. Чёрный ферзь в ловушке. Каким ходом можно его выиграть?



Задание № 9

Ход белых. Как они могут использовать недостаточную защищённость пункта f7?



Задание № 10

Как ты оцениваешь свою работу на уроке? Выбери ответ (зачеркни ненужное, оставь один вариант):



Домашнее задание:

Задание № 11

Закончи четверостишие:

Запомни правило:

Нельзя

Спешить в игру

Вводить...

Ответ запиши: _____.



Задание № 12

Является ли дебютной ошибкой продвижение крайних пешек без особой надобности?

Ответ запиши: _____.

Задание № 13

Белый конь на 32 ходу с поля g5 побил чёрную пешку на поле f7, при этом он объявил шах чёрному королю на поле h8. Как обозначить этот ход?

Ответ запиши: _____.




Задание № 14

Ход белых. Каким ходом они могут закончить партию?



Задание № 15

Ход чёрных. Как использовать стеснённое положение белого ферзя?



Задание № 16

Ход белых. Как использовать ослабленное положение чёрного короля?



§ 34. Итоговое проверочное занятие

Задание № 1

Какую фигуру может побить пешка на проходе?

Ответ запиши: _____.

Задание № 2

Какие фигуры участвуют в рокировке?

Ответ запиши: _____.

Задание № 3

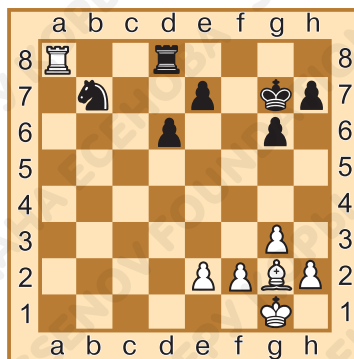
Как называется одновременное нападение на две фигуры соперника?

Ответ запиши: _____.

Задание № 4

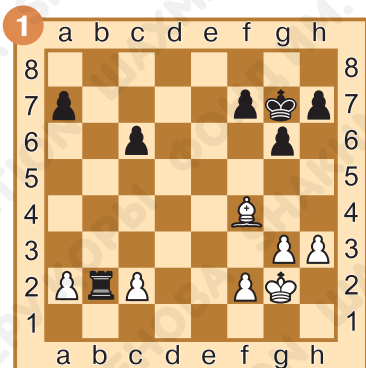
Какую фигуру выгоднее всего побить белым?

Ответ запиши: _____.




Задание № 5

Нанеси двойной удар. Ход запиши:



Задание № 6

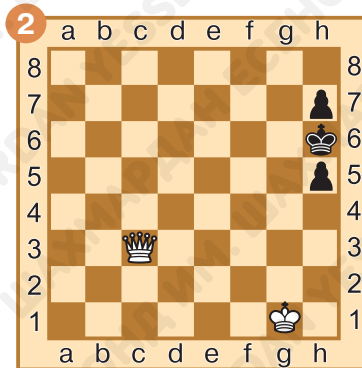
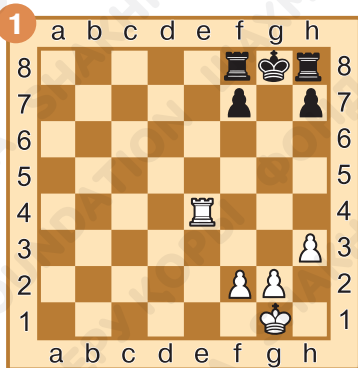
Найди самую лучшую защиту от шаха. Ход запиши:

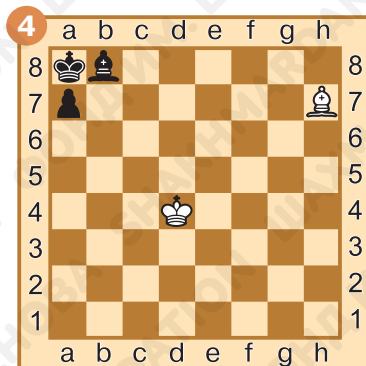
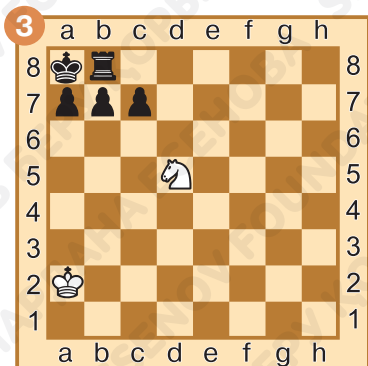


Задание № 7

Дай мат в один ход чёрному королю одиночной фигурой.

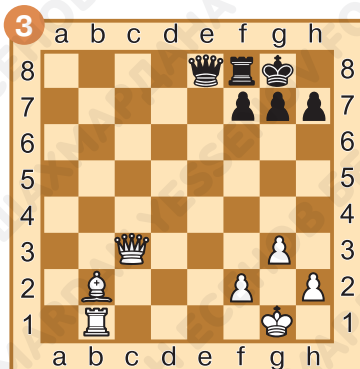
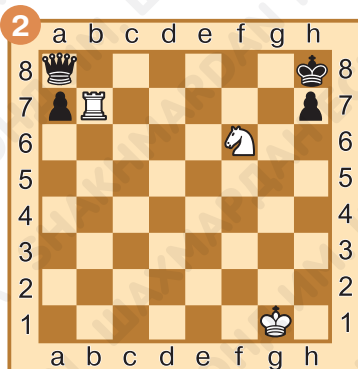
Ход запиши:





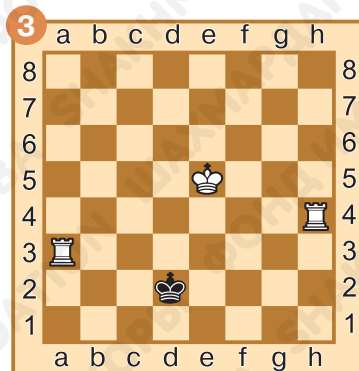
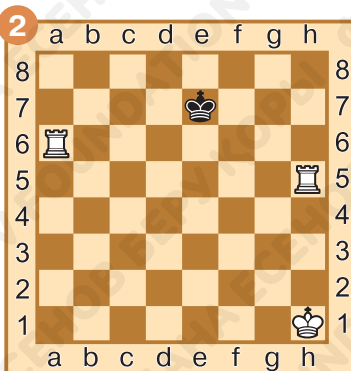
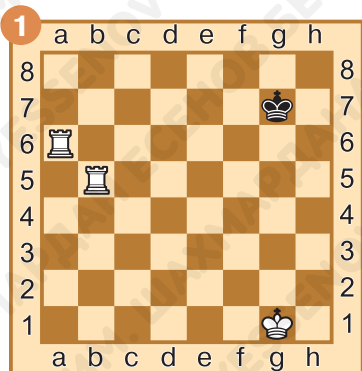
Задание № 8

Дай мат в один ход чёрному королю, используя взаимодействие фигур. Ход запиши:



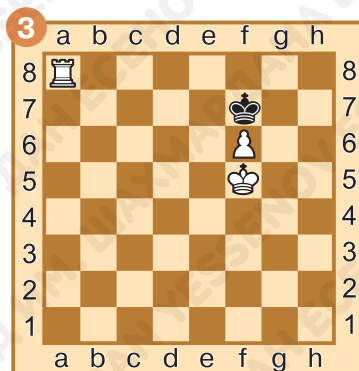
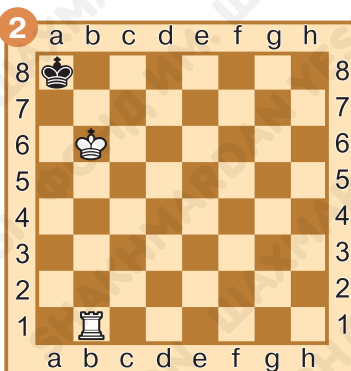
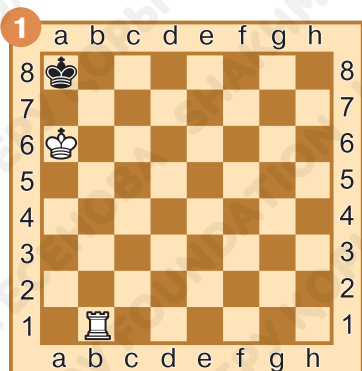
Задание № 9

Ход белых. Заверши игру линейным матом.



Задание № 10

Ход чёрных. Отметь те позиции, в которых игра завершилась патом.



Задание № 11

Отметь позиции, в которых белые могут сделать рокировку. Белый король и ладья ещё не ходили.




Задание № 12

Догадайся, какая из сторон может объявить мат в один ход?



Задание № 13

Как ты оцениваешь свою работу на уроке? Выбери ответ (зачеркни ненужное, оставь один вариант):



Домашнее задание:

Задание № 14

Как называется положение, в котором королю не объявлен шах, но ни он, ни любая другая фигура того же цвета не могут сделать ход?

Ответ запиши: _____.

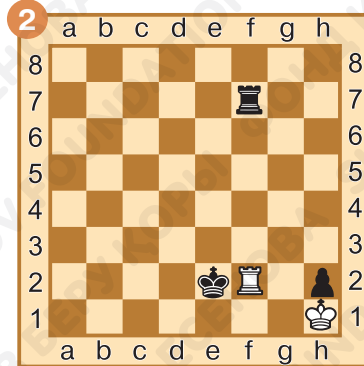
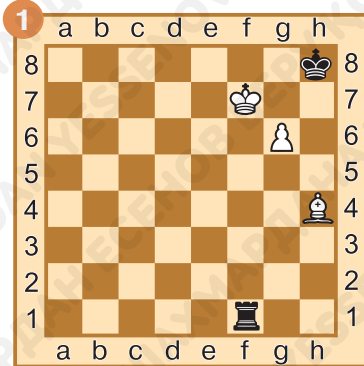
Задание № 15

Сколько раз в партии можно делать рокировку?

Ответ запиши: _____.

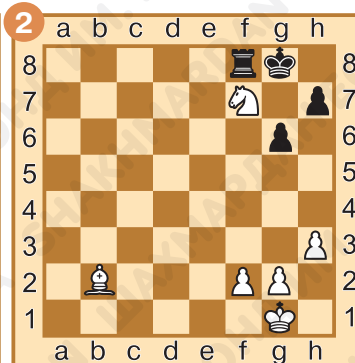
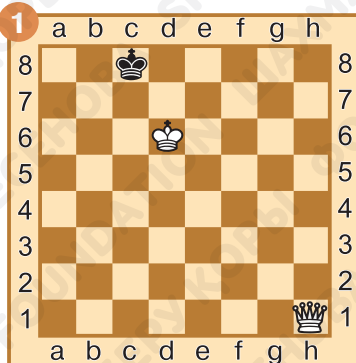
Задание № 16

Одному из королей объявлен шах. Как лучше всего защититься от шаха? Ход запиши:



Задание № 17

Ход белых. Дай мат в один ход. Ход запиши:



Задание № 18

Одной из сторон грозит детский мат. Какой из предложенных ходов позволит защититься от этой угрозы?



1. Kf6;
2. g6.



1. K:h4;
2. Cg5.





Дорогой друг!

Этот учебный год прошёл не зря, особенно если часть его ты провёл за шахматной доской! Надеемся, что с помощью своего учителя ты справился со всеми заданиями и на каникулах будешь продолжать практиковаться в игре со своими друзьями и родителями, используя знания, которые получил в школе.

А на следующий год мы встретимся с тобой опять и попробуем более глубоко разобраться в премудростях нашей замечательной игры.

Хорошего тебе отдыха и до новой встречи!

Учебное издание

**Хасанова Флюра Сиреньевна
Даулетова Гульмира Бекзатовна**

ШАХМАТЫ

*Рабочая тетрадь № 2 к учебному пособию № 2
для 2 класса общеобразовательной школы*

Издание 1-е

Редакционная коллегия: С. Абрамов, В. Касаткина

Художник: О. Сидорова

Корректор: Е. Баркова

Компьютерная вёрстка: О. Сидорова

Формат 70×90 1/16. Бумага офсетная. Печать офсетная.

Гарнитура Pragmatica. Усл. печ. л. 00,00 + 0,00 форзац.

Уч.-изд. 00,00 + 0,00 форзац.

Тираж 750 экз.

Научно-образовательный фонд им. Академ. Шахмардана Есенова,
050040, г. Алматы, пр. Аль-Фараби, 36.



ISBN 978-601-7218-21-8



9 786017 218218