

Г. Даулетова, Р. Хуснутдинов

ШАХМАТЫ

3
КЛАСС

РАБОЧАЯ ТЕТРАДЬ № 2

Blank writing area with four horizontal lines.



Научно-образовательный фонд им. Академ. Шахмардана Есенова
АЛМАТЫ, 2018

Г. Даулетова, Р. Хуснутдинов

ШАХМАТЫ

3
класс

РАБОЧАЯ ТЕТРАДЬ № 2



Научно-образовательный фонд им. Академ. Шахмардана Есенова

АЛМАТЫ, 2018

УДК 794(075.3)
ББК 75.581Я72
Ш 31

Ш 31 Шахматы: Рабочая тетрадь № 2 к учебному пособию для 3 класса общеобразоват. шк. / сост. Г.Б. Даулетова, Р.Д. Хуснутдинов. — Алматы, 2018 — 120 стр.

ISBN 978-601-80740-2-8

УДК 794(075.3)

© Научно-образовательный фонд им.
Академ. Шахмардана Есенова, 2018
© Печать ТОО «Brand Book», 2018

§ 16. Выигрыш материала. Двойной удар ладьёй, слоном, пешкой, королём	4
§ 17. Выигрыш материала. Двойной удар ферзём	12
§ 18. Выигрыш материала. Двойной удар конём	19
§ 19. Выигрыш материала. Сквозной удар (рентген)	26
§ 20. Выигрыш материала. Связка	33
§ 21. Выигрыш материала. Связка (продолжение)	40
§ 22. Выигрыш материала. Открытый шах	46
§ 23. Выигрыш материала. Открытое нападение	53
§ 24. Выигрыш материала. Двойной шах	60
§ 25. Игровое занятие	67
§ 26. Итоговое занятие. Выигрыш материала	75
§ 27. Элементарные пешечные окончания. Король и пешка против короля. Правило «Квадрата»	83
§ 28. Элементарные пешечные окончания. Оппозиция	87
§ 29. Элементарные пешечные окончания. Как провести пешку в ферзи?	92
§ 30. Правила игры в дебюте. Принцип быстрого развития	96
§ 31. Правила игры в дебюте. Принцип борьбы за центр	100
§ 32. Правила игры в дебюте. Принцип безопасности короля	103
§ 33. Игровое занятие. Правила разыгрывания дебюта	106
§ 34. Итоговое занятие	109
Заключительное слово	118



§ 16. Выигрыш материала. Двойной удар ладьёй, слоном, пешкой, королём

Задание № 1

Побить фигуру «бесплатно» или отдать за неё менее ценную фигуру означает ...

Ответ запиши: _____.

Задание № 2

Как называется одновременное нападение фигуры на два объекта противника?

Ответ запиши: _____.

Задание № 3

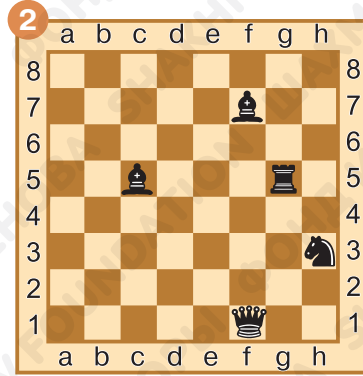

Какие фигуры могут стать объектами двойного удара?

Ответ запиши: _____

_____.

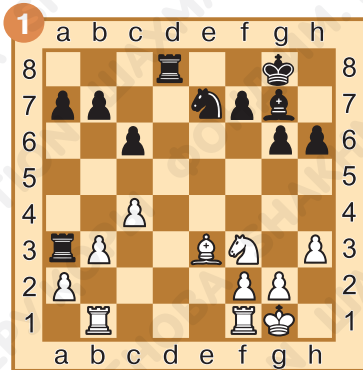
Задание № 4

Найди незащищённую чёрную фигуру. Ответ запиши.



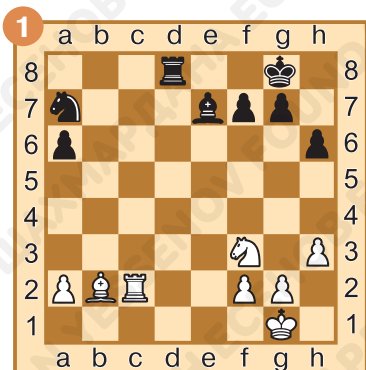
Задание № 5

Определи, какие из чёрных фигур могут быть объектами двойного удара. Ответ запиши.



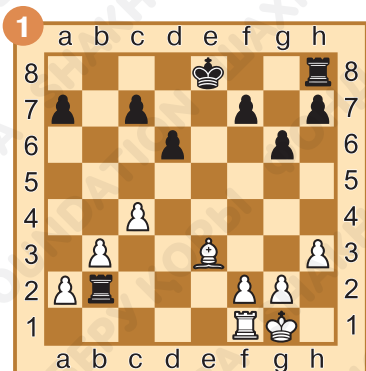
Задание № 6

Ход белых. Используй неудачное положение чёрных фигур и нанеси двойной удар ладьёй. Ответ запиши.



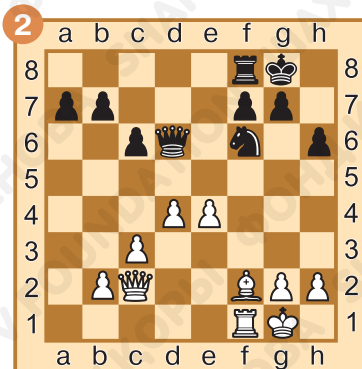
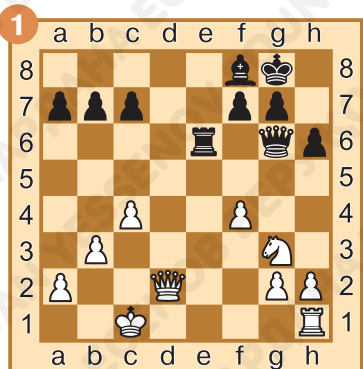
Задание № 7

Ход белых. Используй неудачное положение чёрных фигур и нанеси двойной удар слоном. Ответ запиши.



Задание № 8

Ход белых. Используй неудачное положение чёрных фигур и нанеси двойной удар пешкой. Ответ запиши.



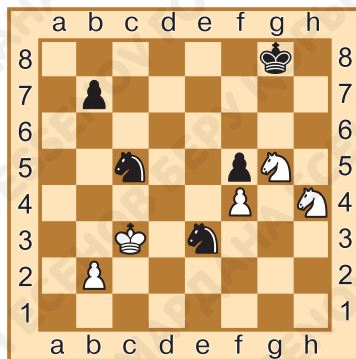
1. _____

1. _____

Задание № 9


Ход белых. Используй неудачное положение чёрных фигур и нанеси двойной удар королём. Ответ запиши.

1. _____.




Задание № 10

Ход белых. Объяви двойной удар с шахом. Ответ запиши.



1. _____



1. _____

Задание № 11

Как ты оцениваешь свою работу на уроке? Выбери ответ (зачеркни ненужное, оставь один вариант):



Домашнее задание:

Задание № 12

Как называется двойной удар, который наносит пешка?

Ответ запиши: _____.

Задание № 13


Может ли король быть объектом двойного удара?

Ответ запиши: _____.



Задание № 14

Ход белых. Используй неудачное положение чёрных фигур и нанеси двойной удар ладьёй. Ответ запиши.



1. _____

1. _____


Задание № 15

Ход белых. Используй неудачное положение чёрных фигур и нанеси двойной удар слоном. Ответ запиши.



Задание № 16

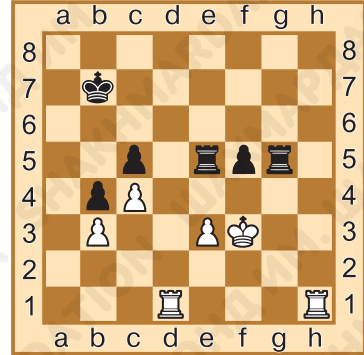
Ход белых. Используй неудачное положение чёрных фигур и нанеси двойной удар пешкой. Ответ запиши.



Задание № 17

Ход белых. Используй неудачное положение чёрных фигур и нанеси двойной удар королём. Ответ запиши.

1. _____.



Задание № 18

Ход белых. Нанеси двойной удар, создав угрозу мата в один ход. Ответ запиши.




1. _____.



1. _____.





§ 17. Выигрыш материала. Двойной удар ферзём

Задание № 1

В скольких направлениях атакует ферзь, находясь в углу доски?

Ответ запиши: _____.

Задание № 2

Выгодно ли ферзю наносить двойной удар фигурам, которые защищены?

Ответ запиши: _____.

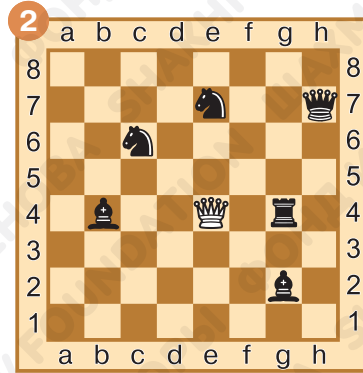

Задание № 3

Можно ли при двойном ударе с шахом спастись, защитив одновременно короля и атакованную фигуру?

Ответ запиши: _____.

Задание № 4

Найди незащищённые чёрные фигуры. Ответ запиши.



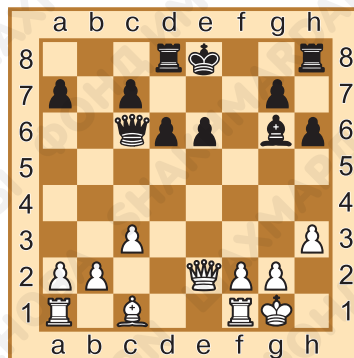
Задание № 5

Определи, какие из чёрных фигур могут быть объектами двойного удара. Ответ запиши.




Задание № 6

Ход белых. Используй неудачное положение чёрных фигур и нанеси двойной удар ферзём по вертикали и горизонтали. Ответ запиши.



1. _____.



Задание № 7

Ход белых. Используй неудачное положение чёрных фигур и нанеси двойной удар ферзём по диагоналям. Ответ запиши.


1. _____.

Задание № 8

Ход белых. Используй неудачное положение чёрных фигур и нанеси двойной удар ферзём, сочетая направления. Ответ запиши.



1. _____





1. _____

Задание № 9


Ход белых. Используй неудачное положение чёрных фигур и нанеси двойной удар ферзём с шахом. Ответ запиши.

1. _____



Задание № 10

Ход белых. Нанеси двойной удар ферзём, создав угрозу мата в один ход. Ответ запиши.



1. _____



1. _____

Задание № 11

Как ты оцениваешь свою работу на уроке? Выбери ответ (зачеркни ненужное, оставь один вариант):



Домашнее задание:

Задание № 12

Может ли ферзь стать объектом двойного удара, который наносит ферзь?

Ответ запиши: _____.

Задание № 13

Сколько фигур способен атаковать ферзь одновременно?


Ответ запиши: _____.

Задание № 14

Ход белых. Нанеси двойной удар ферзём на незащищённые фигуры чёрных. Ответ запиши.



1. _____




1. _____

Задание № 15

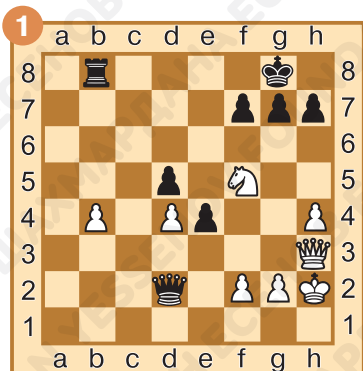
Ход белых. Нанеси двойной удар ферзём с шахом. Ответ запиши.

1. _____.




Задание № 16

Ход белых. Нанеси двойной удар ферзём, создав угрозу мата в один ход. Ответ запиши.



1. _____

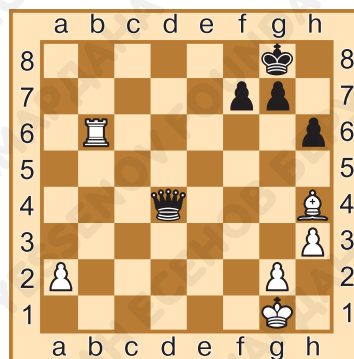


1. _____

Задание № 17

Ход белых. Защитись от двойного удара. Ответ запиши.

1. _____



Задание № 18

Ход чёрных. Защитись от двойного удара. Ответ запиши.

1. _____



§ 18. Выигрыш материала. Двойной удар конём

Задание № 1

На сколько фигур одновременно может нападать конь, находясь в центре доски?

Ответ запиши: _____.

Задание № 2

Как называется двойной удар конём?

Ответ запиши: _____.

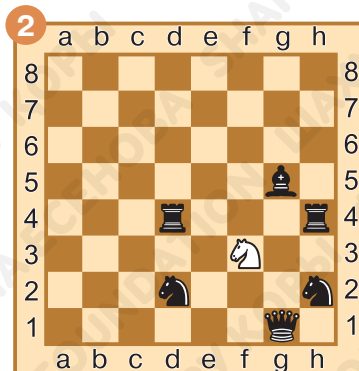
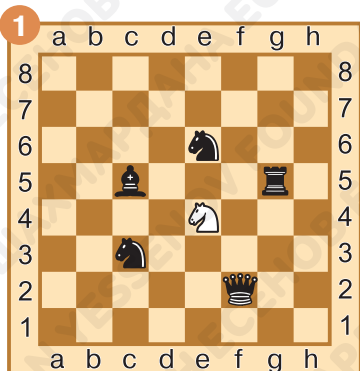
Задание № 3

Сколько видов коневых вилок может наносить конь?

Ответ запиши: _____.

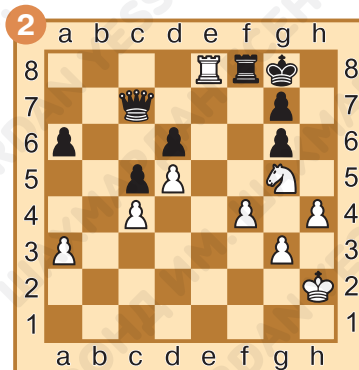

Задание № 4

Найди незащищённую чёрную фигуру, которую атакует белый конь. Ответ запиши.



Задание № 5

Определи, какие из чёрных фигур могут быть объектами двойного удара конём. Ответ запиши.



Задание № 6

Ход белых. Используй неудачное положение чёрных фигур и нанеси двойной удар конём по диагонали. Ответ запиши.




1. _____

1. _____



Задание № 7

Ход белых. Используй неудачное положение чёрных фигур и нанеси двойной удар конём по вертикали (горизонтали). Ответ запиши.



1. _____

Задание № 8

Ход белых. Используй неудачное положение чёрных фигур и нанеси двойной удар конём по двум диагоналям. Ответ запиши.



1. _____



1. _____

Задание № 9

Ход белых. Используй неудачное положение чёрных фигур и нанеси двойной удар конём с шахом. Ответ запиши.



1. _____

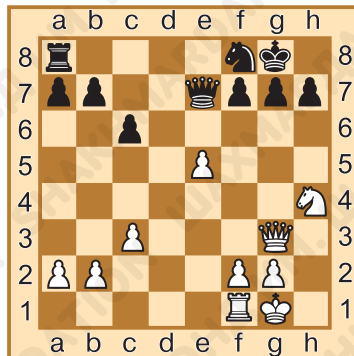


1. _____

Задание № 10

Ход белых. Нанеси двойной удар конём, создав угрозу мата в один ход. Ответ запиши.

1. _____.



Задание №11

Как ты оцениваешь свою работу на уроке? Выбери ответ (зачеркни ненужное, оставь один вариант):



Домашнее задание:

Задание № 12

Можно ли спастись от коневой вилки с шахом?

Ответ запиши: _____.

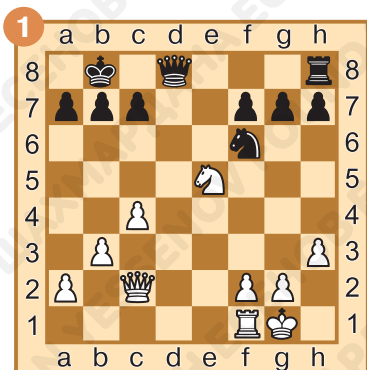
Задание № 13

Может ли конь быть мишенью при коневой вилке?

Ответ запиши: _____.

Задание № 14

Ход белых. Нанеси двойной удар конём более ценным фигурам чёрных. Ответ запиши.



1. _____



1. _____

Задание № 15

Ход белых. Нанеси двойной удар конём с шахом. Ответ запиши.



1. _____

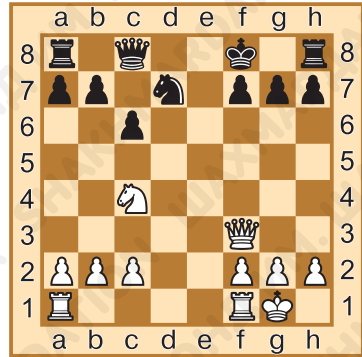


1. _____

Задание № 16

Ход белых. Нанеси двойной удар конём, создав угрозу мата в один ход. Ответ запиши.

1. _____.



Задание № 17


Ход чёрных. Защитись от двойного удара. Ответ запиши.

1... _____.

Задание № 18

Ход чёрных. Защитись от двойного удара. Ответ запиши.

1... _____.





§ 19. Выигрыш материала. Сквозной удар (рентген)

Задание № 1

Какие фигуры в шахматной армии называются даль-
нобойными?

Ответ запиши: _____.

Задание № 2

По каким линиям осуществляется сквозной удар?

Ответ запиши: _____.


Задание № 3

Можно ли при помощи перекрытия спастись от сквоз-
ного удара?

Ответ запиши: _____.

Задание № 4

Определи, какие из чёрных фигур могут быть объектами сквозного удара. Ответ запиши.






Задание № 5


Ход белых. Используй неудачное положение чёрных фигур и нанеси сквозной удар по диагонали. Ответ запиши.

1. _____.




Задание № 6

Ход белых. Используй неудачное положение чёрных фигур и нанеси сквозной удар по вертикали. Ответ запиши.



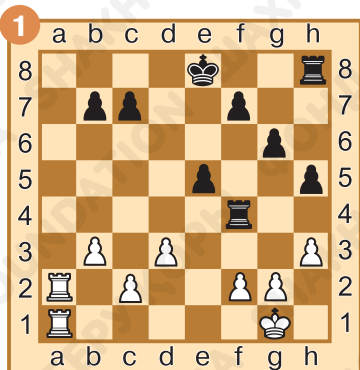
1. _____



1. _____

Задание № 7

Ход белых. Используй неудачное положение чёрных фигур и нанеси сквозной удар по горизонтали. Ответ запиши.



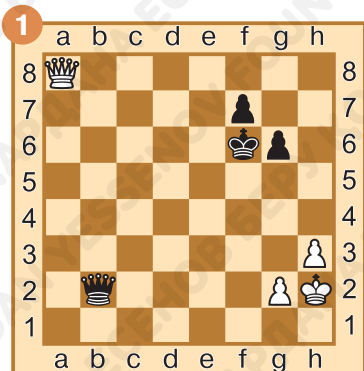
1. _____



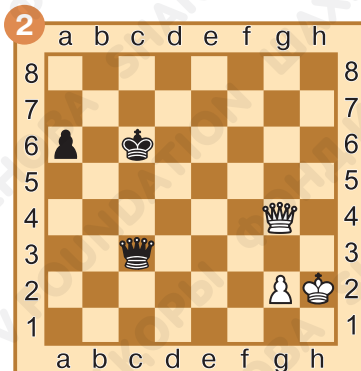
1. _____

Задание № 8

Ход белых. Используй неудачное положение чёрных фигур и нанеси сквозной удар с шахом. Ответ запиши.



1. _____

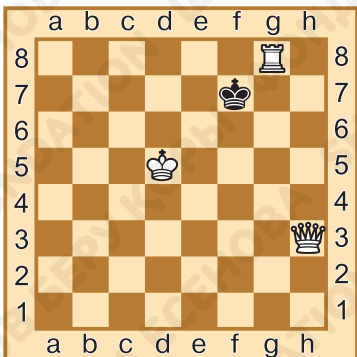



1. _____

Задание № 9

Ход чёрных. Найди спасение от сквозного удара. Ответ запиши.

1. _____



Задание № 10

Ход белых. Поставь мат в один ход, используя сквозную защиту своей фигуры. Ответ запиши.

1. _____

Задание № 11

Как ты оцениваешь свою работу на уроке? Выбери ответ (зачеркни ненужное, оставь один вариант):



Домашнее задание:

Задание № 12


Может ли конь наносить сквозной удар?

Ответ запиши: _____.

Задание № 13

Какие фигуры могут наносить сквозной удар?

Ответ запиши: _____.




Задание № 14

Ход белых. Нанеси сквозной удар с шахом и выиграй чёрного ферзя. Ответ запиши.



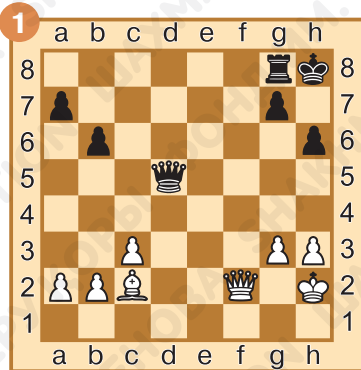
1. _____



1. _____

Задание № 15

Ход белых. Нанеси сквозной удар без шаха и выиграй материал. Ответ запиши.



1. _____

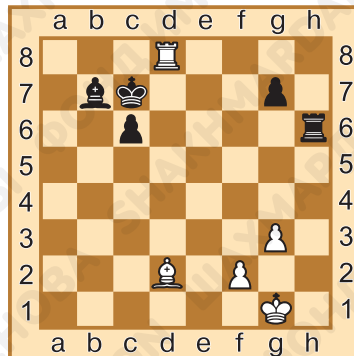


1. _____

Задание № 16

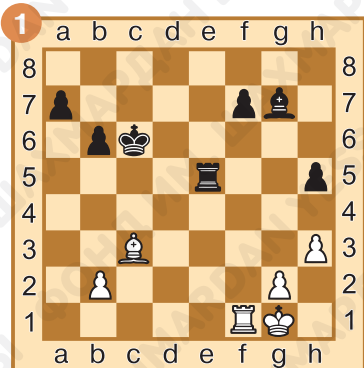
Ход белых. Поставь мат в один ход, используя сквозную защиту своей фигуры. Ответ запиши.

1. _____.

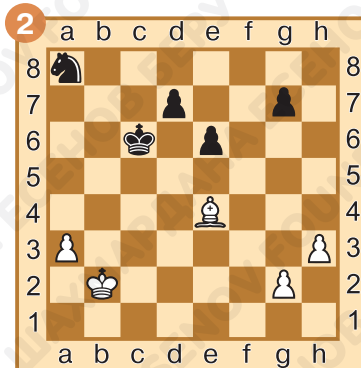


Задание № 17

Ход чёрных. Защитись от сквозного удара. Ответ запиши.



1... _____



1... _____



Задание № 18

Ход белых. Защитись от сквозного удара. Ответ запиши.

1. _____.



§ 20. Выигрыш материала. Связка

Задание № 1

Какие фигуры могут делать связку?

Ответ запиши: _____.

Задание № 2

Какие виды связки возможны?

Ответ запиши: _____.

Задание № 3

Как называется связка с королём?

Ответ запиши: _____.

Задание № 4

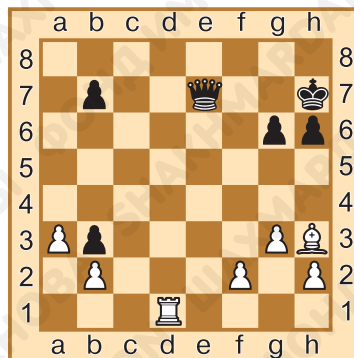
Определи, какую из чёрных фигур можно связать. Ответ запиши.



Задание № 5

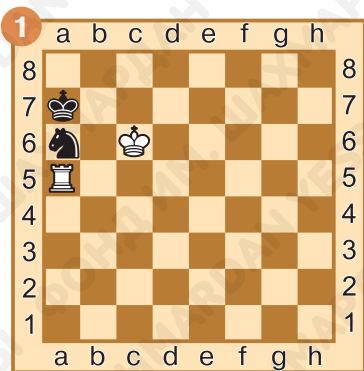
Ход белых. Свяжи неприятельскую фигуру. Ответ запиши.

1. _____.

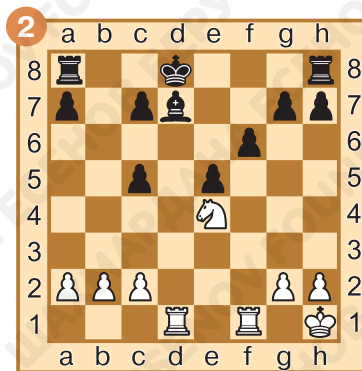


Задание № 6

Ход белых. Выиграй связанную фигуру, увеличив количество нападений на неё. Ответ запиши.



1. _____



1. _____

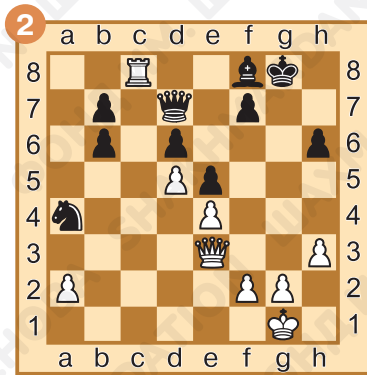
Задание № 7

Ход белых. Выиграй материал, уменьшив количество защит с помощью шаха. Ответ запиши.





1. _____



1. _____



Задание № 8

Ход белых. Выиграй материал, побив мнимо защищённую фигуру. Ответ запиши.



1. _____

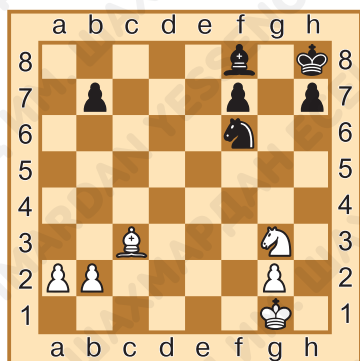
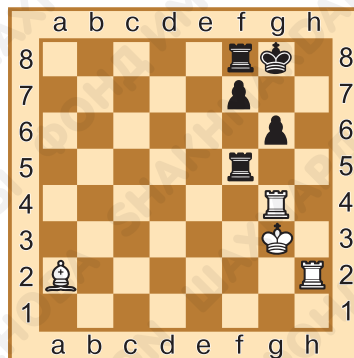


1. _____

Задание № 9

Ход белых. Поставь мат в один ход, используя связку. Ответ запиши.

1. _____.



Задание № 10

Ход чёрных. Защитись от связки. Ответ запиши.

1... _____.



Задание № 11

Как ты оцениваешь свою работу на уроке? Выбери ответ (зачеркни ненужное, оставь один вариант):



Домашнее задание:

Задание № 12

Может ли конь связывать чужие фигуры?

Ответ запиши: _____.

Задание № 13

К какому виду относится связка, при которой фигура прикрывает важное поле, с которого можно поставить мат королю?



Ответ запиши: _____.

Задание № 14

Ход белых. Свяжи неприятельскую фигуру. Ответ запиши.



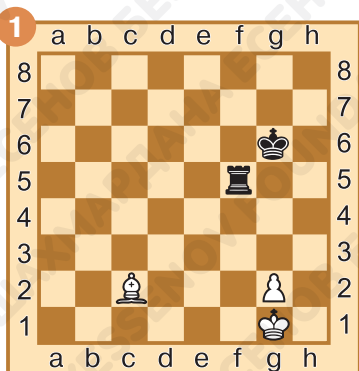
1. _____




1. _____

Задание № 15

Ход белых. Выиграй связанную фигуру. Ответ запиши.



1. _____



1. _____

Задание № 16

Ход белых. Выиграй материал, побив мнимо защищённую фигуру. Ответ запиши.



1. _____

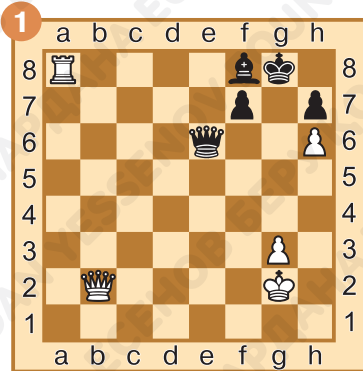


1. _____


Задание № 17

Ход белых. Поставь мат в один ход, используя связку.

Ответ запиши.



1. _____




1. _____

Задание № 18

Ход чёрных. Защитись от связки.
ки. Ответ запиши.

1. _____



§ 21. Выигрыш материала. Связка (продолжение)

Задание № 1

Какие фигуры могут делать относительную связку?

Ответ запиши: _____.

Задание № 2

Может ли король быть прикрываемой фигурой при относительной связке?

Ответ запиши: _____.

Задание № 3

При относительной связке может ли связанная фигура уйти?

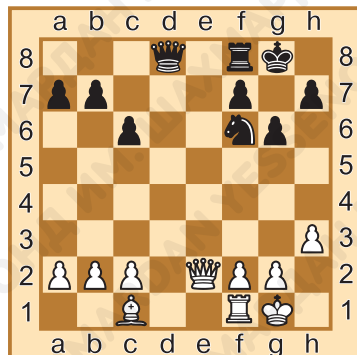
Ответ запиши: _____.



Задание № 4

Определи, какую из чёрных фигур можно связать. Ответ запиши.

_____.



Задание № 5

Ход белых. Свяжи неприятельскую фигуру. Ответ запиши.



1. _____



1. _____

Задание № 6

Ход белых. Выиграй связанную фигуру, увеличив количество нападения на неё. Ответ запиши.



1. _____



1. _____

Задание № 7

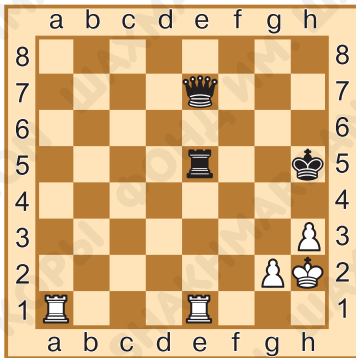
Ход белых. Выиграй материал, побив мнимо защищённую фигуру. Ответ запиши.



1. _____



1. _____



Задание № 8

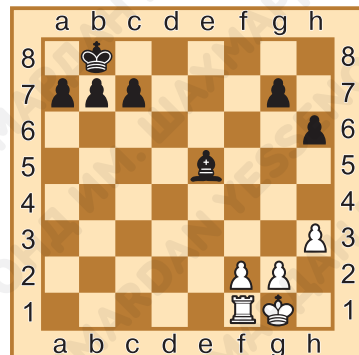
Ход белых. Сделай двойную связку. Ответ запиши.

1. _____

Задание № 9

Ход белых. Свяжи фигуру, создав угрозу мата в один ход. Ответ запиши.

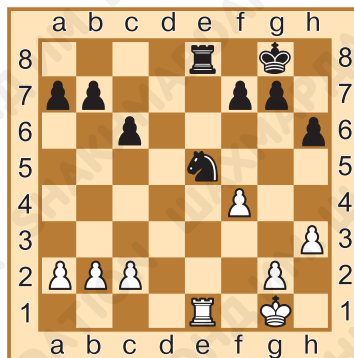
1. _____



Задание № 10

Ход чёрных. Защитись от связки, используя отход связанной фигуры с шахом. Ответ запиши.

1. _____.



Задание № 11

Как ты оцениваешь свою работу на уроке? Выбери ответ (зачеркни ненужное, оставь один вариант):



Домашнее задание:

Задание № 12

К какому виду относится связка, если прикрываемая фигура — король?

Ответ запиши: _____.


Задание № 13

Может ли пешка связать неприятельскую фигуру?

Ответ запиши: _____.

Задание № 14

Ход белых. Свяжи неприятельскую фигуру. Ответ запиши.



1. _____

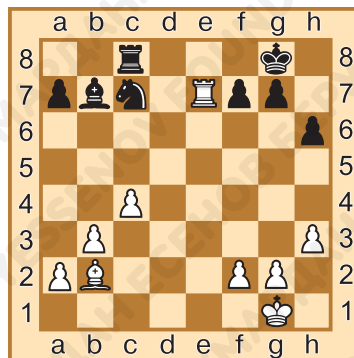


1. _____

Задание № 15

Ход белых. Выиграй связанную фигуру, увеличив количество нападений. Ответ запиши.

1. _____



Задание № 16


Ход белых. Выиграй материал, побив мнимо защищённую фигуру. Ответ запиши.



1. _____



1. _____



Задание № 17


Ход белых. Свяжи фигуру, создав угрозу мата в один ход. Ответ запиши.

1. _____

Задание № 18

Ход чёрных. Защитись от связки, используя отход прикрываемой фигуры с шахом. Ответ запиши.

1. _____



§ 22. Выигрыш материала. Открытый шах

Задание № 1

Как называется приём, при котором ходит одна фигура, а шах объявляет другая фигура?

Ответ запиши: _____.

Задание № 2

Как называется фигура, которая делает ход при открытом шахе?

Ответ запиши: _____.

Задание № 3

Какие фигуры могут выполнять роль открываемых при открытом шахе?

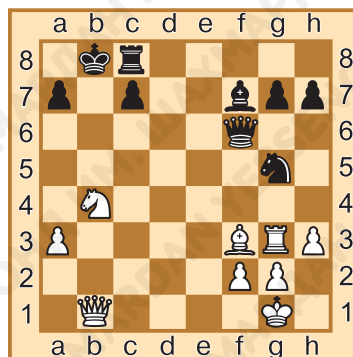
Ответ запиши:



Задание № 4


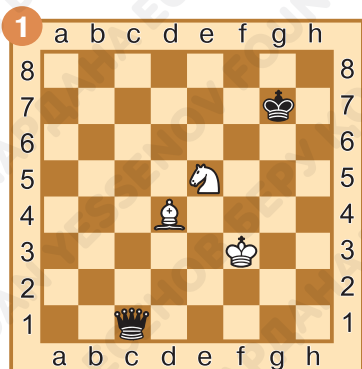
Определи, какие белые фигуры создали механизм открытого шаха. Ответ запиши.

_____.



Задание № 5

Определи, какая из фигур является ударной, а какая открываемой при открытом шахе. Ответ запиши.



1. _____

1. _____



Задание № 6

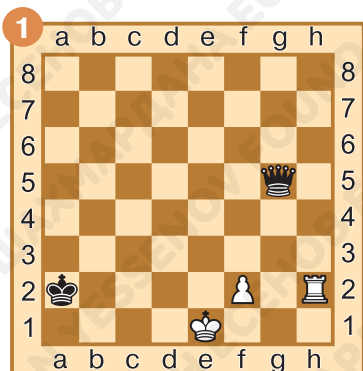
Ход белых. Построй механизм открытого шаха. Ответ запиши.

1. _____.




Задание № 7

Ход белых. Выиграй ферзя, используя в качестве ударной фигуры пешку. Ответ запиши.



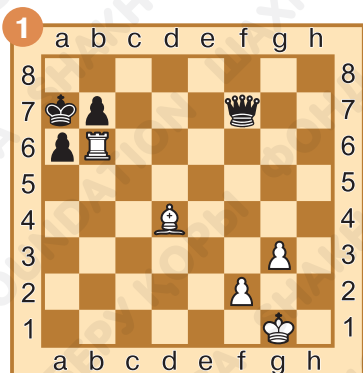
1. _____



1. _____

Задание № 8

Ход белых. Выиграй материал, используя в качестве ударной фигуры ладью. Ответ запиши.



1. _____




1. _____

Задание № 9

Ход белых. Поставь мат в один ход, используя открытый шах. Ответ запиши.



1. _____



1. _____

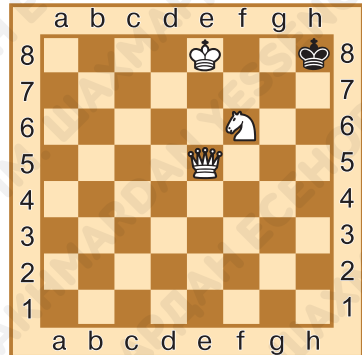


Задание № 10

Ход чёрных. Поставь мат в два хода с помощью открытого шаха. Ответ запиши.

1. _____

2. _____



Задание № 11

Как ты оцениваешь свою работу на уроке? Выбери ответ (зачеркни ненужное, оставь один вариант):



Домашнее задание:

Задание № 12

Какие фигуры могут выполнять роль ударных при открытом шахе?

Ответ запиши: _____.

Задание № 13

Может ли конь выполнять роль открываемой фигуры при открытом шахе?

Ответ запиши: _____.

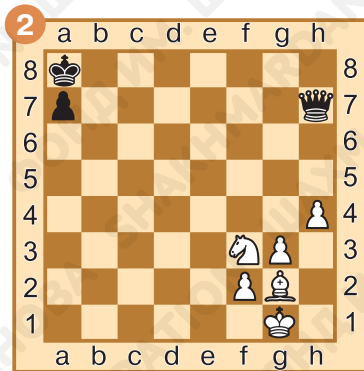


Задание № 14

Ход белых. Сделай открытый шах и определи роли фигур.
Ответ запиши.




1. _____




1. _____

Задание № 15

Ход белых. Построй механизм открытого шаха. Ответ запиши.



1. _____

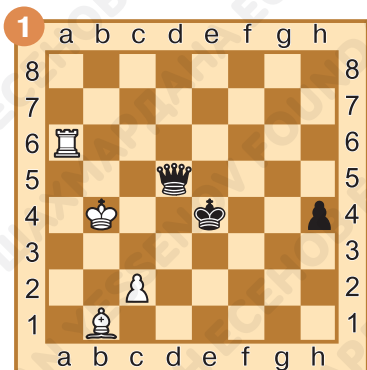


1. _____

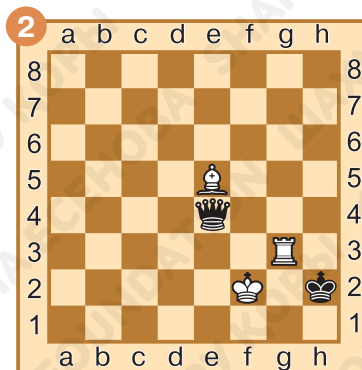
Задание № 16

Ход белых. Выиграй ферзя, используя открытый шах.

Ответ запиши.



1. _____

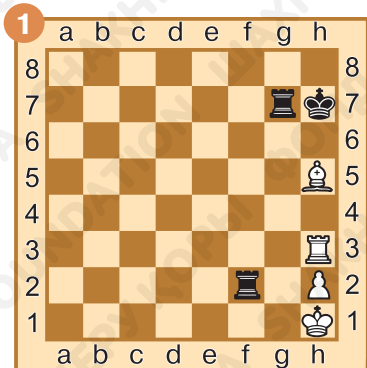


1. _____


Задание № 17

Ход белых. Поставь мат в один ход, используя открытый шах.

Ответ запиши.



1. _____



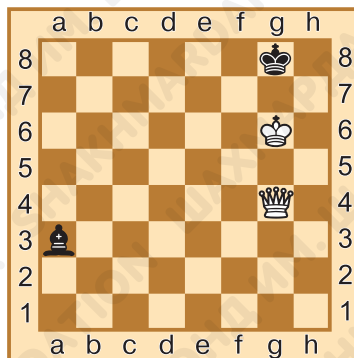
1. _____

Задание № 18

Ход белых. Поставь мат в два хода с помощью открытого шаха. Ответ запиши.

1. _____.

2. _____.



§ 23. Выигрыш материала. Открытое нападение

Задание № 1

Какая фигура (ударная или открываемая) может объявлять шах при открытом нападении?

Ответ запиши: _____.

Задание № 2

Может ли ферзь быть ударной фигурой при открытом нападении?

Ответ запиши: _____.



Задание № 3


Какой вид открытого нападения наиболее опасен?

Ответ запиши: _____.

Задание № 4

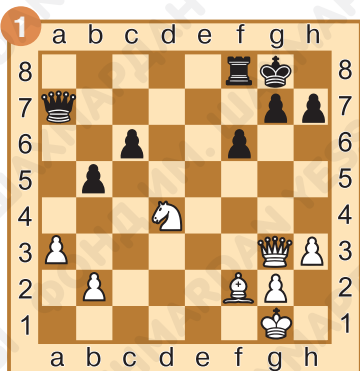
Определи, какие белые фигуры создали механизм открытого нападения. Ответ запиши.

_____.

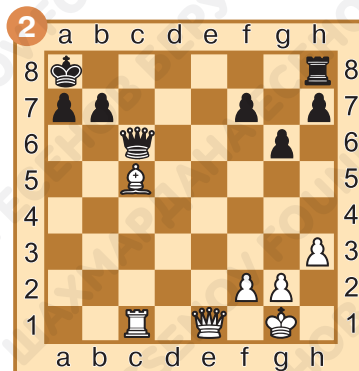


Задание № 5

Ход белых. Осуществи открытое нападение и определи роли фигур. Ответ запиши.



1. _____



1. _____

Задание № 6

Ход белых. Каким ходом можно осуществить открытое нападение на две фигуры? Ответ запиши.





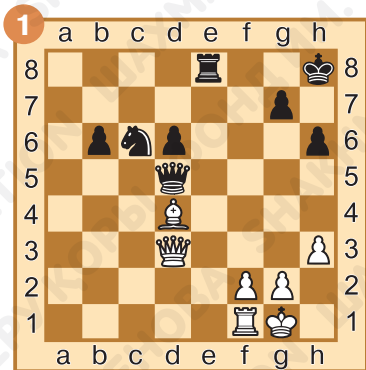
1. _____

1. _____



Задание № 7

Ход белых. Выиграй ферзя, осуществив открытое нападение с шахом. Ответ запиши.



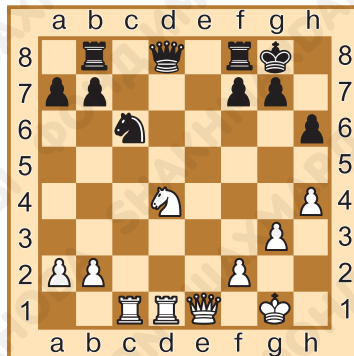
1. _____

1. _____

Задание № 8

Ход белых. Выиграй материал, используя открытое нападение с взятием. Ответ запиши.

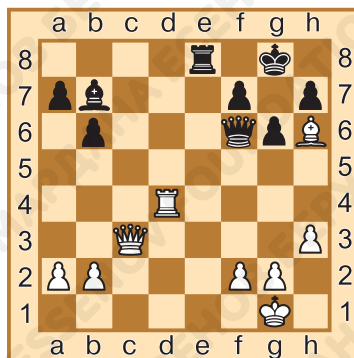
1. _____.



Задание № 9

Ход белых. Выиграй материал, используя открытое нападение с угрозой мата. Ответ запиши.

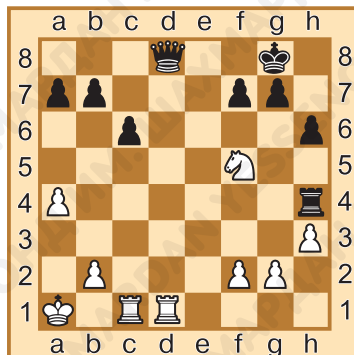
1. _____.



Задание № 10

Ход чёрных. Белые ходом 1.Kf5 осуществили открытое нападение. Как чёрным спастись от открытого нападения? Ответ запиши.

1. _____.



Задание № 11

Как ты оцениваешь свою работу на уроке? Выбери ответ (зачеркни ненужное, оставь один вариант):



Домашнее задание:

Задание № 12

Как распределяются роли фигур при открытом нападении?

Ответ запиши: _____.



Задание № 13

Какие фигуры могут выполнять роль открываемых при открытом нападении?

Ответ запиши: _____.

Задание № 14

Ход белых. Осуществи открытое нападение и определи роли фигур. Ответ запиши.




1. _____



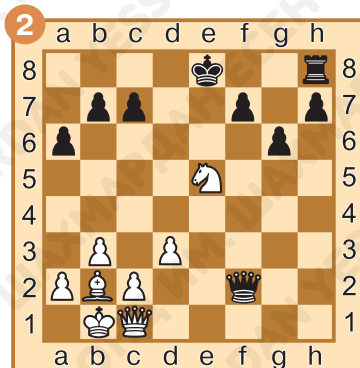
1. _____

Задание № 15

Ход белых. Каким ходом можно осуществить открытое нападение на две фигуры? Ответ запиши.




1. _____



1. _____

Задание № 16

Ход белых. Выиграй ферзя, используя открытое нападение с шахом. Ответ запиши.



1. _____

1. _____

Задание № 17

Ход белых. Выиграй материал, используя открытое нападение с взятием. Ответ запиши.

1. _____



Задание № 18

Ход белых. Выиграй материал, используя открытое нападение с угрозой мата. Ответ запиши.

1. _____

§ 24. Выигрыш материала. Двойной шах

Задание № 1

Как называется тактический приём, при котором неприятельскому королю объявляют шах сразу две фигуры?

Ответ запиши: _____.

Задание № 2

Могут ли два слона объявить двойной шах неприятельскому королю?



Ответ запиши: _____.

Задание № 3

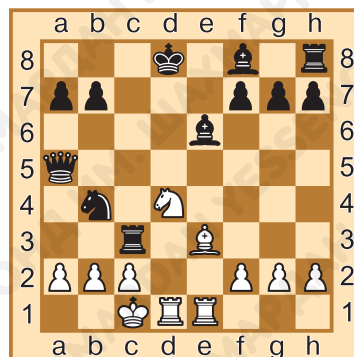
Какие есть способы защиты от двойного шаха?

Ответ запиши: _____.

Задание № 4

Определи, какие белые фигуры могут объявить двойной шах чёрному королю. Ответ запиши.

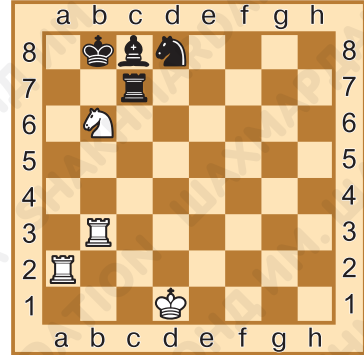
_____.



Задание № 5

Ход белых. Объяви двойной шах с помощью вертикальной батареи. Ответ запиши.

1. _____.




Задание № 6

Ход белых. Объяви двойной шах с помощью диагональной батареи. Ответ запиши.



1. _____.

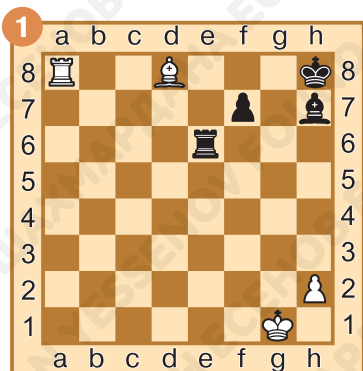


1. _____.




Задание № 7

Ход белых. Объяви двойной шах с помощью горизонтальной батареи. Ответ запиши.



1. _____




1. _____

Задание № 8

Ход белых. Выиграй материал, используя двойной шах. Ответ запиши.

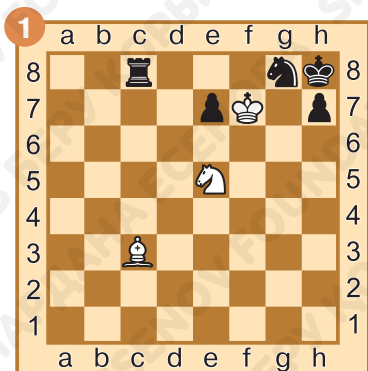
1. _____



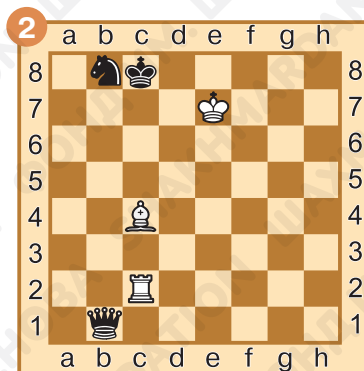
Задание № 9

Ход белых. Поставь мат в один ход с помощью двойного шаха. Ответ запиши.





1. _____



1. _____

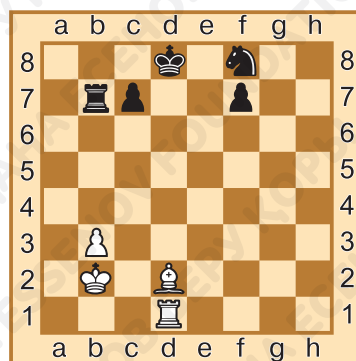
Задание № 10

Ход белых. Поставь мат в два хода с помощью двойного шаха.

Ответ запиши.

1. _____.

2. _____.



Задание № 11

Как ты оцениваешь свою работу на уроке? Выбери ответ (зачеркни ненужное, оставь один вариант):



Домашнее задание:

Задание № 12


Может ли король атакующей стороны участвовать в конструкции двойного шаха?

Ответ запиши: _____.

Задание № 13

Могут ли два коня объявить двойной шах неприятельскому королю?

Ответ запиши: _____.



Задание № 14

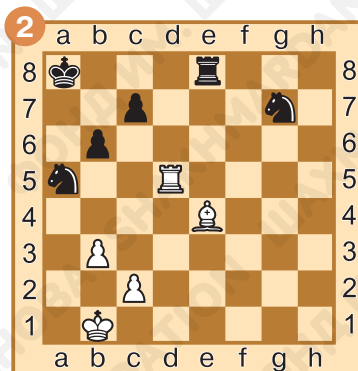

Ход белых. Объяви двойной шах с помощью вертикальной батареи. Ответ запиши.

1. _____.

Задание № 15

Ход белых. Объяви двойной шах с помощью диагональной батареи. Ответ запиши.





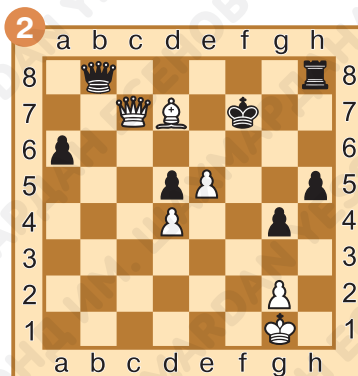

1. _____

1. _____



Задание № 16

Ход белых. Выиграй материал с помощью двойного шаха. Ответ запиши.

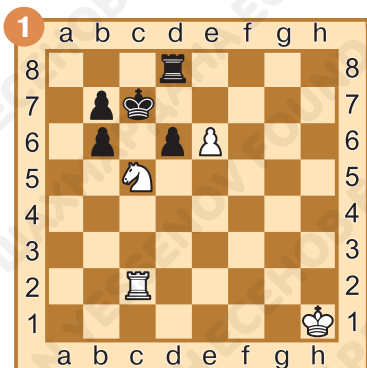


1. _____

1. _____

Задание № 17

Ход белых. Поставь мат в один ход с помощью двойного шаха. Ответ запиши.



1. _____




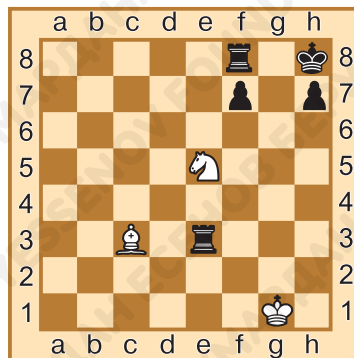
1. _____


Задание № 18

Ход белых. Поставь мат в два хода с помощью двойного шаха. Ответ запиши.

1. _____

2. _____





§ 25. Игровое занятие

Задание № 1

Могут ли тактические приёмы встретиться в окончании партии?

Ответ запиши: _____.

Задание № 2

Как называется тактический приём, при котором фигура не может сделать ход, так как прикрывает короля от шаха?

Ответ запиши: _____.

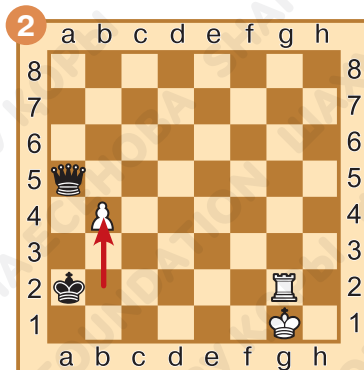

Задание № 3

Как распределяются роли фигур, если открытое нападение осуществляют ферзь и конь?

Ответ запиши: _____.

Задание № 4


Определи, какой тактический приём осуществили белые. Ответ запиши.



Задание № 5

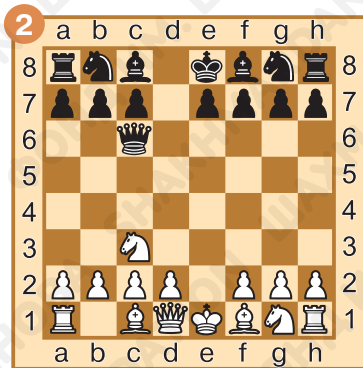

Ход белых. Выиграй материал с помощью двойного удара. Ответ запиши.

1. _____.



Задание № 6

Ход белых. Выиграй материал с помощью связки. Ответ запиши.



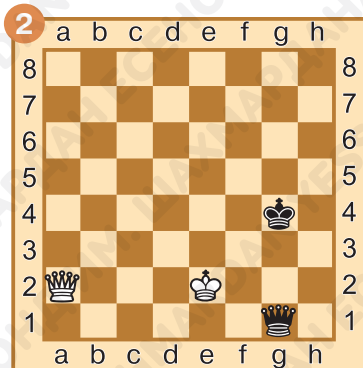
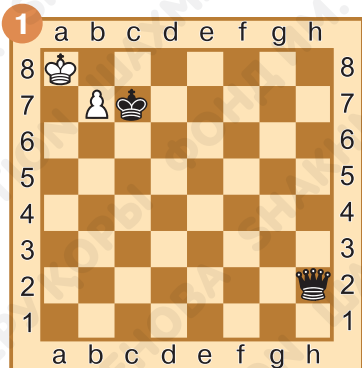
1. _____

1. _____



Задание № 7

Ход белых. Выиграй материал с помощью сквозного удара. Ответ запиши.



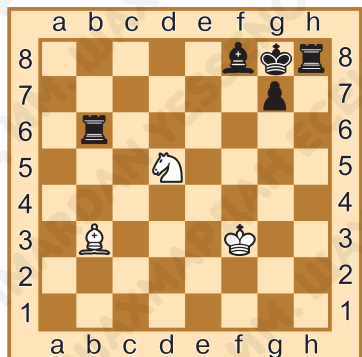

1. _____

1. _____

Задание № 8

Ход белых. Выиграй материал, используя открытый шах. Ответ запиши.

1. _____.



Задание № 9


Ход белых. Поставь мат в один ход, используя двойной шах. Ответ запиши.

1. _____.

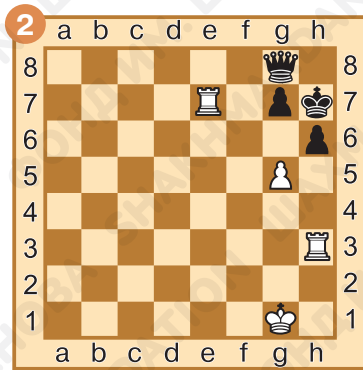


Задание № 10

Ход белых. Какой тактический приём они могут использовать, чтобы поставить мат в один ход? Ответ запиши.



1. _____



1. _____

Задание № 11


Как ты оцениваешь свою работу на уроке? Выбери ответ (зачеркни ненужное, оставь один вариант):



Домашнее задание:

Задание № 12

Могут ли два слона объявить двойной шах?



Ответ запиши:

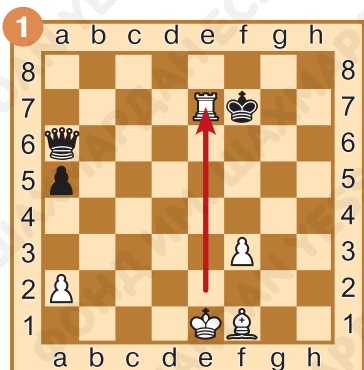
Задание № 13

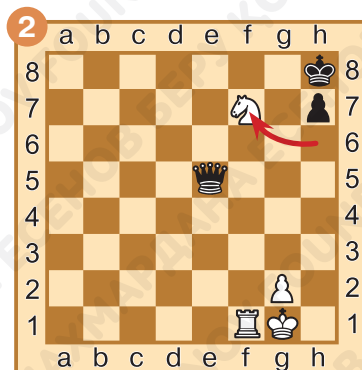
В каких тактических приёмах может участвовать пешка атакующей стороны?

Ответ запиши: _____.

Задание № 14

Определи, какой тактический приём осуществили белые. Ответ запиши.








Задание № 15

Ход белых. Поставь мат в один ход, используя один из тактических приёмов. Ответ запиши.



1. _____



1. _____



Задание № 16

Ход белых. Выиграй материал с помощью открытого нападения. Ответ запиши.



1. _____



1. _____

Задание № 17

Ход белых. Какой тактический приём они могут использовать, чтобы выиграть материал? Ответ запиши.



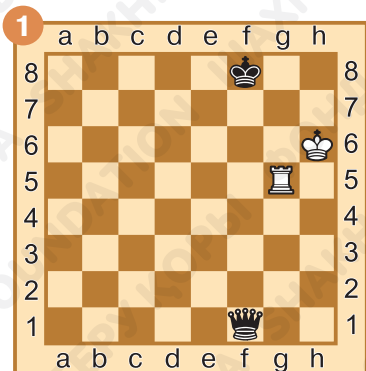
1. _____



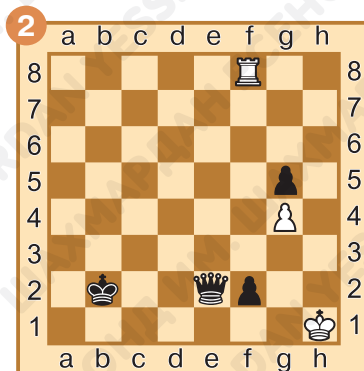
1. _____

Задание № 18

Ход белых. Какой тактический приём они могут использовать, чтобы спастись от поражения? Ответ запиши.



1. _____



1. _____



§ 26. Итоговое занятие. Выигрыш материала

Задание № 1

Как называется тактический приём, при котором одна фигура одновременно атакует два неприятельских объекта?

Ответ запиши: _____.

Задание № 2

Перечисли дальнобойные фигуры.

Ответ запиши: _____.


Задание № 3

Как называется приём, при котором сразу две фигуры объявляют шах?

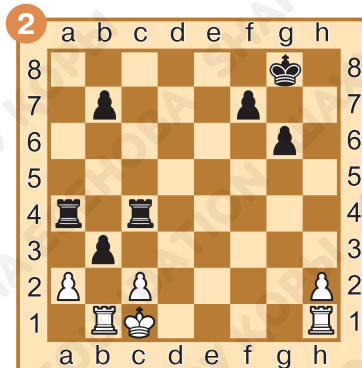
Ответ запиши: _____.

Задание № 4

Ход белых. Выиграй материал с помощью двойного удара. Ответ запиши.



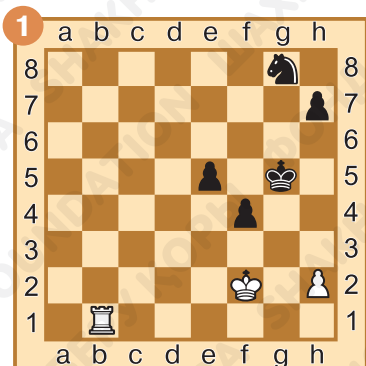
1. _____



1. _____

Задание № 5

Ход белых. Выиграй материал с помощью сквозного удара. Ответ запиши.



1. _____




1. _____

Задание № 6

Ход белых. Свяжи неприятельскую фигуру. Ответ запиши.



1. _____



1. _____

Задание № 7


Ход белых. Добейся материального преимущества с помощью открытого нападения. Ответ запиши.



1. _____



1. _____



Задание № 8

Ход белых. Поставь мат в один ход с помощью открытого шаха.

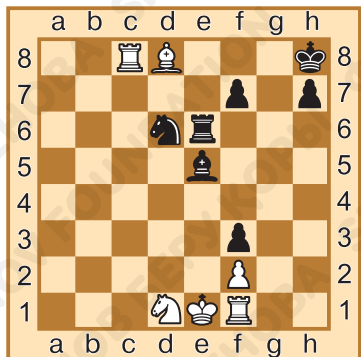
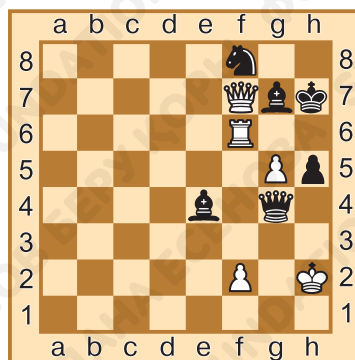
Ответ запиши.

1. _____.

Задание № 9

Ход белых. Поставь мат в один ход, используя связку. Ответ запиши.

1. _____.



Задание № 10

Ход белых. Поставь мат в один ход, используя двойной шах.

Ответ запиши.

1. _____.

Задание № 11

Как ты оцениваешь свою работу на уроке? Выбери ответ (зачеркни ненужное, оставь один вариант):



Домашнее задание:

Задание № 12

Может ли конь быть открываемой фигурой при открытом шахе?

Ответ запиши: _____.




Задание № 13

Какие фигуры могут нанести сквозной удар?

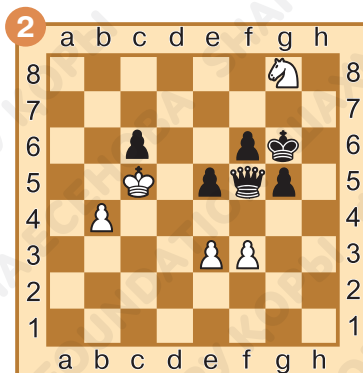
Ответ запиши: _____.

Задание № 14


Ход белых. Выиграй материал, используя двойной удар. Ответ запиши.



1. _____



1. _____



Задание № 15


Ход белых. Поставь мат в один ход, используя связку. Ответ запиши.

1. _____

Задание № 16

Ход белых. Выиграй мнимо защищённую фигуру. Ответ запиши.






1. _____

1. _____




Задание № 17

Ход белых. Поставь мат в один ход, используя открытый шах. Ответ запиши.



1. _____

1. _____



Задание № 18

Ход белых. Поставь мат в один ход, используя двойной шах.

Ответ запиши.

1. _____.

Задание № 19

Ход белых. Выиграй чёрного ферзя, сочетая два тактических приёма. Ответ запиши.



1. _____



1. _____





§ 27. Элементарные пешечные окончания. Король и пешка против короля. Правило «Квадрата»

Задание № 1

Что такое эндшпиль?

Ответ запиши: _____.

Задание № 2

Какой эндшпиль называется пешечным?

Ответ запиши: _____.

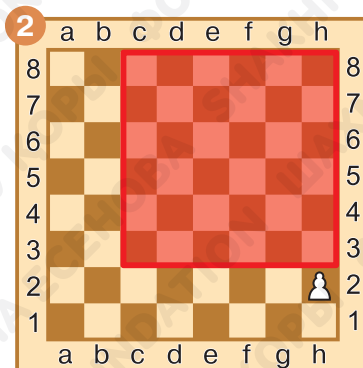
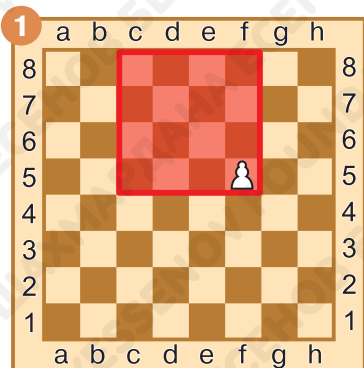
Задание № 3

Что такое квадрат пешки?

Ответ запиши: _____.

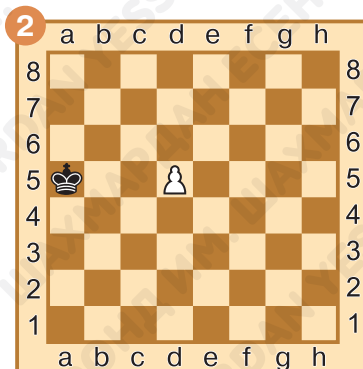
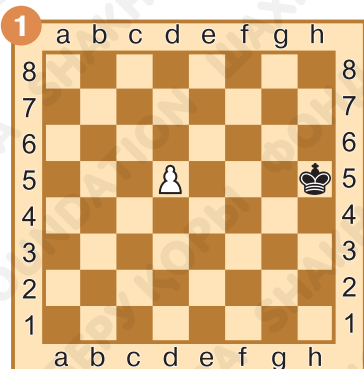
Задание № 4

Запиши угловые поля квадрата пешки.



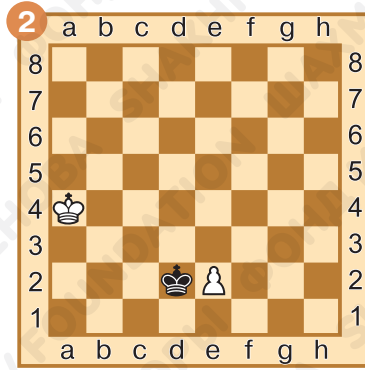
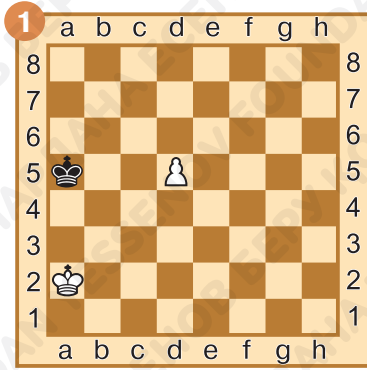
Задание № 5

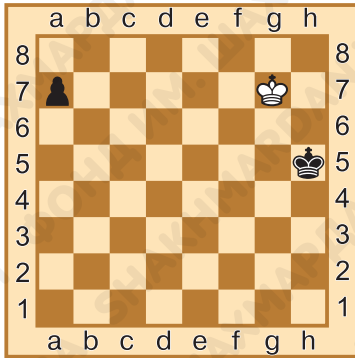
В квадрате ли пешки находится король? Ответ запиши.



Задание № 6

Ход белых. Определи результат партии. Ответ запиши.





Задание № 7

Задержи пешку, поставив короля в квадрат пешки. Ответ запиши.

1. _____

Задание № 8

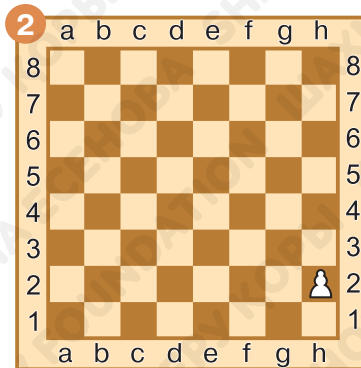
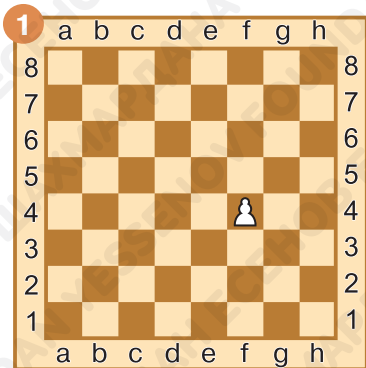
Как ты оцениваешь свою работу на уроке? Выбери ответ (зачеркни ненужное, оставь один вариант):



Домашнее задание:

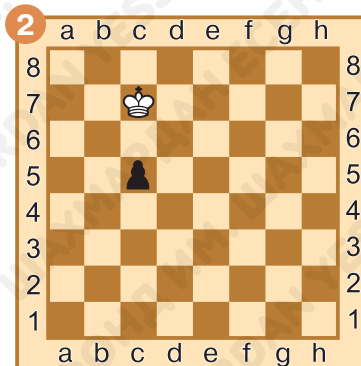
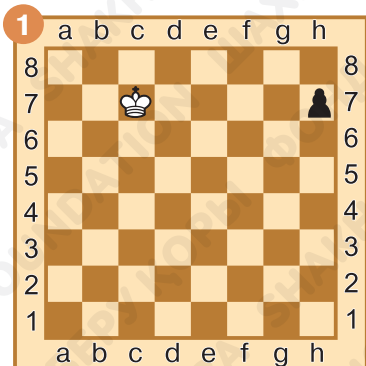
Задание № 9

Нарисуй квадрат пешки. Запиши угловые поля.



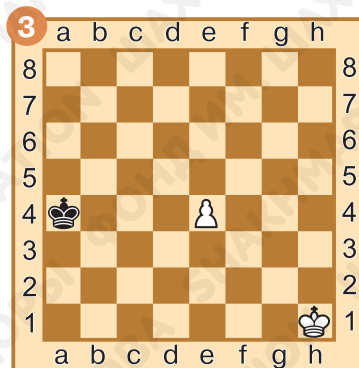

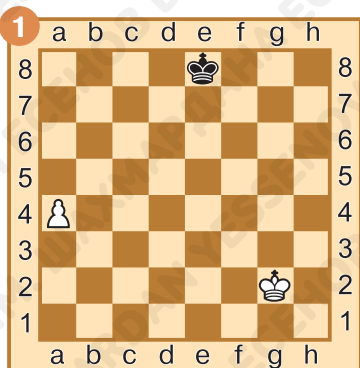
Задание № 10

В квадрате ли пешки находится король? Ответ запиши.



Задание № 11

Ход белых. Пойди пешкой, уменьшая квадрат пешки.
Определи результат партии. Ответ запиши.



1. _____.

1. _____.

1. _____.

§ 28. Элементарные пешечные окончания. Оппозиция

Задание № 1

Что такое оппозиция?

Ответ запиши: _____

_____.

Задание № 2

Дай определение термину «ключевые поля».

Ответ запиши: _____

_____.

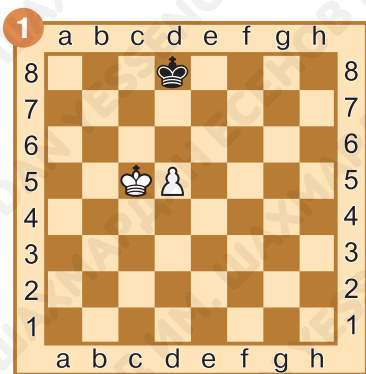
Задание № 3

Может ли пешка самостоятельно пройти в ферзи, если вражеский король находится в её квадрате?

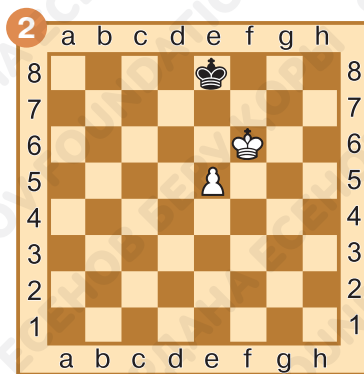
Ответ запиши: _____.

Задание № 4

Ход белых. Захвати оппозицию. Ответ запиши.



1. _____

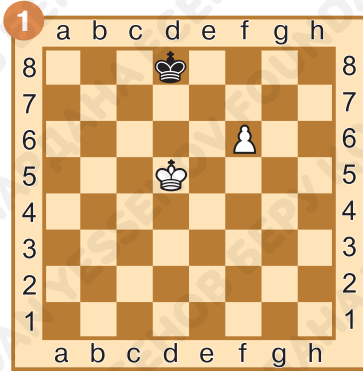


1. _____

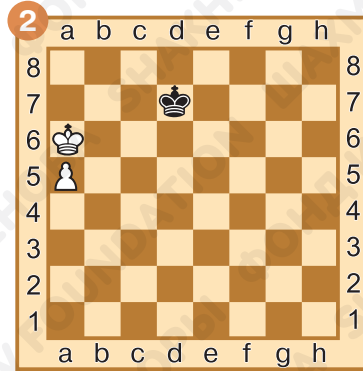


Задание № 5

Ход белых. Как лучше пойти? Ответ запиши.



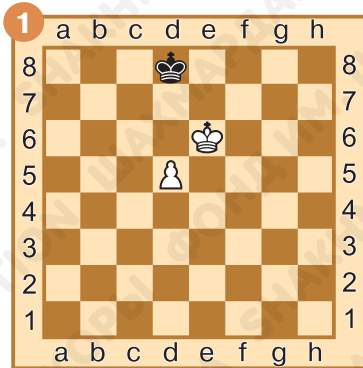
1. _____



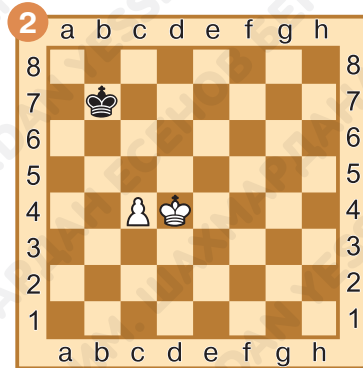
1. _____

Задание № 6

Выбери ход за белых. Верный вариант подчеркни.



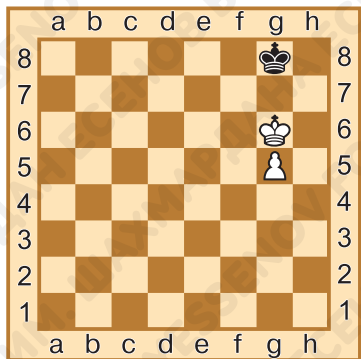
- 1) 1.Kpd6;
2) 1.d6.



- 1) 1.Kpd5;
2) 1.Kpc5;
3) 1.c5.

Задание № 7

Чем закончится партия на диаграмме? Ответ запиши.



При ходе белых

_____.

При ходе чёрных

_____.



Задание № 8

Как ты оцениваешь свою работу на уроке? Выбери ответ (зачеркни ненужное, оставь один вариант):

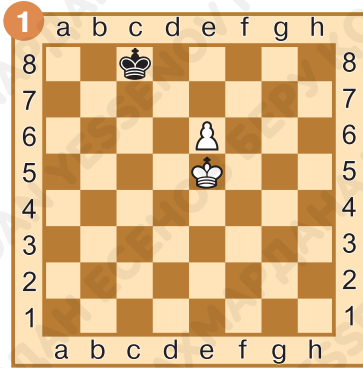


Домашнее задание:

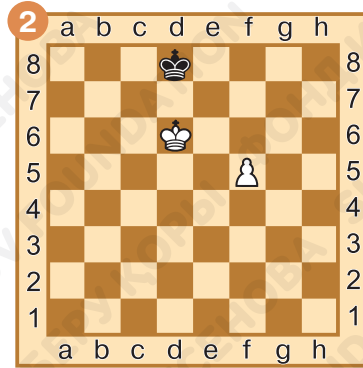
Задание № 9

Ход белых. Найди правильный путь к победе за белых.

Ответ запиши.



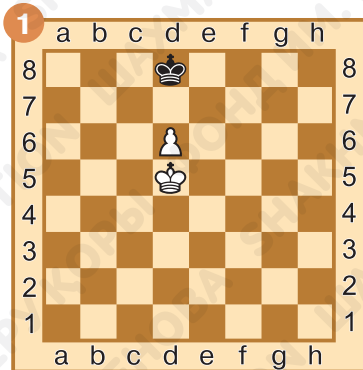
1. _____



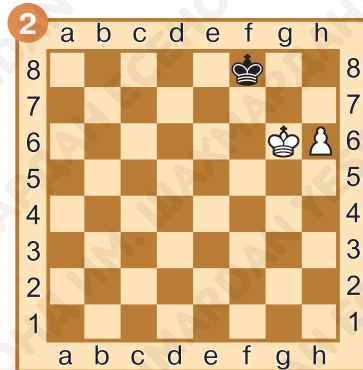
1. _____

Задание № 10

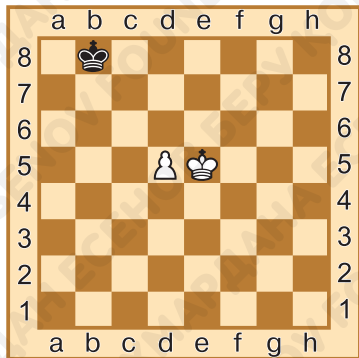
Ход чёрных. Как чёрным захватить оппозицию? Ответ запиши.



1. _____



1. _____



Задание № 11

Ход белых. Какой будет результат партии? Правильный ответ подчеркни.

1. Белые выигрывают.
2. Ничья.

§ 29. Элементарные пешечные окончания. Как провести пешку в ферзи?

Задание № 1

Что такое пешечный эндшпиль?

Ответ запиши: _____.

Задание № 2

Какой приём можно применить для проведения пешки в ферзи, если короли по какой-либо причине не участвуют в борьбе?

Ответ запиши: _____.

Задание № 3

Что такое блуждающий квадрат?


Ответ запиши: _____.

Задание № 4

Всегда ли лишней пешки в эндшпиле достаточно для победы?



Ответ запиши: _____.



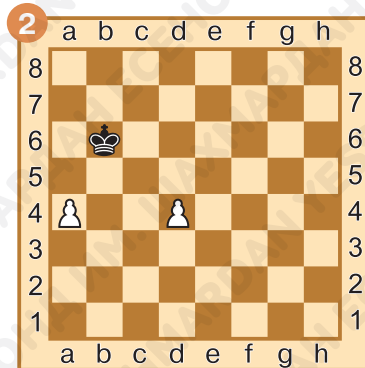
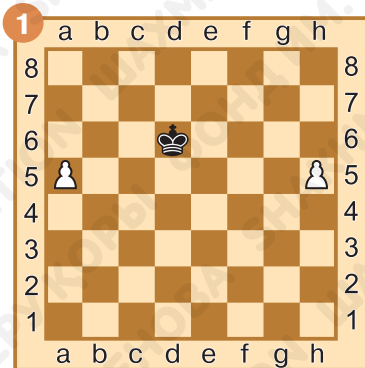
Задание № 5


Ход белых. Найди пешечный прорыв, который приводит белых к победе. Ответ запиши.

1. _____.

Задание № 6

Ход чёрных. Способен ли король остановить пешки?





Задание № 7

Способен ли белый король остановить чёрные пешки? Ответ запиши.

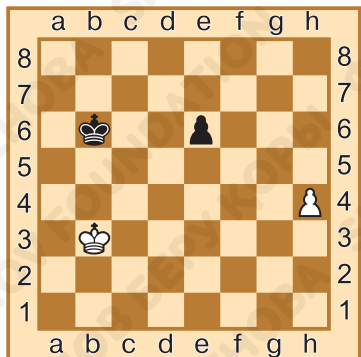
_____.

Задание № 8

Как ты оцениваешь свою работу на уроке? Выбери ответ (зачеркни ненужное, оставь один вариант):



Домашнее задание:



Задание № 9

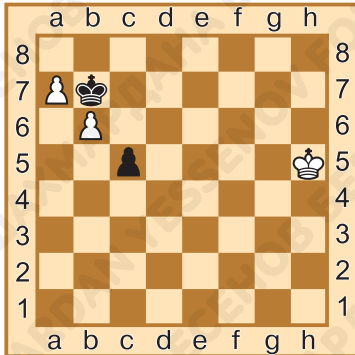
Какой король находится в квадрате пешки противника? Ответ запиши.

_____.

Задание № 10

Ход белых. Кто победит: белые или чёрные?

Ход чёрных. Кто победит: белые или чёрные?



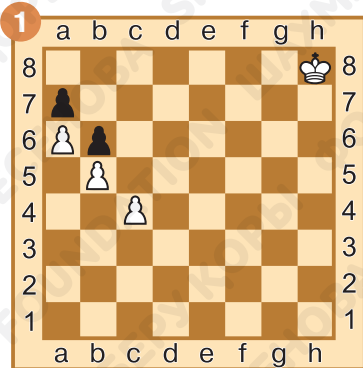
Ход белых: _____.

Ход чёрных: _____.

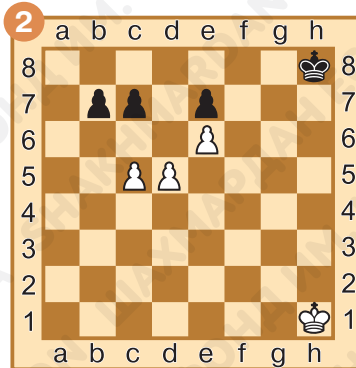


Задание № 11

Ход белых. Найди пешечный прорыв, который приводит белых к победе. Ответ запиши.




1. _____



1. _____



1. _____



§ 30. Правила игры в дебюте. Принцип быстрого развития

Задание № 1

Что называют дебютом?

Ответ запиши: _____.

Задание № 2

Какие поля составляют центр доски?

Ответ запиши: _____.

Задание № 3

Какие фигуры называются лёгкими?

Ответ запиши: _____.

Задание № 4

Какая фигура в дебюте является наиболее уязвимой?

Ответ запиши: _____.

Задание № 5

Что из перечисленного является неверным для игры в дебюте? Подчеркни, что надо исключить.

- 1) *стремление занять центр пешками;*
- 2) *ранняя рокировка;*
- 3) *выведение лёгких фигур на активные позиции;*
- 4) *проведение неподготовленных атак.*

Задание № 6

Что нежелательно делать в дебюте? Подчеркни, что надо исключить.


- 1) *захватывать центр;*
- 2) *делать рокировку;*
- 3) *выводить тяжёлые фигуры на активные позиции раньше лёгких.*



Задание № 7

Посмотри на диаграммы и догадайся, какую дебютную ошибку совершили чёрные в каждом из случаев. Ответ запиши.

_____.



Задание № 8


Как ты оцениваешь свою работу на уроке? Выбери ответ (зачеркни ненужное, оставь один вариант):



Задание № 9

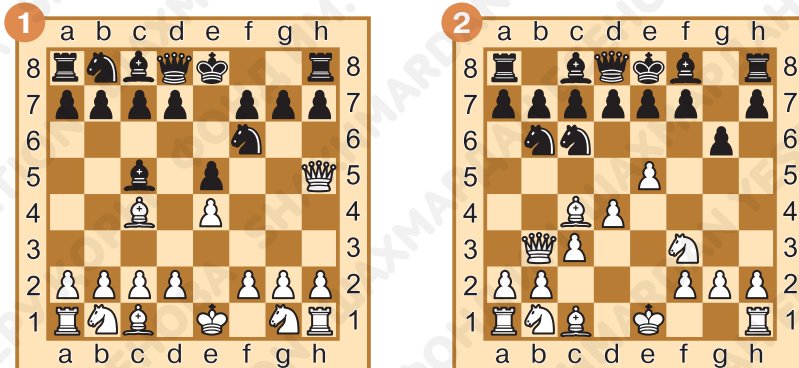
Посмотри на диаграммы и догадайся, какую дебютную ошибку совершили чёрные в каждом из случаев.

Ответ запиши.




Задание № 10

Посмотри на диаграммы и найди решающий ход белых. Ответ запиши.



1. _____

1. _____



1. _____



1. _____

§ 31. Правила игры в дебюте. Принцип борьбы за центр

Задание № 1

Какие поля составляют центр доски?

Ответ запиши: _____.

Задание № 2

Какие фигуры называются тяжёлыми?

Ответ запиши: _____.

Задание № 3

В какой части доски фигуры обладают наибольшей мобильностью?

Ответ запиши: _____.

Задание № 4

Сколько полей есть в распоряжении коня, находящегося на поле е4?

Ответ запиши: _____.

Задание № 5

Ход белых. Найди лучшее продолжение. Ответ запиши.



Задание № 6

Как ты оцениваешь свою работу на уроке? Выбери ответ (зачеркни ненужное, оставь один вариант):



Задание № 7

Ход чёрных. Найди лучшее продолжение. Ответ запиши.



1... _____

1... _____

1... _____



Задание № 8

Ход белых. Найди лучшее продолжение. Ответ запиши.



1. _____



1. _____



1. _____

§ 32. Правила игры в дебюте. Принцип безопасности короля

Задание № 1

Какая фигура самая важная в шахматах?

Ответ запиши: _____.

Задание № 2

Что такое рокировка?

Ответ запиши: _____.

Задание № 3

Почему в дебюте в центре доски король находится в опасности?

Ответ запиши: _____.

Задание № 4

К чему должен стремиться игрок, ведущий атаку на короля соперника?

Ответ запиши: _____.



Задание № 5

Ход белых. Найди лучшее продолжение. Ответ запиши.



1. _____

1. _____



1. _____



1. _____

Задание № 6

Как ты оцениваешь свою работу на уроке? Выбери ответ (зачеркни ненужное, оставь один вариант):



Домашнее задание:



Задание № 7

Ход белых. Как бы ты сыграл(а)?
 Ответ запиши.

1. _____

Задание № 8

Ход белых. Найди двойной удар. Ответ запиши.



1. _____

1. _____

1. _____



§ 33. Игровое занятие. Правила разыгрывания дебюта

Задание № 1

Перечисли основные дебютные правила. Ответ запиши:

1) _____

2) _____

3) _____

Задание № 2

Каких ошибок нужно избегать при разыгрывании дебюта? Ответ запиши:

- 1) _____.
- 2) _____.
- 3) _____.
- 4) _____.
- 5) _____.

Задание № 3

Какая фигура находится в наибольшей опасности в дебюте? Ответ запиши: _____.

Задание № 4

Каких известных казахстанских шахматистов ты знаешь? Ответ запиши: _____.

Задание № 5


Кого из чемпионов мира по шахматам ты знаешь? Ответ запиши: _____.

Задание № 6

Как ты оцениваешь свою работу на уроке? Выбери ответ (зачеркни ненужное, оставь один вариант):



Домашнее задание:



Задание № 7


Сыграй как Динара Садуакасова. Ход чёрных. Выигрыш фигуры. Ответ запиши.

1... _____.

Задание № 8

Сыграй как Гульмира Даулетова. Ход белых. Атака на чёрного короля. Ответ запиши.

1. _____.




§ 34. Итоговое занятие

Задание № 1

Какие фигуры могут поставить мат одинокому королю без помощи своего короля?

Ответ запиши:



Задание № 2

Какие роли могут выполнять фигуры при атаке на неприятельского короля?

Ответ запиши:

Задание № 3

Сколько раз в партии должна повториться одна и та же позиция, чтобы можно было потребовать ничью?

Ответ запиши:

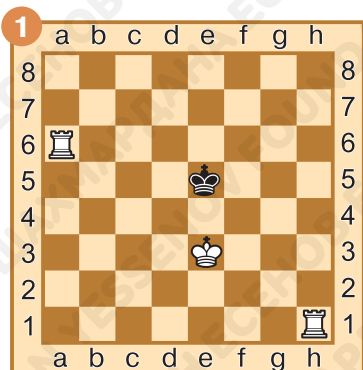
Задание № 4

Как называется тактический приём, при котором дальнобойная фигура нападает на фигуру соперника, прикрывающую собой своего короля?

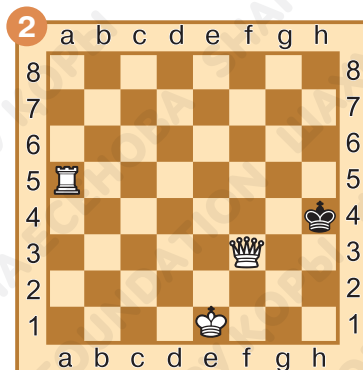
Ответ запиши:

Задание № 5

Ход белых. Поставь мат в один ход двумя тяжёлыми фигурами. Ответ запиши.



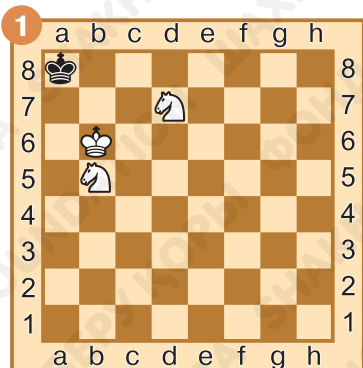
1. _____



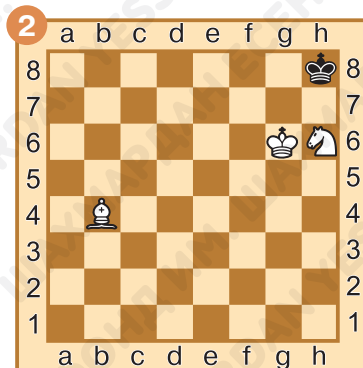
1. _____

Задание № 6

Ход белых. Поставь мат в один ход двумя лёгкими фигурами. Ответ запиши.




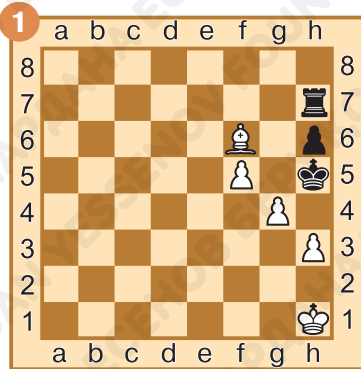
1. _____



1. _____



Задание № 7

Определи роли фигур, которые они выполняют при матовании неприятельского короля. Ответ запиши.



Задание № 8

Ход белых. Поставь мат в один ход, используя взаимодействие тяжёлых фигур. Ответ запиши.

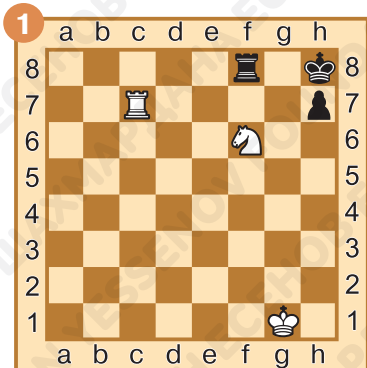


1. _____

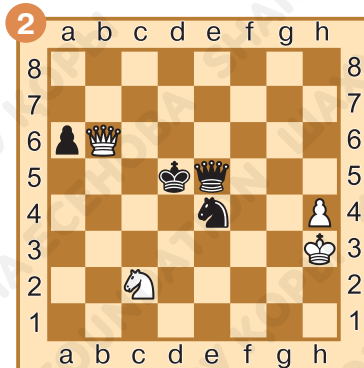
1. _____

Задание № 9

Ход белых. Поставь мат в один ход, используя взаимодействие тяжелой и легкой фигур. Ответ запиши.




1. _____



1. _____

Задание № 10

Ход белых. Выиграй материал, используя неудачное положение неприятельских фигур. Ответ запиши.




1. _____




1. _____

Задание № 11

Ход белых. Поставь мат в один ход, используя один из тактических приёмов. Ответ запиши.



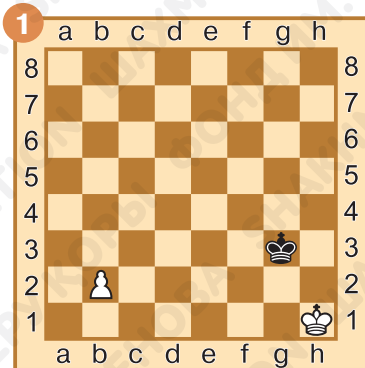
1. _____

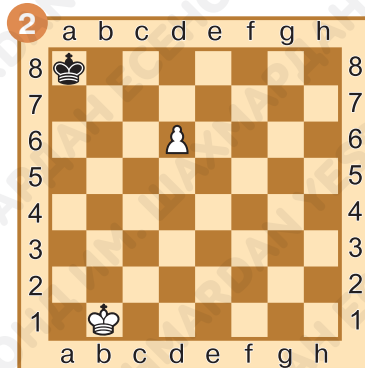


1. _____

Задание № 12

Ход белых. Сможет ли пешка пройти в ферзи? Ответ запиши.





Домашнее задание:

Задание № 13

Какими двумя лёгкими фигурами нельзя поставить мат одинокому королю?

Ответ запиши: _____.

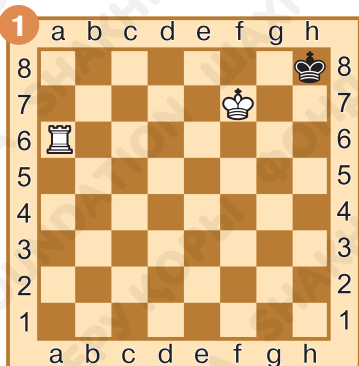

Задание № 14

Какая часть партии лучше всего подходит, для того чтобы сделать рокировку?

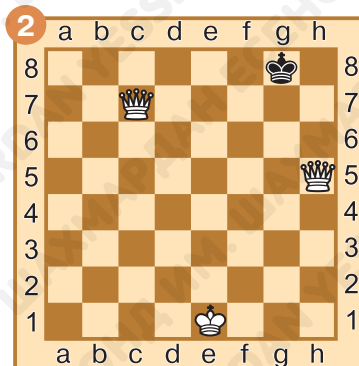
Ответ запиши: _____.

Задание № 15

Ход белых. Поставь мат в один ход одиночному королю. Ответ запиши.





1. _____



1. _____

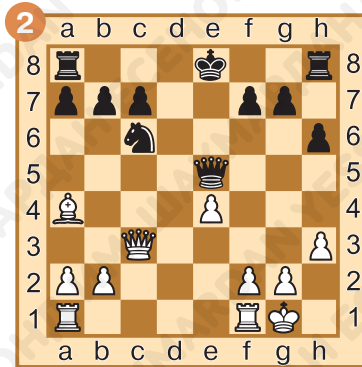
Задание № 16

Определи роли фигур, которые они выполняют при матовании неприятельского короля. Ответ запиши.



Задание № 17

Ход белых. Выиграй материал, используя один из тактических приёмов. Ответ запиши.

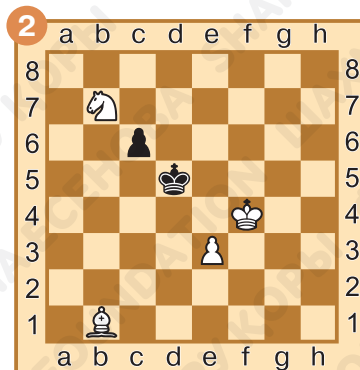
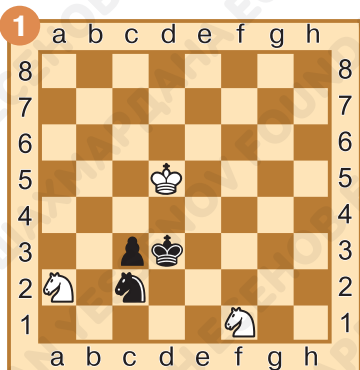


1. _____

1. _____

Задание № 18

Ход белых. Поставь мат в один ход, используя взаимодействие лёгких фигур. Ответ запиши.



1. _____

1. _____




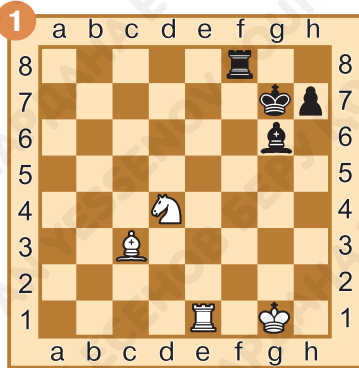
Задание № 19

Ход белых. Поставь мат в один ход, используя один из тактических приёмов. Ответ запиши.

1. _____

Задание № 20

Ход белых. Поставь мат в два хода, используя один из тактических приёмов. Ответ запиши.



1. _____
2. _____

1. _____
2. _____



Задание № 21

Какая из сторон лучше начала партию? Ответ запиши.

_____.



Заключительное слово



Дорогой друг!

Надеемся, что все задания этой рабочей тетради оказались тебе «по зубам»! Ты стал более сильным шахматистом, но и твои соперники тоже выросли вместе с тобой. И вас ждут партии посерьёзнее, чем

Заключительное слово

были до сих пор. Им, как и тебе, помогут накопленные знания и приобретённые умения. В новом учебном году мы постараемся удивить тебя, твоих товарищей и учителей новыми головоломками!

До встречи!



Учебное издание

**Даулетова Гульмира Бекзатовна
Хуснутдинов Рустам Данилович**

ШАХМАТЫ

*Рабочая тетрадь № 2 к учебному пособию
для 3 класса общеобразовательной школы*

Издание 1-е

Редакционная коллегия: С. Абрамов, В. Касаткина

Художник: О. Сидорова

Корректор: Е. Баркова

Компьютерная вёрстка: О. Сидорова

Формат 70×90 1/16. Бумага офсетная. Печать офсетная.

Гарнитура Pragmaica. Усл. печ. л. 00,00 + 0,00 форзац.

Уч.-изд. 00,00 + 0,00 форзац.

Тираж 1000 экз.

Научно-образовательный фонд им. Академ. Шахмардана Есенова,
050040, г. Алматы, пр. Аль-Фараби, 36.



ISBN 978-601-60740-2-8



9 786018 074028 >